



ESCOLA MUNICIPAL: E.M "BAIRRO MANUEL CLEMENTE" _____
NOME DO ALUNO: _____
DATA: ___/___/2021
ANO/SÉRIE: FASE II _____ PROFº: TATIANE _____

ATIVIDADES



NOME DO ALUNO:

ATIVIDADES DO PERÍODO DE 01/12 A 14/02.

RETIRADA: 01/12


ENTREGA: 14/12

ROTEIRO E REFERÊNCIAS EM ANEXO



ESCOLA MUNICIPAL: E.M "BAIRRO MANUEL CLEMENTE"
NOME DO ALUNO: _____
DATA: ___/___/2021
ANO/SÉRIE: FASE II _____ PROFº: TATIANE _____

1 – ENCONTRE A LETRA INICIAL DO SEU NOME E PINTE – A DA COR VERDE.



<https://br.pinterest.com/pin/177540410298741007/>





























ESCOLA MUNICIPAL: E.M. "BAIRRO MANUEL CLEMENTE" _____

NOME DO ALUNO: _____

DATA: ___/___/2021

ANO/SÉRIE: FASE II _____ PROFº: TATIANE _____

2 – CUBRA O TRACEJADO DAS LETRAS DO ALFABETO.

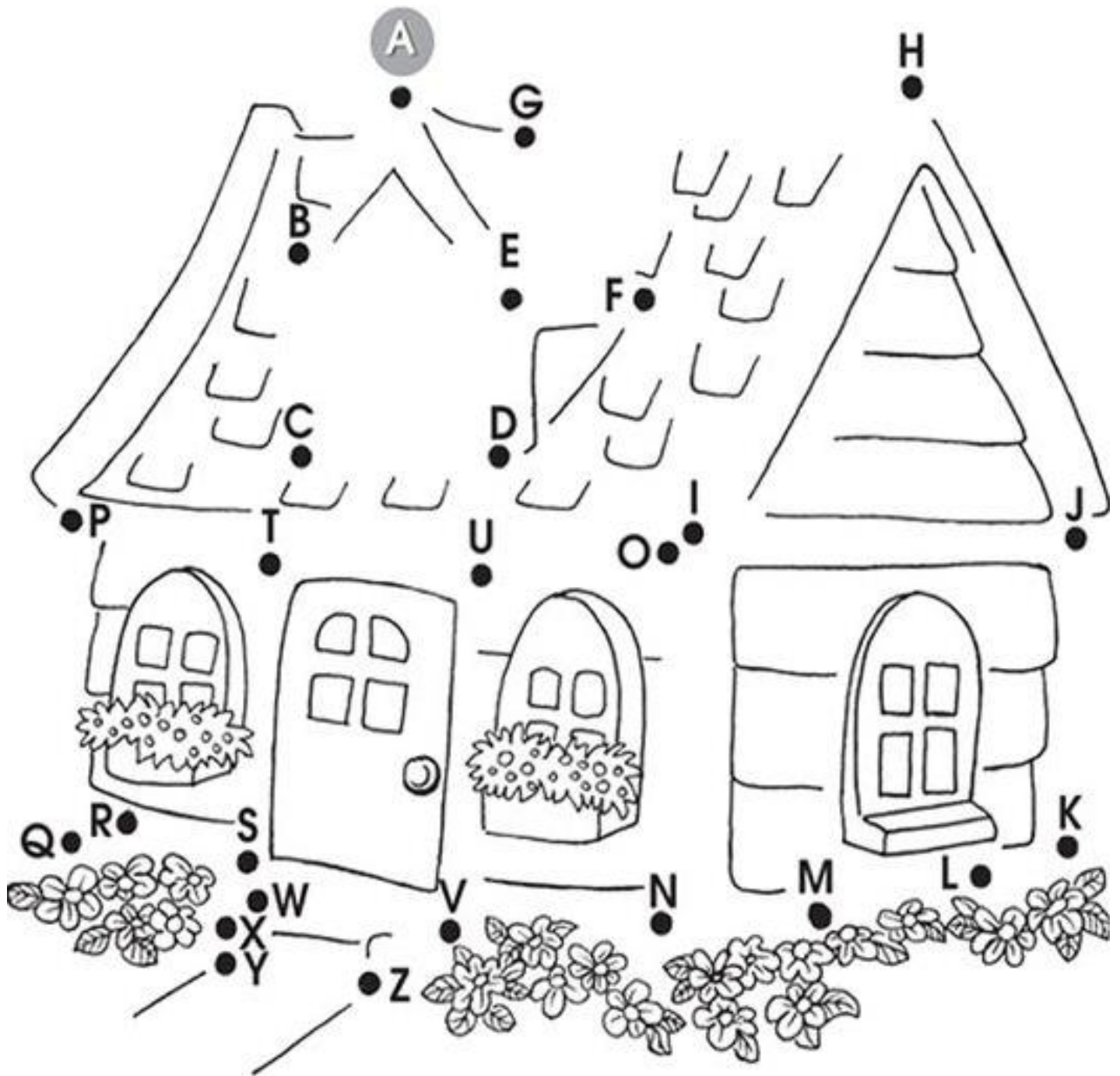
A		A	A	A	N		N	N	N
B		B	B	B	O		O	O	O
C		C	C	C	P		P	P	P
D		D	D	D	Q		Q	Q	Q
E		E	E	E	R		R	R	R
F		F	F	F	S		S	S	S
G		G	G	G	T		T	T	T
H		H	H	H	U		U	U	U
I		I	I	I	V		V	V	V
J		J	J	J	W		W	W	W
K		K	K	K	X		X	X	X
L		L	L	L	Y		Y	Y	Y
M		M	M	M	Z		Z	Z	Z

<https://atividadesprofessores.com.br/alfabeto-pontilhado-para-colorir-para-imprimir/>



ESCOLA MUNICIPAL: E.M "BAIRRO MANUEL CLEMENTE"
NOME DO ALUNO: _____
DATA: ___/___/2021
ANO/SÉRIE: FASE II _____ PROFº: TATIANE _____

3 – LIGUE OS PONTINHOS SEGUINDO AS LETRAS DO ALFABETO E COMPLETE O DESENHO E EM SEGUIDA PINTE – O.



<https://br.pinterest.com/pin/106819822391812117/>




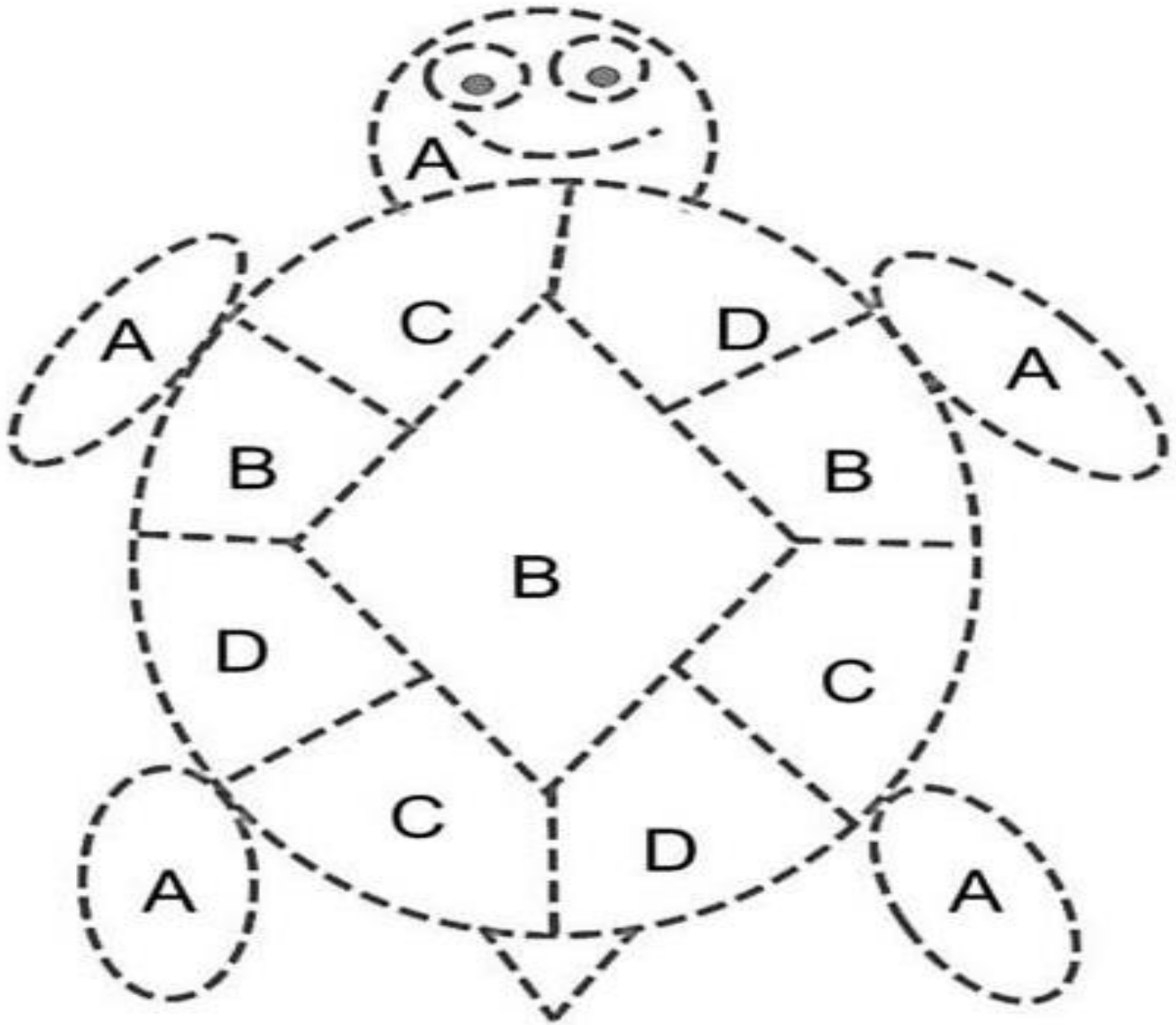
ESCOLA MUNICIPAL: E.M. "BAIRRO MANUEL CLEMENTE" _____

NOME DO ALUNO: _____

DATA: ___/___/2021

ANO/SÉRIE: FASE II _____ PROFº: TATIANE _____

4 - COLORIR DE ACORDO COM A LEGENDA.



AMARELO



VERMELHO



AZUL



VERDE

<https://br.pinterest.com/pin/861665341209240562/>



ESCOLA MUNICIPAL: E.M "BAIRRO MANUEL CLEMENTE" _____

NOME DO ALUNO: _____

DATA: ___/___/2021

ANO/SÉRIE: FASE II _____ PROFº: TATIANE _____



5 – ESCRVA SEU NOME E DEPOIS RECORTE E COLE AS LETRINHAS FORMANDO O SEU NOME.

VOU PROCURAR AS LETRINHAS DO MEU NOME EM REVISTAS E COLAR AQUI! VAI SER LEGAL!

TAMBÉM JÁ SEI CONTAR! O MEU NOME TEM...

QUANTAS VOGAIS?

QUANTAS CONSOANTES?






AS LETRAS PARA RECORTAR ESTA NO FINAL DA APOSTILA.

<https://br.pinterest.com/pin/741757001102007402/>



ESCOLA MUNICIPAL: E.M "BAIRRO MANUEL CLEMENTE" _____
NOME DO ALUNO: _____
DATA: ___/___/2021
ANO/SÉRIE: FASE II _____ PROFº: TATIANE _____

6 – SOME E REGISTRE AS QUANTIDADES.



AGORA COMPLETE:

0 - 1 - - 3 - - 5 - 6 - - 8 - - 10

<https://www.google.com/search?q=ATIVIDADE+SOMA+PARA+EDUCA%C3%87%C3%83O+>



ESCOLA MUNICIPAL: E.M "BAIRRO MANUEL CLEMENTE" _____

NOME DO ALUNO: _____

DATA: ___/___/2021

ANO/SÉRIE: FASE II _____ PROFº: TATIANE _____

7 – EFETUE A ADIÇÃO SOMANDO AS BOLINHAS DE CADA JOANINHA E ESCREVA O RESULTADO.




<https://br.pinterest.com/pin/166773992430341945/>



ESCOLA MUNICIPAL: E.M "BAIRRO MANUEL CLEMENTE" _____
NOME DO ALUNO: _____
DATA: ___/___/2021
ANO/SÉRIE: FASE II _____ PROFº: TATIANE _____

8 – RESOLVA O PROBLEMINHA.



QUANTOS ANIMAIS VOCE PODE VER DENTRO DA ARCA?

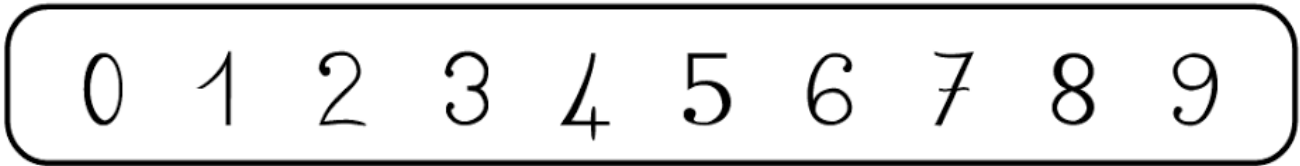
QUANTOS ANIMAIS VOCÊ PODE VER FORA DA ARCA?





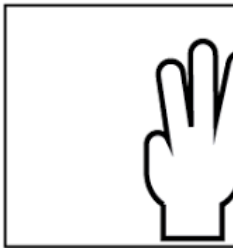










<https://br.pinterest.com/pin/8303580552642562/>



ESCOLA MUNICIPAL: E.M "BAIRRO MANUEL CLEMENTE" _____
NOME DO ALUNO: _____
DATA: ___/___/2021
ANO/SÉRIE: FASE II _____ PROFº: TATIANE _____

9 – SOME COM OS DEDINHOS E COLOQUE OS RESPECTIVOS NÚMEROS.












				
<input data-bbox="204 851 386 981" type="text"/>		<input data-bbox="632 851 813 981" type="text"/>		<input data-bbox="1107 851 1289 981" type="text"/>
				
<input data-bbox="204 1292 386 1422" type="text"/>		<input data-bbox="632 1292 813 1422" type="text"/>		<input data-bbox="1107 1292 1289 1422" type="text"/>
				
<input data-bbox="204 1733 386 1863" type="text"/>		<input data-bbox="632 1733 813 1863" type="text"/>		<input data-bbox="1107 1733 1289 1863" type="text"/>

<https://www.soescola.com/2017/02/somando-com-os-dedinhos-atividades-de-matematica.html>



ESCOLA MUNICIPAL: E.M "BAIRRO MANUEL CLEMENTE"
NOME DO ALUNO: _____
DATA: ___/___/2021
ANO/SÉRIE: FASE II _____ PROFº: TATIANE _____




10 – COMPLETE AS PEÇAS DO DOMINÓ DE MODO QUE A SOMA TOTAL SEJA A MESMA QUE APARECE NO CASCO DA TARTARUGA.





ESCOLA MUNICIPAL: E.M "BAIRRO MANUEL CLEMENTE"
NOME DO ALUNO: _____
DATA: ___/___/2021
ANO/SÉRIE: FASE II _____ PROFº: TATIANE _____

11 – LIGUE DE ACORDO COM AS QUANTIDADES.



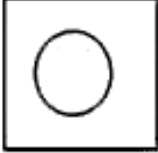




<https://amomatemacainfantil.blogspot.com/2012/11/atividade-natalina-numero-e-quantidade.html>



ESCOLA MUNICIPAL: E.M "BAIRRO MANUEL CLEMENTE" _____
NOME DO ALUNO: _____
DATA: ___/___/2021
ANO/SÉRIE: FASE II _____ PROFº: TATIANE _____

12 – REGISTRE A QUANTIDADE DE CADA ITEM QUE CONTEM NA ÁRVORE.



	<input type="text"/>
	<input type="text"/>
	<input type="text"/>
	<input type="text"/>
	<input type="text"/>



ESCOLA MUNICIPAL: E.M "BAIRRO MANUEL CLEMENTE" _____
NOME DO ALUNO: _____
DATA: ___/___/2021
ANO/SÉRIE: FASE II _____ PROFº: TATIANE _____

13 – DESENHE A QUANTIDADE DE BOLAS INDICADAS NOS QUADRINHOS.



3



2



1



4



5

- ESCREVA OS NUMERAIS NA SEQUENCIA DE 1 A 5:



ESCOLA MUNICIPAL: E.M "BAIRRO MANUEL CLEMENTE" _____
NOME DO ALUNO: _____
DATA: ___/___/2021
ANO/SÉRIE: FASE II _____ PROFº: TATIANE _____

14 – MÚSICA: CANTE COM A FAMÍLIA.

Então é Natal

Arthur

Então é Natal
E o que você fez?
O ano termina
E nasce outra vez

Então é Natal
A festa cristã
Do velho e do novo
Do amor como um todo

Então, bom Natal
E um Ano Novo também
Que seja feliz quem
Souber o que é o bem

E então é Natal
Pro enfermo e pro são
Pro rico e pro pobre
Num só coração

Então, bom Natal
Pro branco e pro negro
Amarelo e vermelho
Pra paz, afinal
Então, bom Natal
E um Ano Novo também
Que seja feliz quem
Souber o que é o bem

Então é Natal
E o que a gente fez?
O ano termina
E começa outra vez

Então é Natal
A festa cristã
Do velho e do novo
Do amor como um todo
Então, bom Natal
E um Ano Novo também
Que seja feliz quem
Souber o que é o bem

Here rama a quem ama
Here rama

Então é natal
E o que você faz?
O ano termina
E nasce outra faz

Hiroshima Nagasaki Mururoa
É natal
É natal
É natal

Hiroshima Nagasaki Mururoa
É natal
É natal
É natal



ESCOLA MUNICIPAL: E.M "BAIRRO MANUEL CLEMENTE" _____
NOME DO ALUNO: _____
DATA: ___/___/2021
ANO/SÉRIE: FASE II _____ PROFº: TATIANE _____

15 – PINTE E MONTE A ARVORE DE NATAL BEM BONITA.



<https://profissaomestre.com.br/atividades-de-natal/>



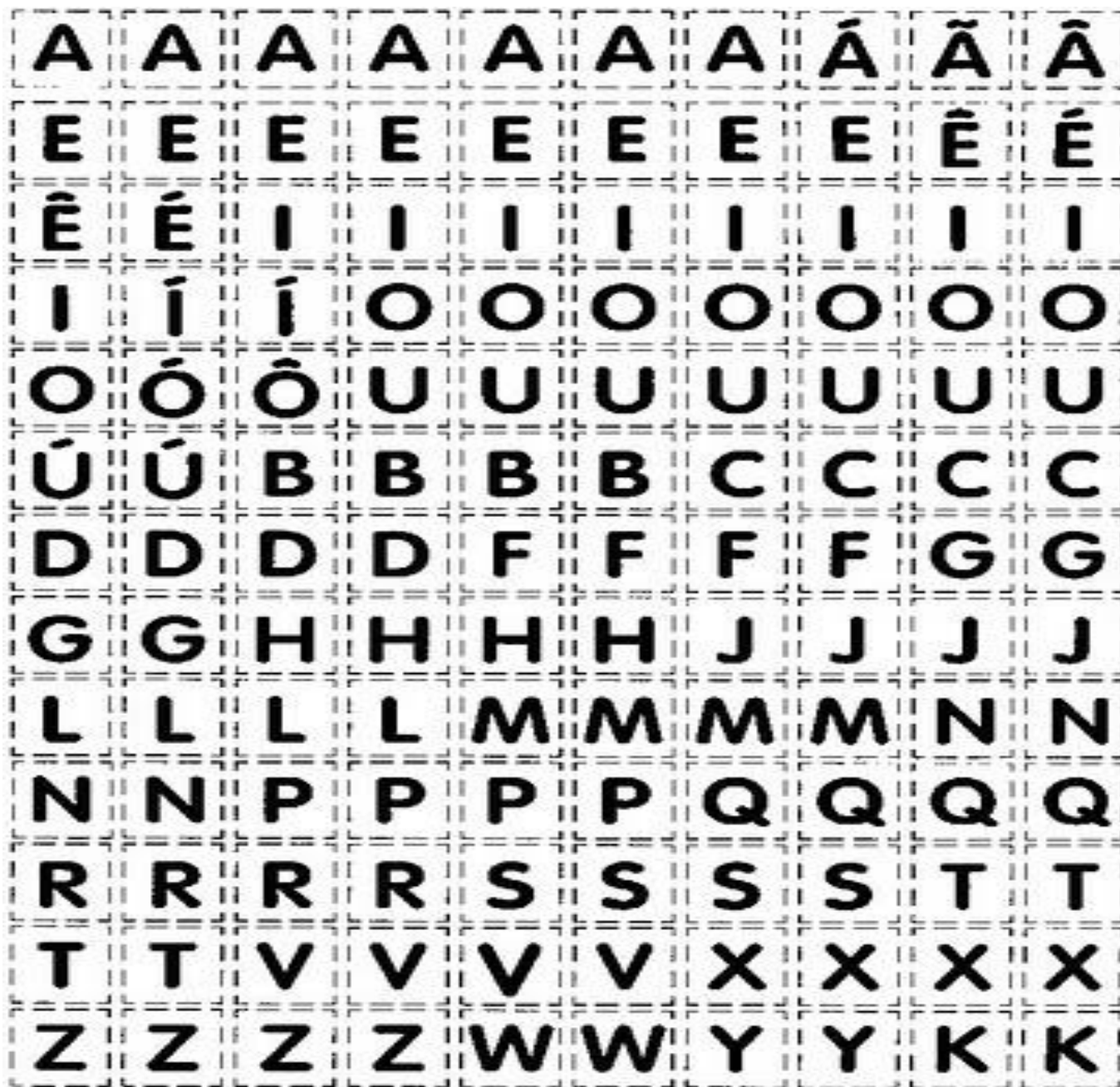
ESCOLA MUNICIPAL: E.M "BAIRRO MANUEL CLEMENTE" _____

NOME DO ALUNO: _____

DATA: ___/___/2021

ANO/SÉRIE: FASE II _____ PROFº: TATIANE _____

16 – RECORTE AS LETRAS PARA COLAR NA ATIVIDADE 5.





ESCOLA MUNICIPAL: E.M "BAIRRO MANUEL CLEMENTE" _____

NOME DO ALUNO: _____

DATA: ___/___/2021

ANO/SÉRIE: FASE II _____ PROFº: TATIANE _____

17 – HORA DA DIVERSÃO.

RECEITA DE MASSINHA DE MODELAR CASEIRA

Ingredientes:

4 colheres de sopa de farinha de trigo;
3 colheres de sopa de água;
1 colher de sopa de sal;
1 colher de sopa de vinagre;
1 colher de sopa de guache na cor que preferir
(pode ser substituída por anilina comestível).

Modo de fazer:

Misture todos os ingredientes numa bacia.
Depois amasse com as mãos até a massa ficar
bem lisinha.



<https://br.pinterest.com/pin/632544710134674976/>



ESCOLA MUNICIPAL: E.M "BAIRRO MANUEL CLEMENTE" _____

NOME DO ALUNO: _____

DATA: ___/___/2021

ANO/SÉRIE: FASE II _____ PROFº: TATIANE _____

18 – PINTE E MONTE UM JOGO DA MEMÓRIA.




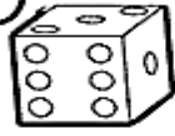



















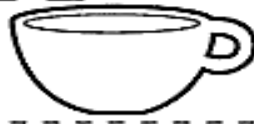



PARA DEIXAR MAIS ESTRUTURADO COLE UM PAPELÃO EM CADA PEÇA.





ESCOLA MUNICIPAL: E.M "BAIRRO MANUEL CLEMENTE" _____
NOME DO ALUNO: _____
DATA: ___/___/2021
ANO/SÉRIE: FASE II _____ PROFº: TATIANE _____

PARTE DO JOGO DA MEMÓRIA.

A 	B 	C 	D 
E 	F 	G 	H 
I 	J 	K 	L 
M 	N 	O 	P 
Q 	R 	S 	T 
U 	V 	W 	X 
Y 	Z 		www.smartkids.com.br



ESCOLA MUNICIPAL: E.M "BAIRRO MANUEL CLEMENTE" _____

NOME DO ALUNO: _____

DATA: ___/___/2021

ANO/SÉRIE: FASE II _____ PROFº: TATIANE _____

19 – PARA BRINCAR EM FAMÍLIA.

Achei o meu par de sapatos!



- 1- Forme duas equipes.
- 2- Os jogadores tiram os sapatos, que são recolhidos, embaralhados e enfileirados a uma distância de uns dez metros do grupo.
- 3- Após o apito, os jogadores deem correr para encontrarem o seu par de sapatos, calçando-os em seguida. Feito isso, voltam ao ponto de partida, pulando.
- 4- Quem calçar sapatos trocados, ou não os calçar direito, será desclassificado.
- 5- Cada jogador que retornar à linha de partida, e não for desclassificado, marcará um ponto para a equipe.
- 6- Ganha a equipe que conquistar o maior número de pontos.

<https://br.pinterest.com/pin/632544710134674976/>