



E.M. BAIRRO MANUEL CLEMENTE.

PROFESSORA: Marcia Aguiar

ANO: 2º A

ALUNO: \_\_\_\_\_

## ATIVIDADES DE LÍNGUA PORTUGUESA E MATEMÁTICA

© Ideias e palavras

# MINHAS ATIVIDADES



NOME: \_\_\_\_\_

### APOSTILA 15

ATIVIDADES DO PERÍODO DE 01/12/21 A 14/12/21

ENTREGA AOS PAIS: 30/11/21

DEVOLUÇÃO DA APOSTILA NA UNIDADE

ESCOLAR: 13 E 14/12/21





E.M. BAIRRO MANUEL CLEMENTE.

PROFESSORA: Marcia Aguiar

ANO: 2º A

ALUNO: \_\_\_\_\_

<b>DIA</b>	<b>DESCRIÇÃO</b>	<b>PÁGINA</b>
01/12	COMPLETE AS PALAVRAS COM NU-NO-NE /REESCREVA AS PALAVRAS ,ORGANIZANDO NAS COLUNAS ARTE: COLORIR O TEMA DE NATAL.	03 E 04
02/12	LISTA DE COMPRAS,REALIZAR A LEITURA E RESPONDER OS EXERCÍCIOS.	05 E 06
03/12	LINGUA PORTUGUESA E MATEMÁTICA: LEIA AS PALAVRAS E COMPLETE O QUADRO COMO NO EXEMPLO	07
06/12	LINGUA PORTUGUESA E MATEMÁTICA: LEITURA E EXERCÍCIOS SOBRE DIAS DA SEMANA.	08
07/12	CAÇA PALAVRAS E COMPLETE A SEQUÊNCIA NUMÉRICA.	09 E 10
08/12	TROQUE OS NÚMEROS PELAS SÍLABAS CORRESPONDENTES E DESCUBRA OS NOMES.	11
09/12	CAÇA PALAVRAS DAS PROFISSÕES E COLOQUE OS NÚMEROS EM ORDEM CRESCENTE	12 E 13
10/12	COMPLETE O GRÁFICO E RESPONDA AS PERGUNTAS	14
13/12	CANTAGEM DAS FÍGURAS DE NATAL E REGISTRE.	15
14/12	COLORIR BEM BONITO O DESENHO DO TEMA :NATAL.	16





E.M. BAIRRO MANUEL CLEMENTE.

PROFESSORA: Marcia Aguiar






ANO: 2º A

ALUNO: \_\_\_\_\_

DAT: 01/12

LÍNGUA PORTUGUESA

1) COMPLETE AS PALAVRAS COM **NU-NO-NE**

 __BLADO	 __VELO	 __VE	 __VEM	 __IVA
--	---	--	--	--

2) REESCREVA AS PALAVRAS, ORGANIZANDO-AS NAS COLUNAS CORRESPONDENTE À SUA SÍLABA INICIAL.

NUVEM	NATUREZA	NETO	
NARIZ	NINHO	NOVELA	
NEVE	NOITE	NUCA	NINJA

NA	NE	NI	NO	NU





E.M. BAIRRO MANUEL CLEMENTE.

PROFESSORA: Marcia Aguiar

ANO: 2º A

ALUNO: \_\_\_\_\_

DATA: 01/12

ARTE  
COLORIR

Um Feliz Natal!







E.M. BAIRRO MANUEL CLEMENTE.

PROFESSORA: Marcia Aguiar

ANO: 2º A

ALUNO: \_\_\_\_\_

DATA: 02/12

## LÍNGUA PORTUGUESA

Leia com atenção a lista de compras abaixo e classifique na tabela abaixo

SAL	BOM BRIL	PASTA DE DENTE
ARROZ	LEITE	AÇUCAR
PÓ DE CAFÉ	SABONETE	COLORO
SABÃO EM PÓ	ARROZ	MACARRÃO
MARGARINA	PERFUME	DESINFETANTE
TRIGO	BOLACHA	FEIJÃO
CARNE	DETERGENTE	SALCICHA

Separe os produtos de higiene pessoal, limpeza e alimentícios.

Higiene pessoal	Alimentos	Limpeza

Escreva a sua lista de compras

---

---

---

---

---

---

---

---





E.M. BAIRRO MANUEL CLEMENTE.


PROFESSORA: Marcia Aguiar

ANO: 2º A

ALUNO: \_\_\_\_\_

DATA: 02/12

MATEMÁTICA



SÉRGIO



PAULA



HUGO

Qual criança tem mais dinheiro? \_\_\_\_\_

Qual tem menos? \_\_\_\_\_

Quanto Paula tem? \_\_\_\_\_

Quanto Sérgio tem a mais que Paula? \_\_\_\_\_

Quanto têm os três meninos juntos? \_\_\_\_\_

O que você compraria se tivesse o dinheiro de Hugo?

\_\_\_\_\_





E.M. BAIRRO MANUEL CLEMENTE.

PROFESSORA: Marcia Aguiar

ANO: 2º A

ALUNO: \_\_\_\_\_

DATA; 03/12

LÍNGUA PORTUGUESA / MATEMÁTICA

- 1) LEIA AS PALAVRAS ABAIXO. EM SEGUIDA, REESCREVA-AS NA COLUNA CORRESPONDENTE À SUA SÍLABA INICIAL.

CUTIA	CORRE	CASA
CAIU	CORAÇÃO	CIPÓ

CA	CI	CO	CU
	-----		-----

- 2) COMPLETE O QUADRO DE ACORDO COM O EXEMPLO.

PALAVRA	LETRA INICIAL	LETRA FINAL	TOTAL DE LETRAS
CASA	C	A	4
CAIU			
CIPÓ			
CORAÇÃO			
CORRE			
CUTIA			





E.M. BAIRRO MANUEL CLEMENTE.

PROFESSORA: Marcia Aguiar

ANO: 2º A

ALUNO: \_\_\_\_\_


DATA: 06/12

LÍNGUA PORTUGUESA / MATEMÁTICA

## DIAS DA SEMANA

1. OBSERVE UM CALENDÁRIO E COMPLETE O QUADRO A SEGUIR.

ORDEM DOS DIAS	DIA DA SEMANA
1º DIA	DOMINGO
2º DIA	
3º DIA	
4º DIA	
5º DIA	
6º DIA	
7º DIA	



2. QUANTOS DIAS TEM UMA SEMANA?

3. EM QUE DIA A SEMANA SE ENCERRA?

4. EM QUE DIA A SEMANA SE INICIA?

5. QUAIS DIAS FORMAM O FINAL DE SEMANA?





E.M. BAIRRO MANUEL CLEMENTE.

PROFESSORA: Marcia Aguiar

ANO: 2º A

ALUNO: \_\_\_\_\_

DATA: 07/12

## LÍNGUA PORTUGUESA

### ENCONTRE NO CAÇA PALAVRAS

SOL DORMIR ACORDAR FORMIGA DIA  
GATO CORUJA NOITE ANDORINHA CACHORRO

A	B	A	C	O	R	D	A	R	J
C	A	N	D	O	R	I	N	H	A
O	D	M	A	D	E	I	R	A	O
R	D	O	R	M	I	R	S	F	L
U	G	H	I	J	K	L	M	N	N
J	O	P	V	I	D	D	Q	R	O
A	S	T	U	V	W	I	Z	Y	I
F	O	R	M	I	G	A	G	H	T
B	J	G	A	T	O	V	Y	J	E
C	A	C	H	O	R	R	O	L	W





E.M. BAIRRO MANUEL CLEMENTE.

PROFESSORA: Marcia Aguiar

ANO: 2º A

ALUNO: \_\_\_\_\_

DATA: 07/12

MATEMÁTICA

## COMPLETE A SEQUÊNCIA NUMÉRICA:

1					6				10
	12			15			18		
		23	24			27			30
	32		34					39	
41				45		47			50
		53			56			59	
	62		64			67			
71				75			78		80
	82		84				88	89	
		93			96	97			100





E.M. BAIRRO MANUEL CLEMENTE.

PROFESSORA: Marcia Aguiar

ANO: 2º A

ALUNO: \_\_\_\_\_

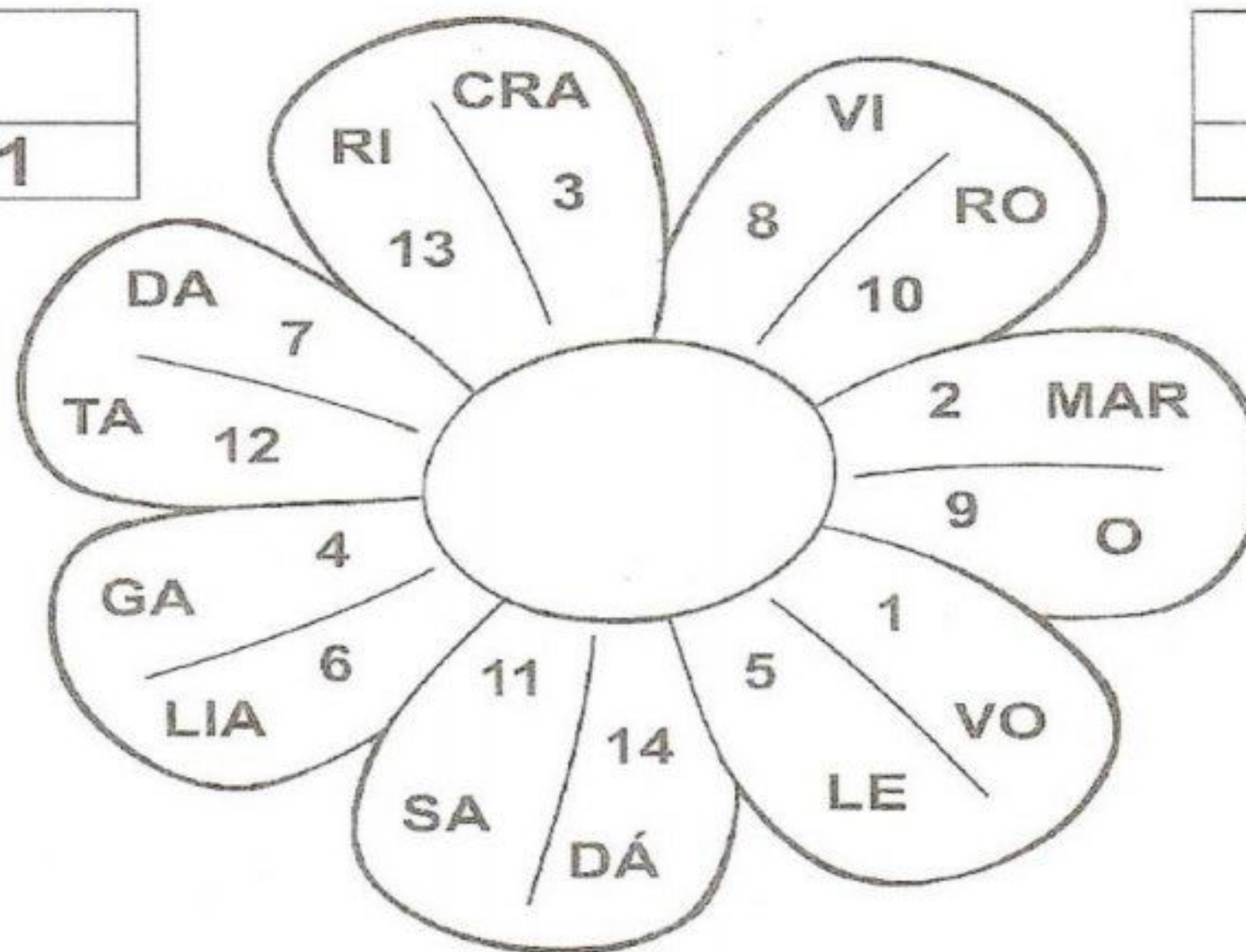
DATA: 08/12

LÍNGUA PORTUGUESA / MATEMÁTICA

**TROQUE OS NÚMEROS PELAS SÍLABAS  
CORRESPONDENTES E DESCUBRA O NOME  
DAS FLORES.**

3	1

10	11



14	6

2	4	13	7

8	9	5	12





E.M. BAIRRO MANUEL CLEMENTE.

PROFESSORA: Marcia Aguiar

ANO: 2º A

ALUNO: \_\_\_\_\_

DATA: 09/12

LÍNGUA PORTUGUESA

ENCONTRE AS PROFISSÕES NO CAÇA-PALAVRAS

C	A	N	T	O	R	J	M	P	G
K	V	E	L	P	I	N	T	O	R
O	O	P	A	R	I	J	C	N	C
Y	M	E	C	A	N	I	C	O	O
B	O	L	T	F	V	Y	N	O	D
N	O	K	F	E	P	L	I	R	E
T	E	C	F	A	D	E	I	R	O
P	C	D	L	S	T	F	O	A	H
P	R	O	F	E	S	S	O	R	P
G	M	Y	O	P	B	D	J	R	L
J	A	R	D	I	N	E	I	R	O

CANTOR
MECÂNICO
PADEIRO
PROFESSOR
JARDINEIRO
PINTOR



ESCREVA QUAL PROFISSÃO:

MAMÃE: \_\_\_\_\_

PAPAI: \_\_\_\_\_

O QUE VOCÊ VAI QUERER SER QUANDO CRESCER:

\_\_\_\_\_





E.M. BAIRRO MANUEL CLEMENTE.

PROFESSORA: Marcia Aguiar

ANO: 2º A

ALUNO: \_\_\_\_\_

DATA: 09/12

MATEMÁTICA

COLOCANDO EM ORDEM

REESCREVA OS NÚMEROS EM ORDEM CRESCENTE (DO MENOR PARA O MAIOR):

12	30	9	41	25
16	31	5	37	4
21	50	44	39	18










E.M. BAIRRO MANUEL CLEMENTE.

PROFESSORA: Marcia Aguiar

ANO: 2º A

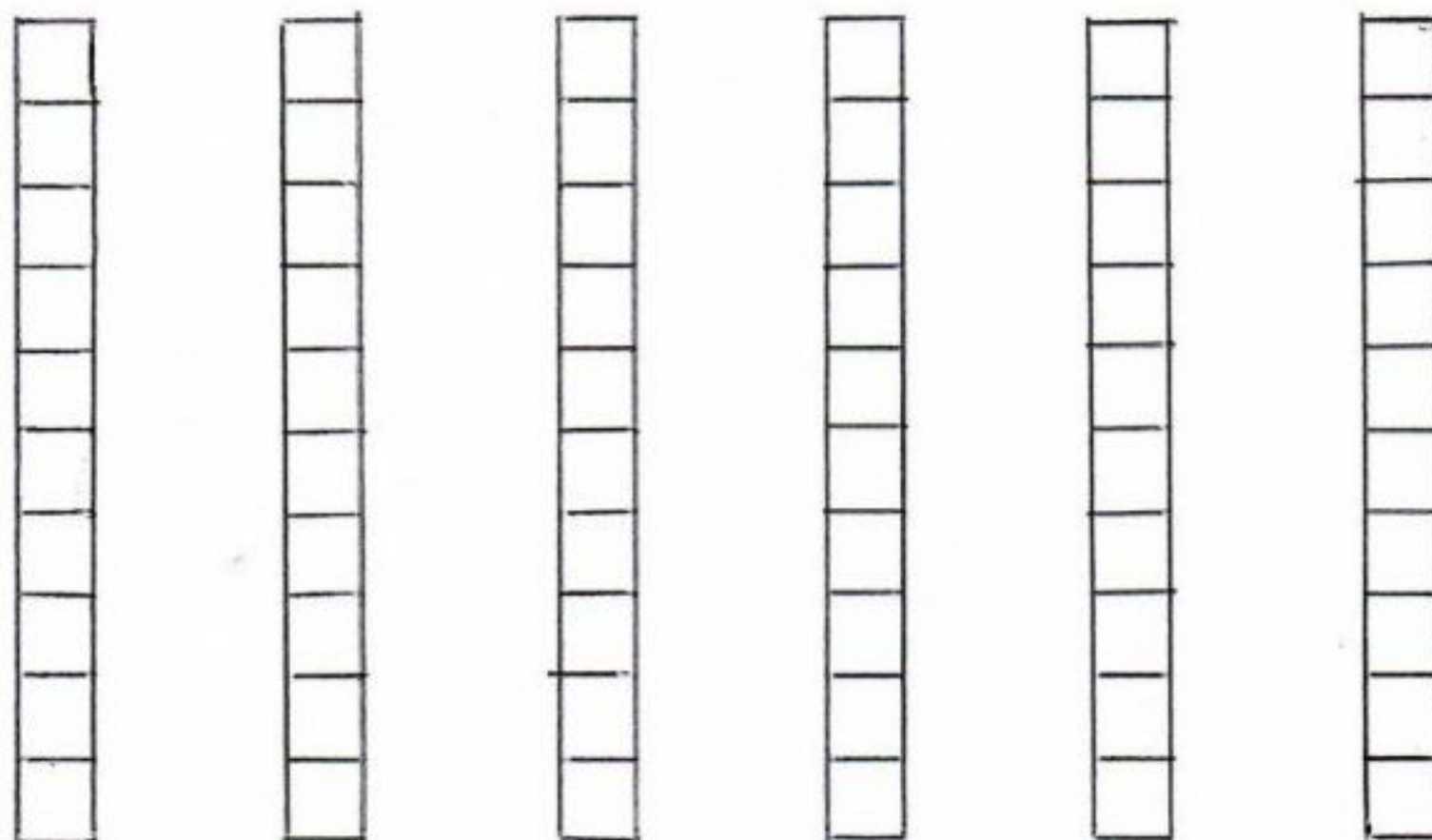

ALUNO: \_\_\_\_\_

DATA: 10/12

LÍNGUA PORTUGUESA / MATEMÁTICA

PINTE A QUANTIDADE DE QUADRINHOS REFERENTE A IDADE DE CADA

CRIANÇA



CAROL BETO FABI TIAGO NINA LUCA

8 10 7 9 6 5

A) QUAL O NOME DA CRIANÇA MAIS VELHA?

\_\_\_\_\_

B) QUAL O NOME DA CRIANÇA MAIS NOVA?

\_\_\_\_\_

C) QUAL O NOME DA CRIANÇA QUE TEM A MESMA IDADE QUE VOCÊ?

\_\_\_\_\_

D) ESCREVA O NÚMERO QUE REPRESENTA A SUA IDADE

\_\_\_\_\_





E.M. BAIRRO MANUEL CLEMENTE.

PROFESSORA: Marcia Aguiar

ANO: 2º A










ALUNO: \_\_\_\_\_

DATA: 13/12

CONTAGEM TEMA NATAL

CONTE CADA FIGURA E MARQUE O RESULTADO NO LUGAR INDICADO:







E.M. BAIRRO MANUEL CLEMENTE.

PROFESSORA: Marcia Aguiar

ANO: 2º A

ALUNO: \_\_\_\_\_

DATA: 14/12

ARTE / COLORIR







E.M. BAIRRO MANUEL CLEMENTE.

PROFESSORA: Marcia Aguiar

ANO: 2º A

ALUNO: \_\_\_\_\_

## Referências

DIA		PÁGINA
	<a href="https://amorensina.com.br">https://amorensina.com.br</a>	**
	<a href="https://novaescola.com.br">https://novaescola.com.br</a>	**
	<a href="https://atividadespedagogicasuzano.com.br">https://atividadespedagogicasuzano.com.br</a>	**
	<a href="https://danieducar.com.br">https://danieducar.com.br</a>	**
	<a href="https://wwwmundopedagogico.br">https://wwwmundopedagogico.br</a>	**
	<a href="https://wwwmundopedagogico.br">https://wwwmundopedagogico.br</a>	**
	<a href="https://wwwespacoprofessor.com.br">https://wwwespacoprofessor.com.br</a>	**