



E.M. BAIRRO MANUEL CLEMENTE.
PROFESSORA: VIVIANE
ALUNO: _____

3º ANO A

ATIVIDADES DO PERÍODO DE 01/12 à 14/12

15ª APOSTILA



ROTEIRO E REFERÊNCIAS EM ANEXO

DATA DA ENTREGA: 14/12



E.M. BAIRRO MANUEL CLEMENTE.

PROFESSORA: VIVIANE

ALUNO: _____

3º ANO A

Roteiro de atividades

DIA	DESCRIÇÃO	PÁGINA
01/12	Pinte o desenho de Natal bem bonito.	3
01/12	Armar as subtrações no quadro e efetuar.	4
02/12	Encontrar as palavras no diagrama e usá-las para completar as questões que se pede.	5
02/12	Ler as situações-problema e efetuar as subtrações.	6
03/12	Ler o texto e responder as perguntas.	7
03/12	Ler as situações-problema e efetuar as subtrações.	8
06/12	Encontrar as palavras que nomeiam as figuras.	9
06/12	Ler e resolver as situações-problema.	10
07/12	Copiar as palavras, separar as sílabas e escrever o encontro consonantal.	11
07/12	Armar e efetuar as subtrações.	12
08/12	Escrever palavras com cr e escrever um pequeno texto usando estas palavras.	13
08/12	Resolver as situações-problema usando a multiplicação.	14
09/12	Encontre as palavras no caça-palavras e utilize-as para completar o texto.	15
09/12	Escreva o nome de cada figura.	16
10/12	Encontre no caça-palavras as palavras com ão.	17
10/12	Identifique as figuras geométricas que aparecem no desenho e responda as questões.	18
13/12	Resolver a cruzadinha com temas de Natal.	19
13/12	Pintar, recortar e montar o presépio de Natal	20
14/12	Resolver a cruzadinha com temas de Natal.	21
14/12	Encontre a diferença entre as duas imagens.	22



E.M. BAIRRO MANUEL CLEMENTE.
PROFESSORA: VIVIANE
ALUNO: _____

3º ANO A

01/12/2021

Língua Portuguesa/ Artes





01/12/2021

Matemática

SUBTRAÇÃO NO QUADRO

Arme e efetue a subtração no quadro de lugar, como no modelo.

99 - 17	
D	U
9	9
-	1 7
8	2

a)

87 - 42	
D	U
-	

b)

79 - 53	
D	U
-	

c)

88 - 66	
D	U
-	

d)

76 - 35	
D	U
-	

e)

93 - 81	
D	U
-	

f)

48 - 26	
D	U
-	

g)

99 - 63	
D	U
-	

h)

79 - 35	
D	U
-	

VOCÊ JÁ SABE:
D = DEZENA



LEMBRE-SE:
U = UNIDADE





02/12/2021

Língua Portuguesa/Geografia

A ÁGUA NA PAISAGEM

1. Encontre no diagrama cinco locais onde há água disponível.

L	T	S	Q	R	T	B	R	I	J	M	V	X	T	A	Y	B	O	N
J	C	B	P	M	A	R	W	X	T	K	Y	M	E	W	Q	X	F	H
V	X	U	G	W	P	G	P	H	B	A	Q	Y	V	D	H	J	A	V
D	I	X	M	T	O	W	N	R	I	O	E	T	Y	E	E	W	X	R
S	G	R	S	O	X	G	W	G	J	H	P	V	A	N	X	Ç	W	B
Y	L	T	F	S	X	O	C	E	A	N	O	H	A	C	W	R	N	U
M	A	G	Y	E	G	I	S	U	X	G	Y	B	X	O	U	Z	R	E
B	G	S	C	S	T	X	L	A	G	O	A	H	V	G	A	G	H	Q
X	O	D	W	F	M	S	E	T	V	W	Y	H	T	D	S	A	Ç	A

2. Use as palavras encontradas no diagrama para completar estes quadros.

A

□ □ □ □ □ □

Grande extensão de água salgada que recobre a maior parte da superfície de nosso planeta.

B

□ □ □

Parte da água salgada que recobre a Terra e forma os oceanos.

C

□ □ □

Curso de água natural que deságua em outro rio ou no mar.

D

□ □ □ □ ou
□ □ □ □ □

Porções de água acumuladas em depressões do solo.




02/12/2021

Matemática

SUBTRAÇÃO DE CENTENAS, DEZENAS E UNIDADES

1. Em uma granja, havia 244 ovos. Destes, foram vendidos 132 para um restaurante. Quantos ovos ainda restam na granja?

	C	D	U
-			



Restam _____ ovos.

2. Na minha escola, havia 486 frutas. Destas, 242 foram servidas para os alunos do período matutino. Quantas frutas restaram para os alunos do período vespertino?


	C	D	U
-			



Restaram _____ frutas.

3. Uma loja possuía 385 aparelhos de televisão. Em uma liquidação, foram vendidos 262 aparelhos. Quantos aparelhos ainda restam na loja?

	C	D	U
-			



Ainda restam _____ aparelhos.



03/12/2021

Língua Portuguesa/Ciências

Invenções: sons e audição



➤ O que será que essas pessoas estão escutando? ➤

Neste capítulo vamos produzir sons e estudar como funciona a audição.

- Quais são as invenções que produzem sons que vocês conhecem?

- Liste o maior número possível de sons que você consegue escutar neste momento.




03/12/2021

Matemática

4. Em um teatro com capacidade para 264 pessoas, foram vendidos 153 ingressos. Quantos ingressos ainda podem ser vendidos para a peça de hoje à noite?

C	D	U



Podem ser vendidos _____ ingressos.

5. Hoje pela manhã, havia 289 latas de óleo de soja em um supermercado. Ao longo do dia, foram vendidas 161. Quantas latas de óleo ainda há nesse supermercado?

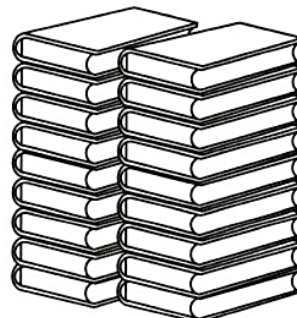
C	D	U



Ainda há _____ latas de óleo.

6. Uma editora mantinha no estoque 588 livros de uma certa coleção. Hoje, em uma promoção, foram vendidos 234 destes livros. Quantos livros ainda restam no estoque?

C	D	U



Ainda restam _____ livros no estoque da editora.

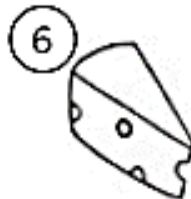
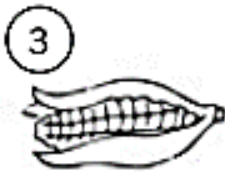
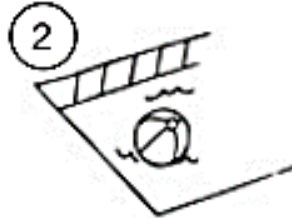


06/12/2021

Língua Portuguesa

DÍGRAFOS

Cada figura tem um número. Procure o nome das figuras nos quadros e relacione o número da figura ao seu respectivo nome.



piscina

folha

pássaro

milho

chapéu

galinha

águia

carro

queijo

ninho

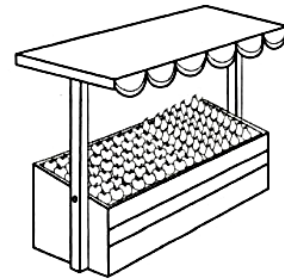



06/12/2021

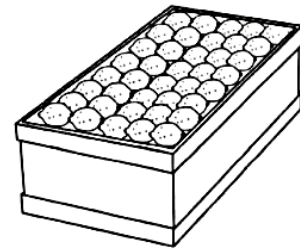

Matemática

SUBTRAÇÃO COM REAGRUPAMENTO


1. Em uma barraca de feira, há 72 maçãs e 58 peras. Quantas peras há a menos que as maçãs na barraca?



2. Joaquim transportou 62 caixas de limão para abastecer dois mercados do bairro Cachoeira. No mercado A, ele entregou 46 caixas. Quantas caixas restaram para abastecer o mercado B?



3. Mara quer comprar um casaco que custa 85 reais. Esta semana ela juntou 49 reais em moedas. Quanto ainda falta juntar para obter o valor do casaco?





E.M. BAIRRO MANUEL CLEMENTE.
PROFESSORA: VIVIANE
ALUNO: _____

3º ANO A

07/12/2021

Língua Portuguesa

ENCONTRO CONSONANTAL

Copie as palavras do quadro em ordem alfabética, separe-as em sílabas e escreva o encontro consonantal.

Cloro - Brasil - Clima - Bíblia - Sagrado - Trave - Planta - Pedra -
Quebra - Palavra - Regra - Patrão - Preto - Droga - Glicose - Obrigação -
Cravo - Fruta - Prato

Palavra	Separação de sílabas	Encontro consonantal



07/12/2021

Matemática

SUBTRAÇÃO COM REAGRUPAMENTO

1. Arme e efetue as adições a seguir.

a) $728 - 19$

b) $52 - 28$


c) $336 - 179$

d) $377 - 289$

e) $466 - 278$

f) $554 - 266$

2. A lotação completa de um ônibus de viagem é de 44 lugares. Na partida das 14 horas, 18 lugares não foram ocupados. Quantas pessoas viajaram no ônibus nesse horário?





08/12/2021

Língua Portuguesa

CRAQUE NOS ENCONTROS CONSONANTAIS

Observe o encontro consonantal e escreva dez palavras que contenham ele.

CR

Use as palavras da atividade anterior para escrever uma pequena história. Você decide qual será o assunto e quando deverá usar as palavras, mas todas deverão ser utilizadas.

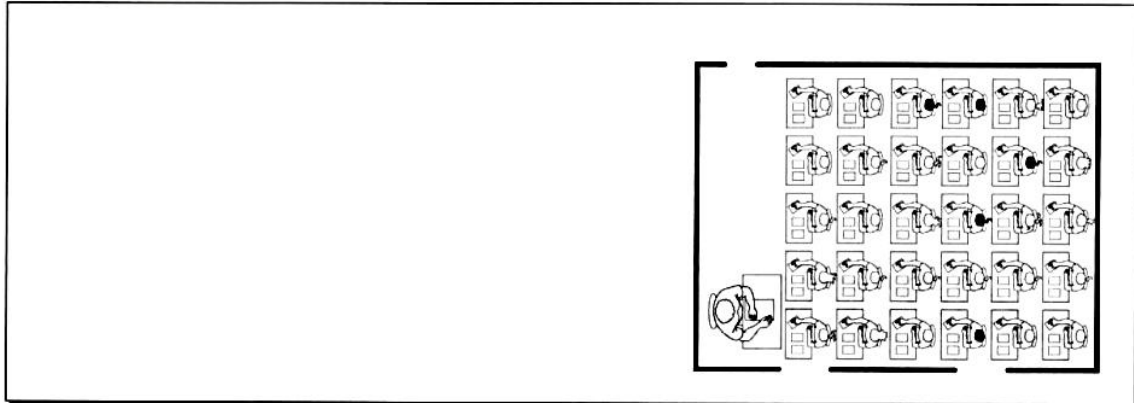


08/12/2021

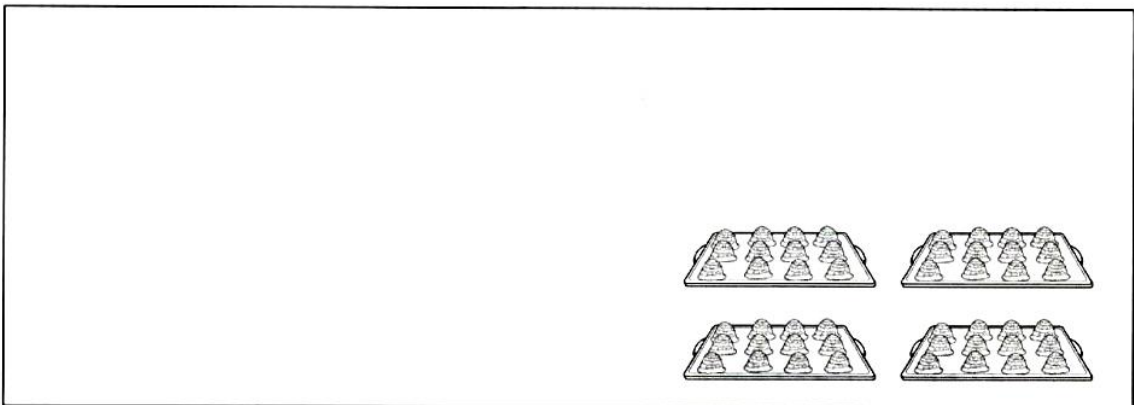
Matemática

MULTIPLICAÇÃO


1. Em uma sala de aula, há 5 fileiras com 6 carteiras em cada fileira. Quantos alunos sentados cabem nessa sala?



2. Em uma doçaria foram preparadas 4 bandejas contendo uma dúzia de bombons em cada uma. Quantos bombons há no total?



3. Em um edifício com 12 andares, há quatro apartamentos por andar. Quantos apartamentos há no total nesse edifício?





09/12/2021

Língua Portuguesa

ORTOGRAFIA: H

Encontre no caça-palavras dez palavras iniciadas com **h** e registre-as.

H	I	P	O	P	Ó	T	A	M	O
O	A	I	R	Ó	T	S	I	H	U
R	D	T	H	O	R	T	A	A	H
T	H	O	M	E	M	L	N	P	O
E	I	S	R	E	A	E	H	I	L
L	N	H	O	J	E	T	O	A	O
Ã	O	F	S	O	A	X	R	R	T
I	Ó	H	E	B	E	A	Á	O	J
E	C	R	F	Y	P	T	R	U	B
H	E	L	E	N	A	H	I	C	I
A	O	V	O	H	E	R	O	O	A
C	T	H	E	R	D	O	U	S	H

Agora, use as palavras encontradas para preencher as frases:

- a) _____ era uma apresentadora famosa.
- b) O bebê gosta de chá de _____.
- c) _____ é uma menina muito sapeca.
- d) O _____ é um dos símbolos nacionais.
- e) O _____ da manhã passa muito rápido.
- f) O _____ assustou o pobre cachorro!
- g) _____ é um animal que gosta muito de água.
- h) _____ é um dia muito especial, é o seu aniversário.
- i) Susi _____ os olhos verdes de sua avó.
- j) Vovô plantou muitos tipos de verdura na _____ do sítio.




09/12/2021

Matemática

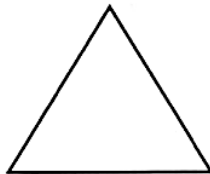
POLÍGONOS

1. Dê o nome de cada uma destas figuras e anote quantos lados ela tem.


(A)




(B)



(C)



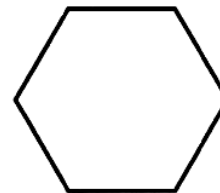
(D)



(E)



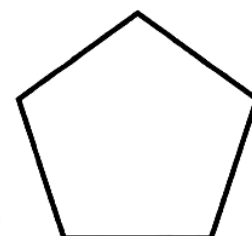
(F)



2. Marque em cada figura os segmentos de reta que ela tem.

3. Pinte com cores diferentes o interior de cada figura acima.

4. Qual é o nome desta figura? Quantos lados ela tem?
Quais são seus segmentos de reta? Marque-os.









10/12/2021

Língua Portuguesa

4. Encontre palavras com til no caça-palavras e depois copie-as conforme o desenho:

Ã	M	V	I	O	L	Ã	O	J
O	M	A	Ç	Ã	S	P	Ã	O
R	S	T	V	P	I	Ã	O	R
X	Z	S	A	B	Ã	O	S	V
F	O	G	Ã	O	B	X	Z	M
C	L	E	Ã	O	M	N	P	A
A	M	Ã	O	S	K	R	S	M
R	M	A	C	A	R	R	Ã	O
V	R	M	A	M	Ã	O	G	I
C	A	R	V	Ã	O	P	O	J
O	M	S	V	Ã	C	R	Ã	O






10/12/2021

Matemática

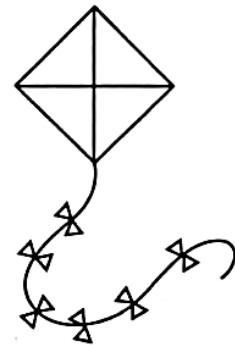
IDENTIFICANDO FIGURAS GEOMÉTRICAS

1. Quais figuras geométricas você identifica nestas **construções**?



2. Observe este papagaio de papel e responda:

a) Quantos triângulos é possível identificar nele?



b) Que figura geométrica o conjunto de triângulos do papagaio de papel formam?

3. Que figura geométrica identificamos nestes objetos?



Samphoto/Dreamstime



Jaqueline Spezia



13/12/2021

Língua Portuguesa

Feliz Natal

CRUZADINHA NATALINA:

The crossword puzzle grid consists of the following structure of empty cells:






- Column 1: 4 cells (down)
- Column 2: 4 cells (down)
- Column 3: 10 cells (down)
- Column 4: 10 cells (down)
- Column 5: 10 cells (down)
- Column 6: 10 cells (down)
- Column 7: 10 cells (down)
- Column 8: 10 cells (down)
- Column 9: 10 cells (down)
- Column 10: 10 cells (down)
- Row 1: 10 cells (across)
- Row 2: 10 cells (across)
- Row 3: 10 cells (across)
- Row 4: 10 cells (across)
- Row 5: 10 cells (across)
- Row 6: 10 cells (across)
- Row 7: 10 cells (across)
- Row 8: 10 cells (across)
- Row 9: 10 cells (across)
- Row 10: 10 cells (across)

Illustrations and arrows:

- Golden bells with a red bow: arrow pointing down to the top of Column 1.
- Red gift box with a blue ribbon: arrow pointing down to the top of Column 2.
- Calendar page with the number 25: arrow pointing down to the top of Column 10.
- Yellow star: arrow pointing right to the start of Row 3, Column 2.
- Angel: arrow pointing left to the start of Row 6, Column 5.
- Candle with red and yellow stripes: arrow pointing right to the start of Row 6, Column 1.
- Christmas tree: arrow pointing right to the start of Row 10, Column 1.



13/12/2021



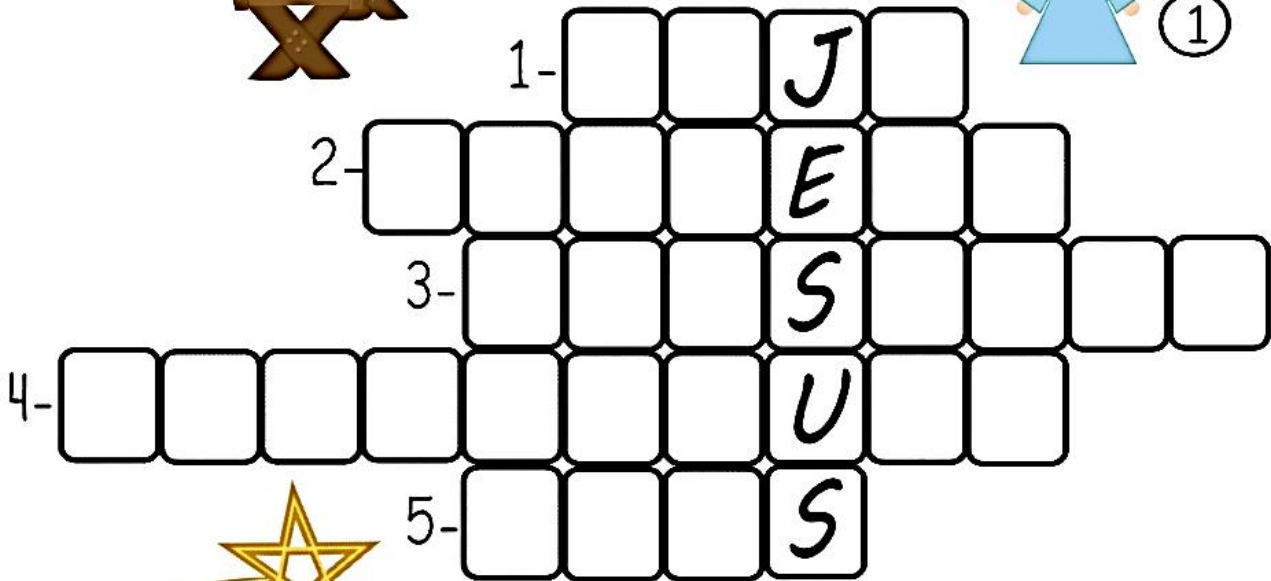


14/12/2021

Língua Portuguesa

Feliz Natal

CRUZADINHA NATALINA:



- 1- _____
- 2- _____
- 3- _____
- 4- _____
- 5- _____




E.M. BAIRRO MANUEL CLEMENTE.
PROFESSORA: VIVIANE
ALUNO: _____

3º ANO A

14 /12/2021

JOGO DOS 9 ERROS



Referências

DIA		PÁGINA
Capa	http://baudaweb.blogspot.com/2011/12/desenhos-com-gravuras-de-natal-para.html	-----
29/11	https://soloinfantil.com/desenhos/desenhos-de-natal-para-colorir/	-----
29/11	Coleção “Atividade na sala de aula” – 3º ano - Matemática	52
30/11	Coleção “Plano de Aula 40 semanas” - Língua Portuguesa-3º ano.	45
30/11	Coleção “Atividade na sala de aula” – 3º ano - Matemática	53
01/12	Coleção “Atividade na sala de aula” – 3º ano - História	94
01/12	Coleção “Atividade na sala de aula” – 3º ano - Matemática	55
02/12	Coleção “Atividade na sala de aula” – 3º ano – Geografia.	98
02/12	Coleção “Atividade na sala de aula” – 3º ano - Matemática	56
03/12	Livro “Ápis” – 3º ano - Ciências	110
03/12	Coleção “Atividade na sala de aula” – 3º ano - Matemática	57
06/12	Coleção “Oficina de Reforço” – 3º ano	18
06/12	Coleção “Atividade na sala de aula” – 3º ano - Matemática	58
07/12	Coleção “Oficina de Reforço” – 3º ano	20
07/12	Coleção “Atividade na sala de aula” – 3º ano - Matemática	59
08/12	Coleção “Oficina de Reforço” – 3º ano	21
08/12	Coleção “Atividade na sala de aula” – 3º ano - Matemática	61
09/12	Coleção “Oficina de Reforço” – 3º ano	22
09/12	Coleção “Atividade na sala de aula” – 3º ano - Matemática	108
10/12	Coleção “Plano de Aula 40 semanas” - Língua Portuguesa-3º ano.	49
10/12	Coleção “Atividade na sala de aula” – 3º ano - Matemática	109
13/12	https://educacaoetransformacaooficial.blogspot.com/2021/11/natal-cruzadinhas.html	-----
13/12	https://www.aartedeensinareaprender.com/2015/11/presepio-de-natal-para-pintar-recortar.html	-----
13/12	https://educacaoetransformacaooficial.blogspot.com/2021/11/natal-cruzadinhas.html	-----
13/12	http://www.coisasdaprofessoraraquel.com/2012/12/jogo-dos-erros-de-natal.html	-----