



## 15<sup>a</sup>. APOSTILA DE ESTUDOS 4º BIMESTRE



### ENSINO FUNDAMENTAL

**ALUNO:**

**PROFESSORA: SIMONE PROENÇA**

**TURMA: 1º ANO A**



**DATA DE DEVOLUÇÃO: 13/12/2021**



E. M. "PROF. CALIL RAHAL NETO".

NOME: \_\_\_\_\_

PROFESSORA: SIMONE

TURMA: 1º ANO A

DATA: 01/12/2021



## ATIVIDADE 1: HISTÓRIA

### TEXTO INFORMATIVO: ORIGEM DO NATAL

O NATAL É UMA DATA EM QUE COMEMORAMOS O NASCIMENTO DE JESUS CRISTO. NA ANTIGUIDADE, O NATAL ERA COMEMORADO EM VÁRIAS DATAS DIFERENTES, POIS NÃO SE SABIA COM EXATIDÃO A DATA DO NASCIMENTO DE JESUS. FOI SOMENTE NO SÉCULO VI (SEXTO) QUE O 25 DE DEZEMBRO FOI ESTABELECIDO COMO DATA OFICIAL DE COMEMORAÇÃO. NA ROMA ANTIGA, O 25 DE DEZEMBRO ERA A DATA EM QUE OS ROMANOS COMEMORAVAM O INÍCIO DO INVERNO. PORTANTO, ACREDITA-SE QUE HAJA UMA RELAÇÃO DESTE FATO COM A OFICIALIZAÇÃO DA COMEMORAÇÃO DO NATAL.

AS ANTIGAS COMEMORAÇÕES DE NATAL COSTUMAVAM DURAR ATÉ 12 DIAS, POIS ESTE FOI O TEMPO QUE LEVOU PARA OS TRÊS REIS MAGOS CHEGAREM ATÉ A CIDADE DE BELÉM E ENTREGAREM OS PRESENTES (OURO, MIRRA E INCENSO) AO MENINO JESUS.

ATUALMENTE, AS PESSOAS COSTUMAM MONTA AS ÁRVORES E OUTRAS DECORAÇÕES NATALINAS NO COMEÇO DE DEZEMBRO E DESMONTÁ-LAS ATÉ 12 DIAS APÓS O NATAL.

DO PONTO DE VISTA CRONOLÓGICO, O NATAL É UMA DATA DE GRANDE IMPORTÂNCIA PARA O OCIDENTE, POIS MARCA O ANO 1 DA NOSSA HISTÓRIA.

### ATIVIDADE

NO CALENDÁRIO ABAIXO, PINTE O DIA EM QUE COMEMORAMOS O NATAL:

DOMINGO	SEGUNDA- FEIRA	TERÇA- FEIRA	QUARTA- FEIRA	QUINTA- FEIRA	SEXTA- FEIRA	SÁBADO
		1	2	3	4	5
6	7	8	9	10	11	12
13	14	15	16	17	18	19
20	21	22	23	24	25	26
27	28	29	30	31		



E. M. "PROF. CALIL RAHAL NETO".

NOME: \_\_\_\_\_

PROFESSORA: SIMONE

TURMA: 1º ANO A





DATA: 02/12/2021



**ATIVIDADE 1:  
GEOGRAFIA**

**ORIENTAÇÃO ESPACIAL**

LIGUE AS SETAS À DIREÇÃO CORRESPONDENTE AO TRENÓ DO PAPAI NOEL.



E. M. "PROF. CALIL RAHAL NETO".

NOME: \_\_\_\_\_

PROFESSORA: SIMONE

TURMA: 1º ANO A

DATA: 02/12/2021



ATIVIDADE 2:  
LÍNGUA PORTUGUESA

CIRCULE O NOME DE CADA FIGURA:



ARMÁRIO

ÁRVORE

ARAME



ESTRELA

ESTANTE

ESTADO



SINAL

SELO

SINO



GUIRLANDA

GUIA

GUILHERME



BOLO

BALA

BOLA



VALA

VELA

VIDA



CHAMINÉ

CAFUNÉ

CHALEIRA



MEIO

MELA

MEIA

E. M. "PROF. CALIL RAHAL NETO".

NOME: \_\_\_\_\_

PROFESSORA: SIMONE

TURMA: 1º ANO A

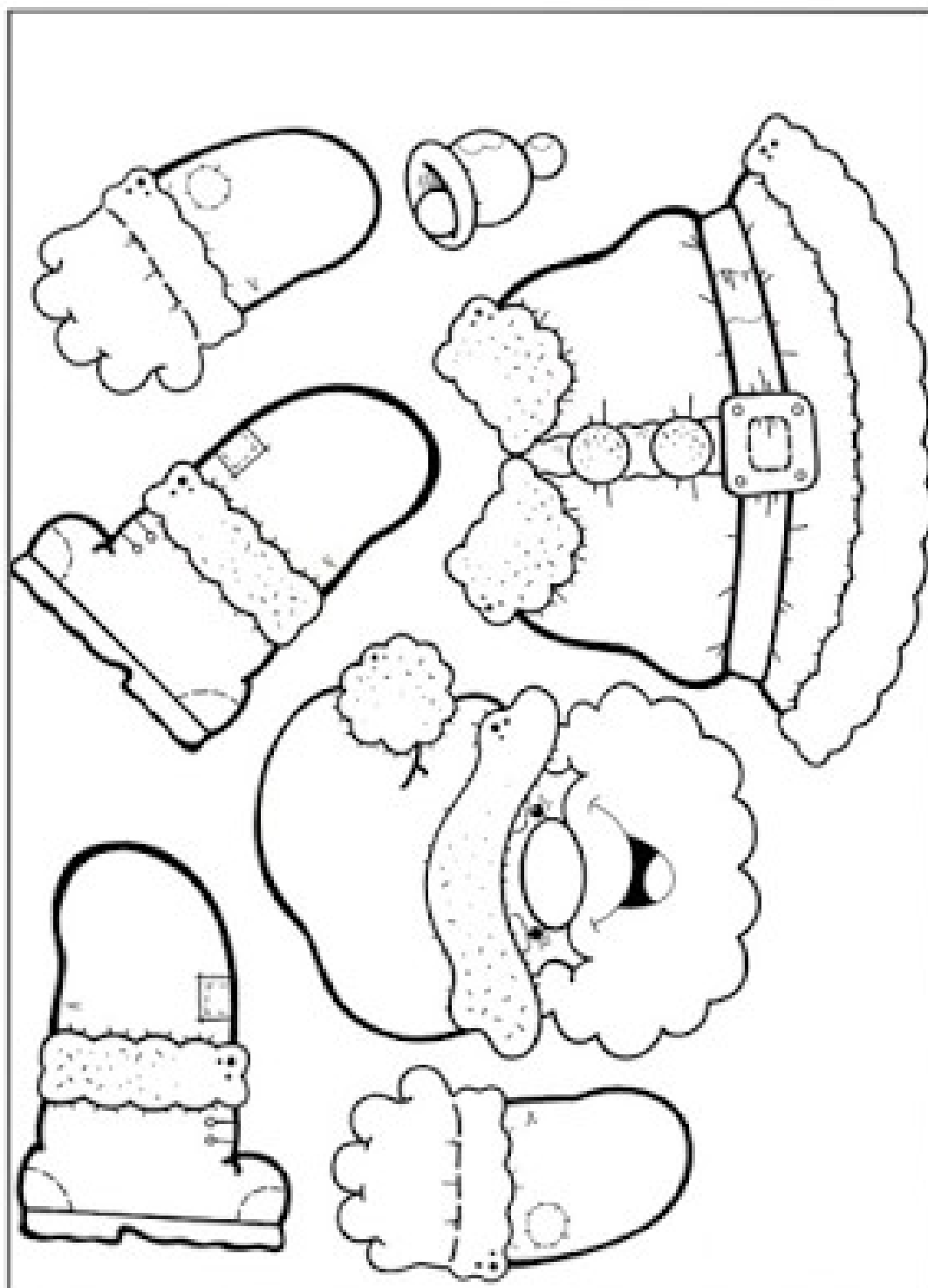
DATA: 03/12/2021



### ATIVIDADE 1:

### CIÊNCIAS

PINTE, RECORTE E MONTE O ESQUEMA CORPORAL DO PAPAÍ NOEL. A PRÓXIMA PÁGINA DEVE SER USADA PARA A MONTAGEM.



**ATIVIDADE 1**

**03/12/2021**

**PÁGINA EXTRA PARA MONTAGEM**



E. M. "PROF. CALIL RAHAL NETO".

NOME: \_\_\_\_\_

PROFESSORA: SIMONE

TURMA: 1º ANO A

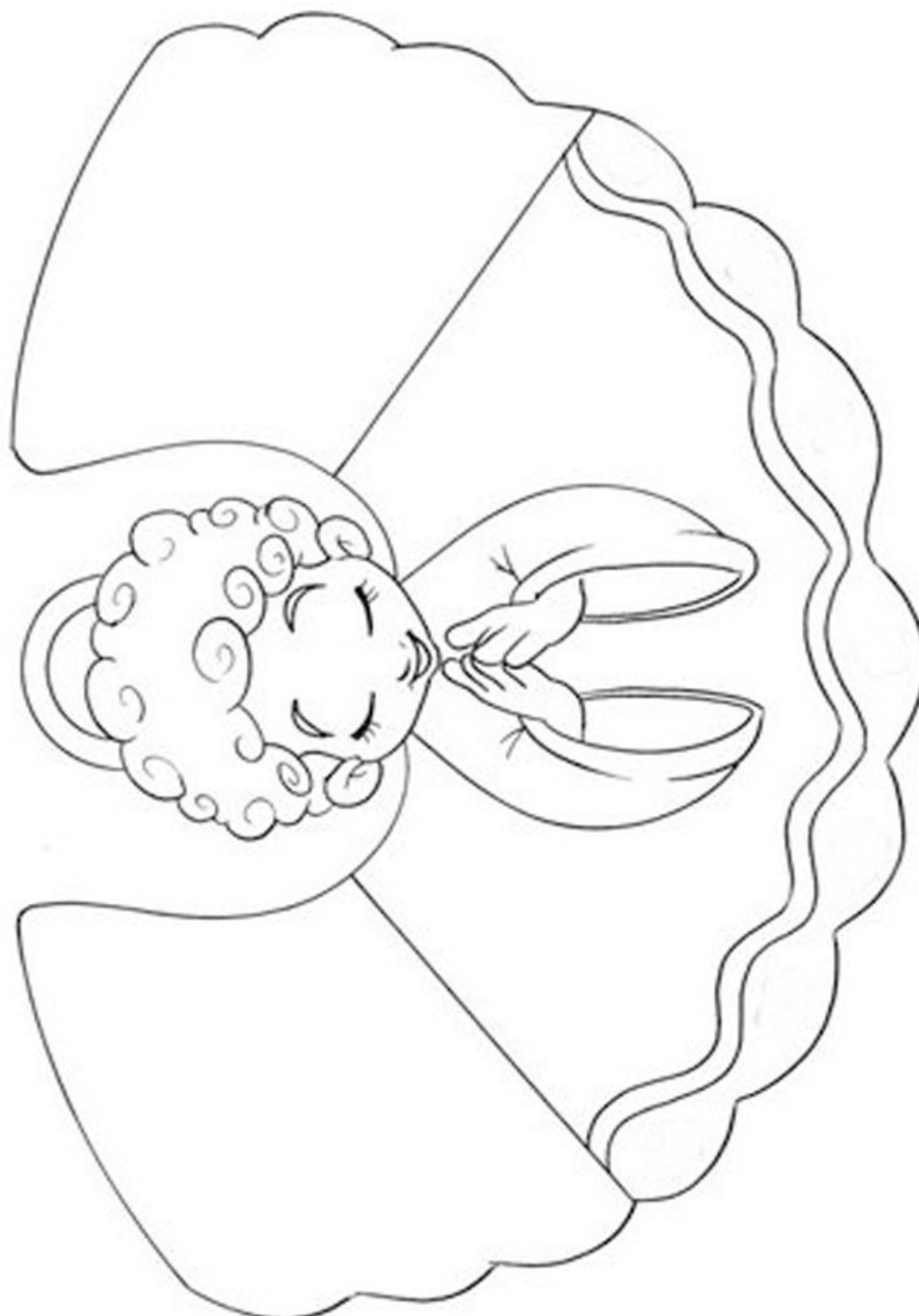
DATA: 03/12/2021



## ATIVIDADE 2:

### ARTE

PINTE, RECORTE E MONTE O ANJINHO.





E. M. "PROF. CALIL RAHAL NETO".

NOME: \_\_\_\_\_

PROFESSORA: SIMONE      TURMA: 1º ANO A      DATA: 06/12/2021



### ATIVIDADE 1:

### HISTÓRIA

### PAPAI NOEL: ORIGEM E TRADIÇÃO

ESTUDIOSOS AFIRMAM QUE A FIGURA DO BOM VELHINHO FOI INSPIRADA NUM BISPO CHAMADO NICOLAU, QUE NASCEU NA TURQUIA EM 280 D.C. (DEPOIS DE CRISTO). O BISPO, HOMEM DE BOM CORAÇÃO, COSTUMAVA AJUDAR AS PESSOAS POBRES, DEIXANDO SAQUINHOS COM MOEDAS PRÓXIMAS ÀS CHAMINÉS DAS CASAS.

FOI TRANSFORMADO EM SANTO (SÃO NICOLAU) PELA IGREJA CATÓLICA, APÓS VÁRIAS PESSOAS RELATAREM MILAGRES ATRIBUÍDOS A ELE.

A ASSOCIAÇÃO DA IMAGEM DE SÃO NICOLAU AO NATAL ACONTECEU NA ALEMANHA E ESPALHOU-SE PELO MUNDO EM POUCO TEMPO. NOS ESTADOS UNIDOS, GANHOU O NOME DE SANTA CLAUS, NO BRASIL DE PAPAI NOEL E EM PORTUGAL DE PAI NATAL.

### ATIVIDADE

O BISPO NICOLAU DEIXAVA SAQUINHOS COM MOEDAS PRÓXIMAS ÀS CHAMINÉS DAS CASAS. VAMOS AJUDÁ-LO, LIGANDO CADA MOEDA AO SEU VALOR CORRESPONDENTE.

VINTE E CINCO CENTAVOS



UM REAL



DEZ CENTAVOS



CINCO CENTAVOS



CINQUENTA CENTAVOS



E. M. "PROF. CALIL RAHAL NETO".

NOME: \_\_\_\_\_

PROFESSORA: SIMONE

TURMA: 1º ANO A


DATA: 06/12/2021



ATIVIDADE 2:  
MATEMÁTICA

# GRÁFICOS

A MÃE DE JESSICA ENFEITOU UMA GRANDE ÁRVORE DE NATAL. VEJA O QUE ELA COLOCOU.




1-QUAL ENFEITE TEM MAIS?

2-QUAL ENFEITE TEM MENOS?

3-QUANTAS BOLINHAS FORAM COLOCADAS?

4- QUANTAS MEIAS E ESTRELAS FORAM COLOCADAS AO TODO?



E. M. "PROF. CALIL RAHAL NETO".

NOME: \_\_\_\_\_

PROFESSORA: SIMONE      TURMA: 1º ANO A      DATA: 07/12/2021



**ATIVIDADE 1:  
GEOGRAFIA**

RECORTE OS PAPAIS NOÉIS E ORGANIZE-OS EM ORDEM CRESCENTE, DO MENOR PARA O MAIOR.



E. M. "PROF. CALIL RAHAL NETO".

NOME: \_\_\_\_\_

PROFESSORA: SIMONE

TURMA: 1º ANO A


DATA: 07/12/2021




**ATIVIDADE 2:**  
**LÍNGUA PORTUGUESA**  
**ESCRITA ESPONTÂNEA**

OBSERVE AS IMAGENS E ESCREVA OS NOMES CORRESPONDENTES DO SEU JEITINHO.

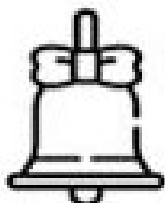
1.



2.




3.



4.



5.




6.



7.



8.



E. M. "PROF. CALIL RAHAL NETO".

NOME: \_\_\_\_\_

PROFESSORA: SIMONE

TURMA: 1º ANO A

DATA: 08/12/2021




### ATIVIDADE 1:

### CIÊNCIAS

### PARTES DO ROSTO

PINTE, RECORTE E MONTE O ROSTINHO DO PAPAÍ NOEL. A PRÓXIMA PÁGINA DEVE SER USADA PARA A MONTAGEM.



**ATIVIDADE 1**

**08/12/2021**

**PÁGINA EXTRA PARA MONTAGEM**

E. M. "PROF. CALIL RAHAL NETO".

NOME: \_\_\_\_\_

PROFESSORA: SIMONE

TURMA: 1º ANO A

DATA: 08/12/2021




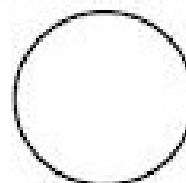
ATIVIDADE 2:

MATEMÁTICA

## PROBLEMINHAS


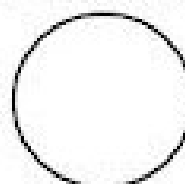
1- PINTE 9 ÁRVORES DE VERDE E 6 ÁRVORES DE VERMELHO.

QUANTAS ÁRVORES FORAM PINTADAS?



1- PINTE 8 BONECOS DE AMARELO E 7 BONECOS DE LARANJA.

QUANTOS BONECOS FORAM PINTADOS?





E. M. "PROF. CALIL RAHAL NETO".

NOME: \_\_\_\_\_

PROFESSORA: SIMONE

TURMA: 1º ANO A


DATA: 09/12/2021



ATIVIDADE 1:

LÍNGUA PORTUGUESA


PINTE A PALAVRA QUE REPRESENTA A FIGURA:



REMO

RENATO

RENA



PALETÓ

PANETONE


PANELA



MEIA

MESA


MENOS



ÁRVORE

ARMA

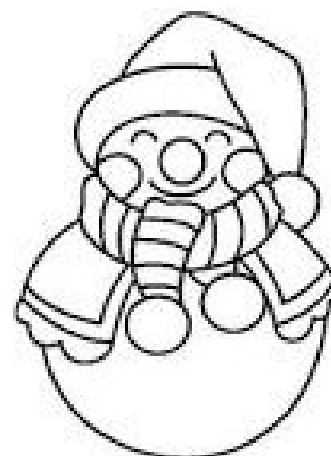
ARMÁRIO



BENTO

BENGALA

BERNARDO



BOTA

BOLETO

BONECO

E. M. "PROF. CALIL RAHAL NETO".

NOME: \_\_\_\_\_

PROFESSORA: SIMONE

TURMA: 1º ANO A

DATA: 09/12/2021




ATIVIDADE 2:

MATEMÁTICA

## PROBLEMINHAS

1- MAMÃE COMPROU 16 BOLINHAS PARA ENFEITAR A ÁRVORE DE NATAL. ELA DEIXOU CAIR E QUEBRARAM 4 BOLINHAS? QUANTAS BOLINHAS SOBRARAM?



$$\square - \square = \square$$

SOBRARAM \_\_\_\_\_ BOLINHAS.

2 - RESOLVA AS SUBTRAÇÕES.

9	7	8	4	6	5	9
<u>-2</u>	<u>-4</u>	<u>-3</u>	<u>-1</u>	<u>-4</u>	<u>-2</u>	<u>-9</u>

E. M. "PROF. CALIL RAHAL NETO".

NOME: \_\_\_\_\_

PROFESSORA: SIMONE

TURMA: 1º ANO A

DATA: 10/12/2021



ATIVIDADE 1:

LÍNGUA PORTUGUESA



**A DIVINHAS**

**NATALINAS**



1- DIZEM QUE EM NOITE DE NATAL, ELE DISTRIBUI PRESENTES..

P    \_\_\_\_\_

\_\_\_\_\_    L

2- E O MEIO DE TRANSPORTE USADO PELO PAPAINOEL...

T    \_\_\_\_\_    O

3- NELA COLOCAMOS LINDAS BOLAS COLORIDAS..

A    \_\_\_\_\_    E

\_\_\_\_\_

\_\_\_\_\_    \_\_\_\_\_    \_\_\_\_\_    L

4- E O MÊS DO NATAL...

D    \_\_\_\_\_    \_\_\_\_\_    \_\_\_\_\_    \_\_\_\_\_    \_\_\_\_\_    O

5- ELE É MONTADO PARA LEMBRARMOS DO NASCIMENTO DE JESUS..

P    \_\_\_\_\_    \_\_\_\_\_    \_\_\_\_\_    \_\_\_\_\_    \_\_\_\_\_    \_\_\_\_\_    O

6- É UM TIPO DE PÃO RECHEADO COM FRUTAS CRISTALIZADAS, MUITO APRECIADO NO NATAL...

P    \_\_\_\_\_    \_\_\_\_\_    \_\_\_\_\_    \_\_\_\_\_    \_\_\_\_\_    \_\_\_\_\_    E

7- É O QUE TODOS GOSTARIAM DE GANHAR NA NOITE DE NATAL...

P    \_\_\_\_\_    \_\_\_\_\_    \_\_\_\_\_    \_\_\_\_\_    \_\_\_\_\_    \_\_\_\_\_    \_\_\_\_\_    S

E. M. "PROF. CALIL RAHAL NETO".

NOME: \_\_\_\_\_

PROFESSORA: SIMONE

TURMA: 1º ANO A

DATA: 10/12/2021




### ATIVIDADE 2:

#### ARTE

#### SIMETRIA

COMPLETE A PINTURA SEGUINDO O MODELO E DESCUBRA UM PERSONAGEM NATALINO MUITO SIMPÁTICO.



## REFERÊNCIAS DE PESQUISA

<https://br.pinterest.com/pin/720716746615488571/>

[https://br.pinterest.com/pin/93449761003838194/?amp\\_client\\_id=CLIENT\\_ID\( \)&mweb\\_unauth\\_id={{default.session}}&simplified=true](https://br.pinterest.com/pin/93449761003838194/?amp_client_id=CLIENT_ID( )&mweb_unauth_id={{default.session}}&simplified=true)

[https://br.freepik.com/vetores-premium/esquerda-direita-para-cima-ou-para-baixo-orientacao-especial-com-treno-de-natal-dos-desenhos-animados\\_19953530.htm#page=1&position=0&from\\_view=detail#&position=0&from\\_view=detail](https://br.freepik.com/vetores-premium/esquerda-direita-para-cima-ou-para-baixo-orientacao-especial-com-treno-de-natal-dos-desenhos-animados_19953530.htm#page=1&position=0&from_view=detail#&position=0&from_view=detail)

<https://br.pinterest.com/pin/41517627805325441/>

<https://www.espacoeducar.net/2018/12/16-atividades-de-natal-ineditas-para.html>

<https://1.bp.blogspot.com/-YcrH8XCBV98/XAhS9iURqvl/AAAAAABe08/1XH68o8FjBUVabPxJOp0k6afngnAN5U2ACLcBGAs/s1600/16-ATIVIDADES-NOVAS-DE-NATAL-PARA-IMPRIMIR-EDUCA%25C3%2587%25C3%2583O-INFANTIL-E-ALFABETIZA%25C3%2587%25C3%2583O%2B%25285%2529.jpg>

<https://br.pinterest.com/pin/535013630739808251/>

<https://br.pinterest.com/pin/793055815627934781/>

<https://br.pinterest.com/pin/535013630739808253/>

<https://br.pinterest.com/pin/779193173014954614/>

<https://br.pinterest.com/pin/54887689195671055/>