



PREFEITURA DA ESTÂNCIA TURÍSTICA DE IBIÚNA
EM PROF. CALIL RAHAL NETO

Rua Projetada, 620 - Capim Azedo - Ibiúna - SP - Telefone: 3241-5917



15ª. APOSTILA DE ESTUDOS

4º BIMESTRE



ENSINO FUNDAMENTAL

ALUNO:

PROFESSORA: GABRIELA

TURMA: 5º A



DATA DE DEVOLUÇÃO: 13/12/2021



EM “Prof. Calil Rahal Neto”

Nome: _____

Professora: Gabriela

Turma: 5º ano A

Data: 01/11/2021

1 - Leia o texto abaixo.

O disfarce dos bichos

Você já tentou pegar um galhinho seco e ele virou bicho, abriu asas e voou? Se isso aconteceu é porque o graveto era um inseto conhecido como “bicho-pau”. Ele é tão parecido com o galhinho, que pode ser confundido com o graveto.

Existem lagartas que se parecem com raminhos de plantas. E há grilos que imitam folhas. Muitos animais ficam com a cor e a forma dos lugares em que estão. Eles fazem isso para se defender dos inimigos ou capturar outros bichos que servem de alimento. Esses truques são chamados de mimetismo, isto é, imitação.

O cientista inglês Henry Walter Bates foi quem descobriu o mimetismo. Ele passou 11 anos na selva amazônica estudando os animais.

MAVIAEL MONTEIRO, José. Bichos que usam disfarces para defesa. FOLHINHA, 6 NOV. 1993.

O bicho-pau se parece com:

- (A) florzinha seca.
- (B) folhinha verde.
- (C) galinho seco.
- (D) raminho de planta.

2 - Leia o texto abaixo.

A Boneca Guilhermina

Esta é a minha boneca, a Guilhermina. Ela é uma boneca muito bonita, que faz xixi e cocô. Ela é muito boazinha também. Faz tudo o que eu mando. Na hora de dormir, reclama um pouco. Mas depois que pega no sono, dorme a noite inteira! Às vezes ela acorda no meio da noite e diz que está com sede. Daí eu dou água para ela. Daí ela faz xixi e eu troco a fralda dela. Então eu ponho a Guilhermina dentro do armário, de castigo. Mas quando ela chora, eu não agüento. Eu vou até lá e pego a minha boneca no colo. A Guilhermina é a boneca mais bonita da rua.

MUIJAERT, A. A boneca Guilhermina. In: ___ As reportagens de Penélope. São Paulo: Companhia das Letrinhas, 1997. p. 17. Coleção Castelo Rá-Tim-Bum – vol. 8.

O texto trata, PRINCIPALMENTE,

- (A) das aventuras de uma menina.

- (B) das brincadeiras de uma boneca.
- (C) de uma boneca muito especial.
- (D) do dia-a-dia de uma menina.

3- Leia o texto abaixo.

Bula de remédio

VITAMINA

COMPRIMIDOS

embalagens com 50 comprimidos

COMPOSIÇÃO

Sulfato ferroso	400 mg
Vitamina B1	280 mg
Vitamina A1	280 mg
Ácido fólico	0,2 mg
Cálcio	150 mg

INFORMAÇÕES AO PACIENTE

O Produto, quando conservado em locais frescos e bem ventilados, tem validade de 12 meses.

É conveniente que o médico seja avisado de qualquer efeito colaterais

INDICAÇÕES

No tratamento das anemias.

CONTRA-INDICAÇÕES

Não deve ser tomado durante a gravidez.

EFEITOS COLATERAIS

Pode causar vômito e tontura em pacientes sensíveis ao ácido fólico da fórmula.

POSOLOGIA

Adultos: um comprimido duas vezes ao dia. Crianças: um comprimido uma vez ao dia.

LABORATÓRIO INFARMA S.A.

Responsável - Dr. R. Dias Fonseca

CÓCCO, Maria Fernandes; HAILER, Marco Antônio. Alp Novo: análise, linguagem e pensamento. São Paulo:FTD, 1999.v.2.p.184.

No texto, a palavra COMPOSIÇÃO indica:

- (A) as situações contra-indicadas do remédio. (B) as vitaminas que fazem falta ao homem.
- (C) os elementos que formam o remédio. (D) os produtos que causam anemias.

EM “Prof. Calil Rahal Neto”

Nome: _____

Professora: Gabriela

Turma: 5º ano A

Data: 02/12/2021

1 - Leia o texto abaixo.

Talita

Talita tinha a mania de dar nomes de gente aos objetos da casa, e tinham de ser nomes que rimassem. Assim, por exemplo, a mesa, para Talita, era Dona Teresa, a poltrona era Vó Gordona, o armário era o Doutor Mário. A escada era Dona Ada, a escrivaniha era Tia Sinhazinha, a lavadora era Prima Dora, e assim por diante.

Os pais de Talita achavam graça e topavam a brincadeira. Então, podiam-se ouvir conversas tipo como esta:

— Filhinha, quer trazer o jornal que está em cima da Tia Sinhazinha!

— É pra já, papai. Espere sentado na Vó Gordona, que eu vou num pé e volto noutro.

Ou então:

— Que amolação, Prima Dora está entupida, não lava nada! Precisa chamar o mecânico.

— Ainda bem que tem roupa limpa dentro do Doutor Mário, né mamãe?

E todos riam.

BELINKY, Tatiana. A operação do Tio nofre: uma história policial. São Paulo: Ática, 1985.

A mania de Talita de dar nome de gente aos objetos da casa demonstra que ela é:

(A) curiosa.

(B) exagerada.

(C) estudiosa.

(D) criativa.

2- Leia o texto abaixo.

A raposa e as uvas

Num dia quente de verão, a raposa passeava por um pomar. Com sede e calor, sua atenção foi capturada por um cacho de uvas.

“Que delícia”, pensou a raposa, “era disso que eu precisava para adoçar a minha boca”. E, de um salto, a raposa tentou, sem sucesso, alcançar as uvas.

Exausta e frustrada, a raposa afastou-se da videira, dizendo: “Aposto que estas uvas estão verdes.”

Esta fábula ensina que algumas pessoas quando não conseguem o que querem, culpam as circunstâncias.

(<http://www1.uol.com.br/crianca/fabulas/noflash/raposa.htm>)

A frase que expressa uma opinião é:

- (A) “a raposa passeava por um pomar.” (l. 1-2).
- (B) “sua atenção foi capturada por um cacho de uvas.” (l. 2-3).
- (C) “a raposa afastou-se da videira” (l. 7-8)
- (D) “aposto que estas uvas estão verdes” (l. 9-10).

3- Leia o texto abaixo.

EVA FURNARI

EVA FURNARI - Uma das principais figuras da literatura para crianças. Eva Furnari nasceu em Roma (Itália) em 1948 e chegou ao Brasil em 1950, radicando-se em São Paulo. Desde muito jovem, sua atração eram os livros de estampas e não causa estranhamento algum imaginá-la envolvida com cores, lápis e pincéis, desenhando mundos e personagens para habitá-los...

Suas habilidades criativas encaminharam-na, primeiramente, ao universo das Artes Plásticas expondo, em 1971, desenhos e pinturas na Associação dos Amigos do Museu de Arte Moderna, em uma mostra individual. Paralelamente, cursou a Faculdade de Arquitetura e Urbanismo da USP, formando-se no ano de 1976. No entanto, erguer prédios tornou-se pouco atraente quando encontrou a experiência das narrativas visuais.

Iniciou sua carreira como autora e ilustradora, publicando histórias sem texto verbal, isto é, contadas apenas por imagens. Seu primeiro livro foi lançado pela Ática, em 1980, *Cabra-cega*, inaugurando a coleção *Peixe Vivo*, premiada pela Fundação Nacional do Livro Infantil e Juvenil -FNLIJ.

Ao longo de sua carreira, Eva Furnari recebeu muitos prêmios, entre eles contam o Jabuti de “Melhor Ilustração” - Trucks (Ática, 1991), *A bruxa Zelda e os 80 docinhos* (1986) e *Anjinho* (1998) - setes láureas concedidas pela FNLIJ e o Prêmio APCA pelo conjunto de sua obra.

<http://caracal.imaginaria.cam/autografas/evafurnari/index.html>

A finalidade do texto é:

- (A) apresentar dados sobre vendas de livros.
- (B) divulgar os livros de uma autora.
- (C) informar sobre a vida de uma autora.
- (D) instruir sobre o manuseio de livros.

EM “Prof. Calil Rahal Neto”

Nome: _____

Professora: Gabriela

Turma: 5º ano A

Data: 03/12/2021

MATEMÁTICA

Questão 1

(Portal MEC). João participou de um campeonato de judô na categoria juvenil, pesando 45,350kg. Cinco meses depois estava 3,150kg mais pesado e precisou mudar de categoria. Quanto ele estava pesando nesse período?

- (A) 14,250kg
- (B) 40,850kg
- (C) 48,500kg
- (D) 76,450kg

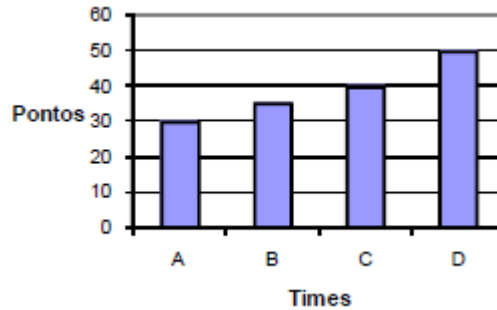
Questão 2

(Portal MEC). Para uma temporada curta, chegou à cidade o circo Fantasia, com palhaços, mágicos e acrobatas. O circo abrirá suas portas ao público às 9 horas e ficará aberto durante 9 horas e meia. A que horas o circo fechará?

- (A) 16h30
- (B) 17h30
- (C) 17h45
- (D) 18h30

Questão 3

(Portal MEC). O gráfico abaixo mostra a quantidade de pontos feitos pelos times A, B, C e D no campeonato de futebol da escola.



De acordo com o gráfico, quantos pontos o time C conquistou?

- (A) 50
- (B) 40
- (C) 35
- (D) 30

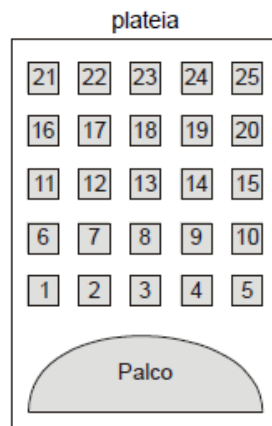
Questão 4

(Portal MEC). Um dia tem 24 horas, 1 hora tem 60 minutos e 1 minuto tem 60 segundos. Que fração da hora corresponde a 35 minutos?

- (A) $\frac{7}{4}$
- (B) $\frac{7}{12}$
- (C) $\frac{35}{24}$
- (D) $\frac{60}{35}$

Questão 5

A figura abaixo mostra um teatro onde as cadeiras da plateia são numeradas de 1 a 25.



Mara recebeu um ingresso de presente que dizia o seguinte:

Sua cadeira está localizada exatamente no centro da plateia.

Qual é a cadeira de Mara?

- (A) 12
- (B) 13
- (C) 22
- (D) 23

EM “Prof. Calil Rahal Neto”

Nome: _____

Professora: Gabriela

Turma: 5º ano A

Data: 06/12/2021

Língua Portuguesa

1- Leia o texto abaixo.

A Costureira das Fadas

Depois do jantar, o príncipe levou Narizinho à casa da melhor costureira do reino. Era uma aranha de Paris, que sabia fazer vestidos lindos, lindos até não poder mais! Ela mesma tecia a fazenda, ela mesma inventava as modas.

– Dona Aranha – disse o príncipe – quero que faça para esta ilustre dama o vestido mais bonito do mundo. Vou dar uma grande festa em sua honra e quero vê-la deslumbrar a corte.

Disse e retirou-se. Dona Aranha tomou da fita métrica e, ajudada por seis aranhinhas muito espertas, principiou a tomar as medidas. Depois teceu depressa, depressa, uma fazenda cor-de-rosa com estrelinhas douradas, a coisa mais linda que se possa imaginar. Teceu também peças de fita e peças de renda e de entremeio — até carretéis de linha de seda fabricou.

MONTEIRO LOBATO, José Bento. *Reinações de Narizinho*. São Paulo: Brasiliense, 1973.

O príncipe quer dar um vestido para Narizinho porque:

- (A) ela deseja ter um vestido de baile.
- (B) o príncipe vai se casar com Narizinho.
- (C) ela deseja um vestido cor-de-rosa.
- (D) o príncipe fará uma festa para Narizinho.

2- Leia o texto abaixo.

Poluição do solo

É na camada mais externa da superfície terrestre, chamada solo, que se desenvolvem os vegetais. Quando o solo é contaminado, tanto os cursos subterrâneos de água como as plantas podem ser envenenadas.

Os principais poluentes do solo são os produtos químicos usados na agricultura. Eles servem para destruir pragas e ervas daninhas, mas também causam sérios estragos ambientais.

O lixo produzido pelas fábricas e residências também pode poluir o solo. Baterias e pilhas jogadas no lixo, por exemplo, liberam líquidos tóxicos e corrosivos. Nos aterros, onde o lixo das cidades é despejado,

a decomposição da matéria orgânica gera um líquido escuro e de mau cheiro chamado chorume, que penetra no solo e contamina mesmo os cursos de água que passam bem abaixo da superfície.

{...}

Almanaque Recreio. São Paulo: Abril. Almanques CDD_056-9. 2003.

No trecho “É na camada mais externa da superfície terrestre” (ℓ.1), a expressão sublinhada indica:

- (A) causa.
- (B) finalidade.
- (C) lugar.
- (D) tempo

3 - Leia o texto abaixo.

Continho

Era uma vez um menino triste, magro e barrigudinho. Na soalheira danada de meio-dia, ele estava sentado na poeira do caminho, imaginando bobagem, quando passou um vigário a cavalo.

- Você, aí, menino, para onde vai essa estrada?
- Ela não vai não: nós é que vamos nela.
- Engraçadinho duma figa! Como você se chama?
- Eu não me chamo, não, os outros é que me chamam de Zé.

MENDES CAMPOS, Paulo, Para gostar de ler - Crônicas. São Paulo: Ática, 1996, v. 1 p. 76.

Há traço de humor no trecho:

- (A) “Era uma vez um menino triste, magro”. (ℓ. 1)
- (B) “ele estava sentado na poeira do caminho”. (ℓ. 3)
- (C) “quando passou um vigário”. (ℓ. 4)
- (D) “Ela não vai não: nós é que vamos nela”. (ℓ. 7)

EM "Prof. Calil Rahal Neto"

Nome: _____

Professora: Gabriela

Turma: 5º ano A

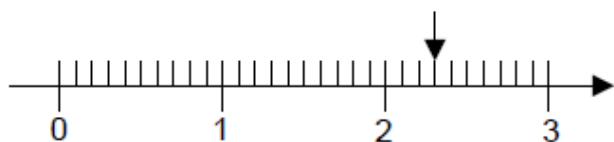
Data: 07/12/2021

MATEMÁTICA

Questão 1

As balanças podem ser utilizadas para medir a massa dos alimentos nos supermercados.

A reta numérica na figura seguinte representa os valores, em quilograma, de uma balança.

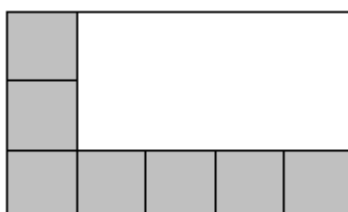


A partir da figura, tem-se que a seta indica uma massa, em quilogramas, de:

- (A) 0,30.
- (B) 0,23.
- (C) 2,30.
- (D) 2,03.

Questão 2

O piso de uma sala está sendo coberto por cerâmica quadrada. Já foram colocadas 7 cerâmicas, como mostrado na figura.



Quantas cerâmicas faltam para cobrir o piso?

- (A) 7
- (B) 8
- (C) 9
- (D) 15

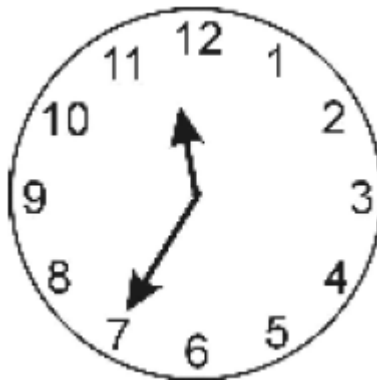
Questão 3

O carro de João consome 1 litro de gasolina a cada 10 quilômetros percorridos. Para ir da sua casa ao sítio, que fica distante 63 quilômetros, o carro irá consumir:

- (A) 5,3 L.
- (B) 6,0 L.
- (C) 6,3 L.
- (D) 7,0 L.

Questão 4

Maria colocou um bolo para assar na hora indicada no relógio da figura seguinte.



O bolo ficou pronto em 30 minutos. Que horário o relógio indicava quando o bolo ficou pronto?

- (A) 11 horas 50 minutos.
- (B) 12 horas 5 minutos.
- (C) 12 horas 50 minutos.
- (D) 13 horas 10 minutos.

Nome: _____

Professora: Gabriela

Turma: 5º ano A

Data: 08/12/2021

Escreva por extenso:

100 -

200 -

300 -

400 -

500 -

600 -

700 -

800 -

900 -

1000 -



ATIVIDADE

P	E	R	U	R	G	O	U
H	R	B	O	N	E	C	O
N	O	E	F	J	A	E	G
A	B	O	S	N	X	L	O
T	L	N	O	E	L	F	R
A	R	E	N	S	N	O	R
L	O	V	D	F	J	T	O
E	T	E	N	P	E	R	E



GORRO

PERU

PRESENTE

BONECO

ELFO

NATAL

NOEL

NEVE

ESTUDANTE _____



EM "Prof. Calil Rahal Neto"

Nome: _____

Professora: Gabriela

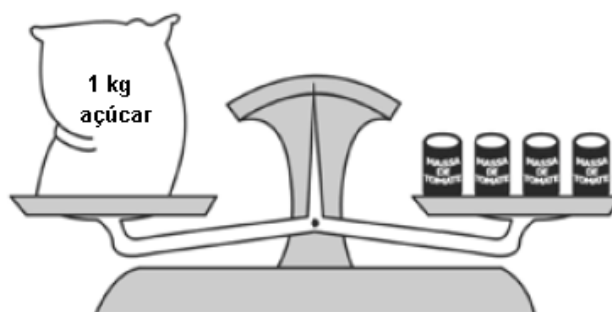
Turma: 5º ano A

Data: 09/12/2021

MATEMÁTICA

Questão 1

Na mercearia "Tudo a Mão", as mercadorias são pesadas numa balança de dois pratos. Um vendedor observou que a balança ficava em equilíbrio, quando ele colocava de um lado 1kg de açúcar e do outro 4 latas de massa de tomate. Veja a ilustração abaixo.



1 kg de açúcar equivale a 4 latas de massa de tomate

Dessas latas de massa de tomate, quantas são necessárias para equilibrar 2 kg de açúcar?

- (A) 2 latas
- (B) 4 latas.
- (C) 6 latas
- (D) 8 latas.

Questão 2

Num pacote de balas contendo 10 unidades, o peso líquido é de 49 gramas. Em 5 pacotes teremos quantos gramas?

- (A) 59
- (B) 64
- (C) 245
- (D) 295

Questão 3


Uma merendeira preparou 558 pães que foram distribuídos igualmente em 18 cestas.

Quantos pães foram colocados em cada cesta?

- (A) 31
- (B) 310
- (C) 554
- (D) 783

Questão 4

Utilizando, como unidade de medida, o quadradinho do papel quadriculado, a área da palavra “PAZ” representada abaixo é igual a:



- (A) 18 quadradinhos.
- (B) 31 quadradinhos.
- (C) 45 quadradinhos.
- (D) 50 quadradinhos.


EM "Prof. Calil Rahal Neto"

Nome: _____

Professora: Gabriela

Turma: 5º ano A

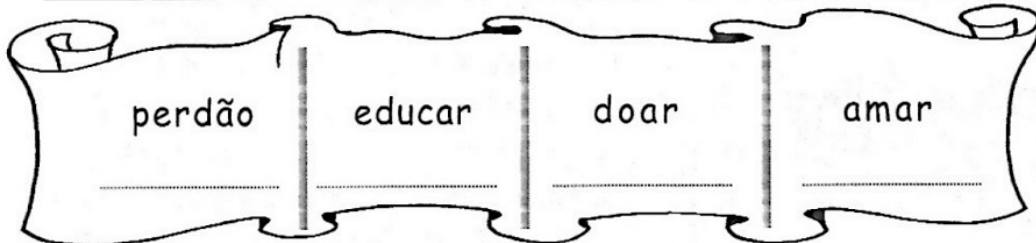
Data: 10 /12/2021



Cruzadinha de natal


❖ Substitua cada letra por algarismos e decifre os numerais formados.

a = 1 c = 5 d = 3 e = 8 m = 4 o = 9 p = 8 r = 4 u = 9



❖ Escreva os numerais por extenso e encontre-os no "caça-números":

- 530 _____
- 782 _____
- 900 _____
- 333 _____
- 496 _____
- 222 _____
- 444 _____



Referências

<https://www.espacoprofessor.com/texto-informativo-com-interpretacao->

<http://www.professorzezinhoramos.com/2013/10/textos-curtos-para-interpretacao-com.html>

<https://acessaber.com.br/tag/interpretacao-de-texto>

<https://www.soescola.com/2020>

<http://adoletadoabc.blogspot.com/atividades>

<https://cucasuperlegal.com/>

<https://alicearteducacao.blogs>

Professor warles