



15ª. APOSTILA DE ESTUDOS 4º BIMESTRE



ENSINO FUNDAMENTAL

ALUNO:

PROFESSORA: CAMILA AZEVEDO

TURMA: 1º ANO C



DATA DE DEVOLUÇÃO: 13/12/2021



E. M. "PROF. CALIL RAHAL NETO".

NOME: _____

PROFESSORA: CAMILA

TURMA: 1º ANO C

DATA: 01/12/2021



ATIVIDADE 1:

HISTÓRIA

TEXTO INFORMATIVO: ORIGEM DO NATAL

O NATAL É UMA DATA EM QUE COMEMORAMOS O NASCIMENTO DE JESUS CRISTO. NA ANTIGUIDADE, O NATAL ERA COMEMORADO EM VÁRIAS DATAS DIFERENTES, POIS NÃO SE SABIA COM EXATIDÃO A DATA DO NASCIMENTO DE JESUS. FOI SOMENTE NO SÉCULO VI (SEXTO) QUE O 25 DE DEZEMBRO FOI ESTABELECIDO COMO DATA OFICIAL DE COMEMORAÇÃO. NA ROMA ANTIGA, O 25 DE DEZEMBRO ERA A DATA EM QUE OS ROMANOS COMEMORAVAM O INÍCIO DO INVERNO. PORTANTO, ACREDITA-SE QUE HAJA UMA RELAÇÃO DESTE FATO COM A OFICIALIZAÇÃO DA COMEMORAÇÃO DO NATAL.

AS ANTIGAS COMEMORAÇÕES DE NATAL COSTUMAVAM DURAR ATÉ 12 DIAS, POIS ESTE FOI O TEMPO QUE LEVOU PARA OS TRÊS REIS MAGOS CHEGAREM ATÉ A CIDADE DE BELÉM E ENTREGAREM OS PRESENTES (OURO, MIRRA E INCENSO) AO MENINO JESUS.

ATUALMENTE, AS PESSOAS COSTUMAM MONTA AS ÁRVORES E OUTRAS DECORAÇÕES NATALINAS NO COMEÇO DE DEZEMBRO E DESMONTÁ-LAS ATÉ 12 DIAS APÓS O NATAL.

DO PONTO DE VISTA CRONOLÓGICO, O NATAL É UMA DATA DE GRANDE IMPORTÂNCIA PARA O OCIDENTE, POIS MARCA O ANO 1 DA NOSSA HISTÓRIA.

ATIVIDADE

NO CALENDÁRIO ABAIXO, PINTE O DIA EM QUE COMEMORAMOS O NATAL:

DOMINGO	SEGUNDA-FEIRA	TERÇA-FEIRA	QUARTA-FEIRA	QUINTA-FEIRA	SEXTA-FEIRA	SÁBADO
		1	2	3	4	5
6	7	8	9	10	11	12
13	14	15	16	17	18	19
20	21	22	23	24	25	26
27	28	29	30	31		

E. M. "PROF. CALIL RAHAL NETO".

NOME: _____

PROFESSORA: CAMILA

TURMA: 1º ANO C


DATA: 01/12/2021



**ATIVIDADE 2:
MATEMÁTICA**

CALENDÁRIO DE DEZEMBRO

1- PREENCHA O CALENDÁRIO, SEGUINDO A SEQUÊNCIA NUMÉRICA ATÉ CHEGAR AO DIA DO NATAL.

1							
							
		24					

2- FAÇA UM DESENHO NA ESTREBARIA, QUE REPRESENTA O REAL SIGNIFICADO DO NATAL.

E. M. "PROF. CALIL RAHAL NETO".

NOME: _____

PROFESSORA: CAMILA

TURMA: 1º ANO C





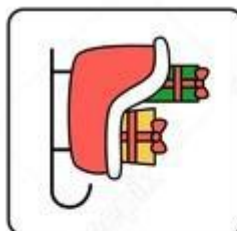
DATA: 02/12/2021



**ATIVIDADE 1:
GEOGRAFIA**

ORIENTAÇÃO ESPACIAL

LIGUE AS SETAS À DIREÇÃO CORRESPONDENTE AO TRENÓ DO PAPAÍ NOEL.



E. M. "PROF. CALIL RAHAL NETO".

NOME: _____

PROFESSORA: CAMILA

TURMA: 1º ANO C

DATA: 02/12/2021



ATIVIDADE 2:
LÍNGUA PORTUGUESA

CIRCULE O NOME DE CADA FIGURA:



ARMÁRIO

ÁRVORE

ARAME



ESTRELA

ESTANTE

ESTADO



SINAL

SELO

SINO



GUIRLANDA

GUIA

GUILHERME



BOLO

BALA

BOLA



VALA

VELA

VIDA



CHAMINÉ

CAFUNÉ

CHALEIRA



MEIO

MELA

MEIA

E. M. "PROF. CALIL RAHAL NETO".

NOME: _____

PROFESSORA: CAMILA

TURMA: 1º ANO C

DATA: 03/12/2021



ATIVIDADE 1:

CIÊNCIAS

PINTE, RECORTE E MONTE O ESQUEMA CORPORAL DO PAPAÍ NOEL. A PRÓXIMA PÁGINA DEVE SER USADA PARA A MONTAGEM.



ATIVIDADE 1

03/12/2021

PÁGINA EXTRA PARA MONTAGEM

E. M. "PROF. CALIL RAHAL NETO".

NOME: _____

PROFESSORA: CAMILA

TURMA: 1º ANO C

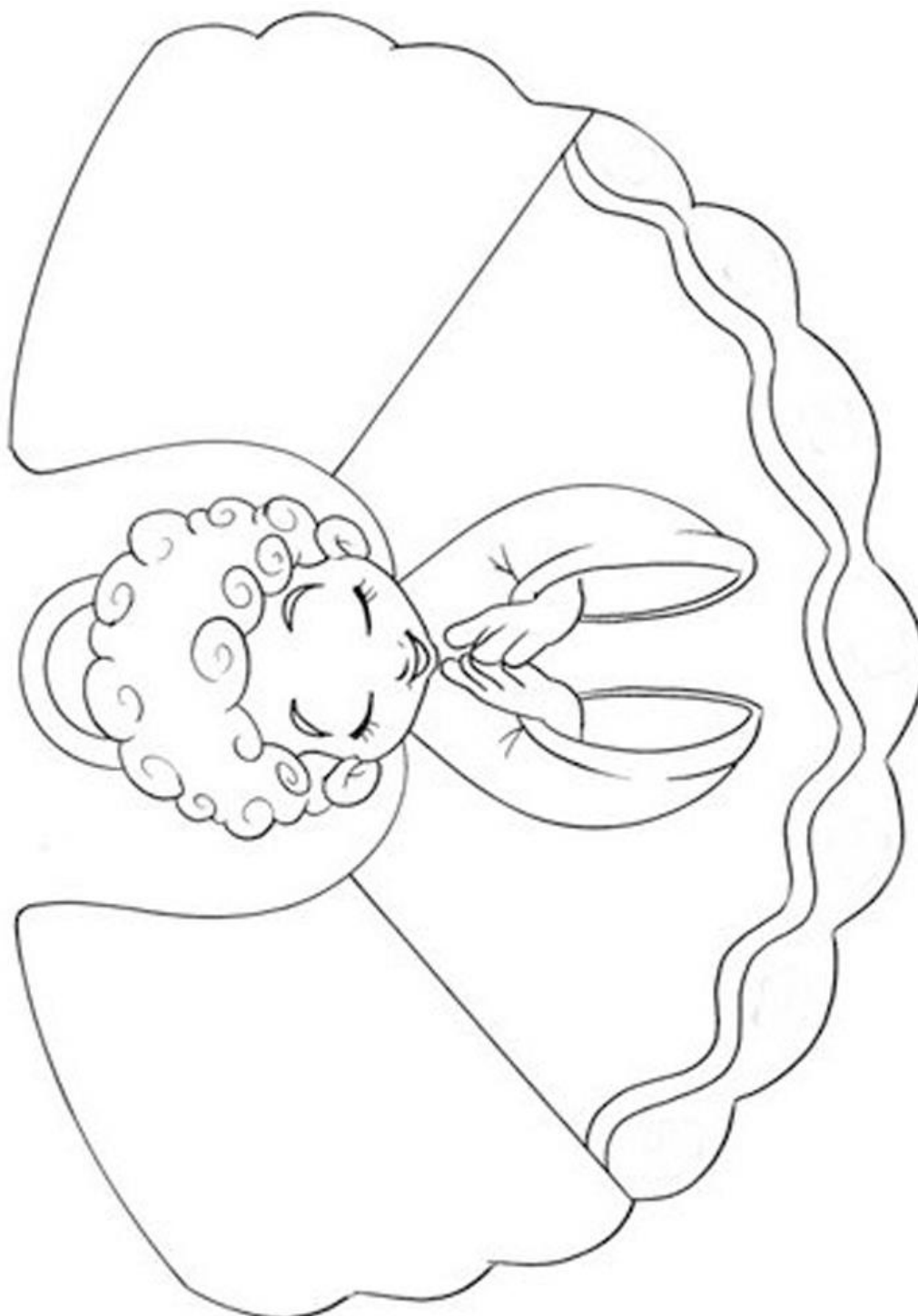
DATA: 03/12/2021



ATIVIDADE 2:

ARTE

PINTE, RECORTE E MONTE O ANJINHO.



E. M. "PROF. CALIL RAHAL NETO".

NOME: _____

PROFESSORA: CAMILA TURMA: 1º ANO C DATA: 06/12/2021



ATIVIDADE 1:

HISTÓRIA

PAPAI NOEL: ORIGEM E TRADIÇÃO

ESTUDIOSOS AFIRMAM QUE A FIGURA DO BOM VELHINHO FOI INSPIRADA NUM BISPO CHAMADO NICOLAU, QUE NASCEU NA TURQUIA EM 280 D.C. (DEPOIS DE CRISTO). O BISPO, HOMEM DE BOM CORAÇÃO, COSTUMAVA AJUDAR AS PESSOAS POBRES, DEIXANDO SAQUINHOS COM MOEDAS PRÓXIMAS ÀS CHAMINÉS DAS CASAS.

FOI TRANSFORMADO EM SANTO (SÃO NICOLAU) PELA IGREJA CATÓLICA, APÓS VÁRIAS PESSOAS RELATAREM MILAGRES ATRIBUÍDOS A ELE.

A ASSOCIAÇÃO DA IMAGEM DE SÃO NICOLAU AO NATAL ACONTECEU NA ALEMANHA E ESPALHOU-SE PELO MUNDO EM POUCO TEMPO. NOS ESTADOS UNIDOS, GANHOU O NOME DE SANTA CLAUS, NO BRASIL DE PAPAI NOEL E EM PORTUGAL DE PAI NATAL.

ATIVIDADE

O BISPO NICOLAU DEIXAVA SAQUINHOS COM MOEDAS PRÓXIMAS ÀS CHAMINÉS DAS CASAS. VAMOS AJUDÁ-LO, LIGANDO CADA MOEDA AO SEU VALOR CORRESPONDENTE.

VINTE E CINCO CENTAVOS



UM REAL



DEZ CENTAVOS



CINCO CENTAVOS



CINQUENTA CENTAVOS



E. M. "PROF. CALIL RAHAL NETO".

NOME: _____

PROFESSORA: CAMILA

TURMA: 1º ANO C


DATA: 06/12/2021



ATIVIDADE 2:
MATEMÁTICA

GRÁFICOS

A MÃE DE JESSICA ENFEITOU UMA GRANDE ÁRVORE DE NATAL. VEJA O QUE ELA COLOCOU.



1-QUAL ENFEITE TEM MAIS?

2-QUAL ENFEITE TEM MENOS?

3-QUANTAS BOLINHAS FORAM COLOCADAS?

4- QUANTAS MEIAS E ESTRELAS FORAM COLOCADAS AO TODO?



E. M. "PROF. CALIL RAHAL NETO".

NOME: _____

PROFESSORA: CAMILA

TURMA: 1º ANO C

DATA: 07/12/2021



**ATIVIDADE 1:
GEOGRAFIA**

RECORTE OS PAPAIS NOÉIS E ORGANIZE-OS EM ORDEM CRESCENTE, DO MENOR PARA O MAIOR.



E. M. "PROF. CALIL RAHAL NETO".

NOME: _____

PROFESSORA: CAMILA

TURMA: 1º ANO C

DATA: 07/12/2021



ATIVIDADE 2:
LÍNGUA PORTUGUESA
ESCRITA ESPONTÂNEA

OBSERVE AS IMAGENS E ESCREVA OS NOMES CORRESPONDENTES DO SEU JEITINHO.

1.



2.



3.



4.



5.



6.



7.



8.



E. M. "PROF. CALIL RAHAL NETO".

NOME: _____

PROFESSORA: CAMILA

TURMA: 1º ANO C

DATA: 08/12/2021




ATIVIDADE 1:

CIÊNCIAS

PARTES DO ROSTO

PINTE, RECORTE E MONTE O ROSTINHO DO PAPAÍ NOEL. A PRÓXIMA PÁGINA DEVE SER USADA PARA A MONTAGEM.



ATIVIDADE 1

08/12/2021

PÁGINA EXTRA PARA MONTAGEM

E. M. "PROF. CALIL RAHAL NETO".

NOME: _____

PROFESSORA: CAMILA

TURMA: 1º ANO C

DATA: 08/12/2021


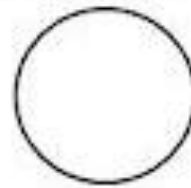


ATIVIDADE 2:
MATEMÁTICA

PROBLEMINHAS

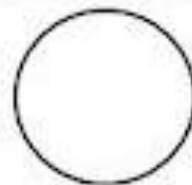
1- PINTE 9 ÁRVORES DE VERDE E 6 ÁRVORES DE VERMELHO.

QUANTAS ÁRVORES FORAM PINTADAS?



1- PINTE 8 BONECOS DE AMARELO E 7 BONECOS DE LARANJA.

QUANTOS BONECOS FORAM PINTADOS?



E. M. "PROF. CALIL RAHAL NETO".

NOME: _____

PROFESSORA: CAMILA

TURMA: 1º ANO C

DATA: 09/12/2021



ATIVIDADE 1:

LÍNGUA PORTUGUESA

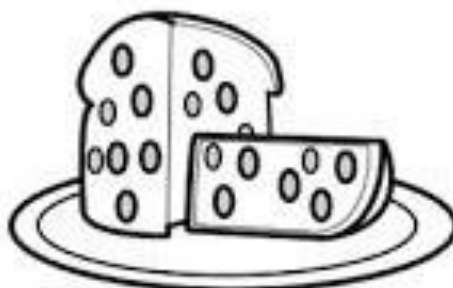
PINTE A PALAVRA QUE REPRESENTA A FIGURA:



REMO

RENATO

RENA



PALETÓ

PANETONE

PANELA



MEIA

MESA

MENOS



ÁRVORE

ARMA

ARMÁRIO



BENTO

BENGALA

BERNARDO



BOTA

BOLETO

BONECO

E. M. "PROF. CALIL RAHAL NETO".

NOME: _____

PROFESSORA: CAMILA

TURMA: 1º ANO C


DATA: 09/12/2021



ATIVIDADE 2:
MATEMÁTICA

PROBLEMINHAS

1- MAMÃE COMPROU 16 BOLINHAS PARA ENFEITAR A ÁRVORE DE NATAL. ELA DEIXOU CAIR E QUEBRARAM 4 BOLINHAS? QUANTAS BOLINHAS SOBRARAM?



$$\square - \square = \square$$

SOBRARAM _____ BOLINHAS.

2 - RESOLVA AS SUBTRAÇÕES.

9	7	8	4	6	5	9
<u>-2</u>	<u>-4</u>	<u>-3</u>	<u>-1</u>	<u>-4</u>	<u>-2</u>	<u>-9</u>

E. M. "PROF. CALIL RAHAL NETO".

NOME: _____

PROFESSORA: CAMILA TURMA: 1º ANO C DATA: 10/12/2021




ATIVIDADE 2:

ARTE

SIMETRIA

COMPLETE A PINTURA SEGUINDO O MODELO E DESCUBRA UM PERSONAGEM NATALINO MUITO SIMPÁTICO.



REFERÊNCIAS DE PESQUISA

<https://br.pinterest.com/pin/720716746615488571/>

[https://br.pinterest.com/pin/93449761003838194/?amp_client_id=CLIENT_ID\(\)&mweb_unauth_id={{default.session}}&simplified=true](https://br.pinterest.com/pin/93449761003838194/?amp_client_id=CLIENT_ID()&mweb_unauth_id={{default.session}}&simplified=true)

https://br.freepik.com/vetores-premium/esquerda-direita-para-cima-ou-para-baixo-orientacao-especial-com-treno-de-natal-dos-desenhos-animados_19953530.htm#page=1&position=0&from_view=detail#&position=0&from_view=detail

<https://br.pinterest.com/pin/41517627805325441/>

<https://www.espacoeducar.net/2018/12/16-atividades-de-natal-ineditas-para.html>

<https://1.bp.blogspot.com/->

[YcrH8XCBV98/XAhS9lURqvl/AAAAAABe08/1XH68o8FjBUVabPxJOOp0k6afngnAN5U2ACLcBGAs/s1600/16-ATIVIDADES-NOVAS-DE-NATAL-PARA-IMPRIMIR-EDUCA%25C3%2587%25C3%2583O-INFANTIL-E-ALFABETIZA%25C3%2587%25C3%2583O%2B%25285%2529.jpg](https://1.bp.blogspot.com/-YcrH8XCBV98/XAhS9lURqvl/AAAAAABe08/1XH68o8FjBUVabPxJOOp0k6afngnAN5U2ACLcBGAs/s1600/16-ATIVIDADES-NOVAS-DE-NATAL-PARA-IMPRIMIR-EDUCA%25C3%2587%25C3%2583O-INFANTIL-E-ALFABETIZA%25C3%2587%25C3%2583O%2B%25285%2529.jpg)

<https://br.pinterest.com/pin/535013630739808251/>

<https://br.pinterest.com/pin/793055815627934781/>

<https://br.pinterest.com/pin/535013630739808253/>

<https://br.pinterest.com/pin/779193173014954614/>

<https://br.pinterest.com/pin/54887689195671055/>