

E.M "ALICE VIEIRA DE CAMARGO"

NOME:

3º ANO A

18ª APOSTILA

## MINHAS ATIVIDADES



REFERENTES AOS DIAS: 06,07, 08,09,10,13 e 14 DE DEZEMBRO.

PROFESSORA: BIANCA MIRANDA



★ NOME: \_\_\_\_\_

★ ESCOLA: \_\_\_\_\_ TURMA: \_\_\_\_\_

★ DATA: IBIÚNA, 06 DE DEZEMBRO DE 2021

★ DISCIPLINA: LÍNGUA PORTUGUESA

**OBJETIVOS**

**PIPOTE**

PIPOTE , O PALHAÇO  
É MUITO ESQUISITO  
SÓ VIVE PULANDO  
E SOLTANDO GRITO

PARECE QUE ELE  
TÁ MEIO LELE  
PIPOTE O PALHAÇO  
NÃO PARA DE PÉ



GI BARBOSA

**DE OLHO NA ATIVIDADE**

1. MARQUE CORRETAMENTE DE ACORDO COM O TEXTO:

A. PIPOTE É UM ...

- ( ) PALHAÇO
- ( ) MALABARISTA
- ( ) TRAPEZISTA

B. PIPOTE , O PALHAÇO SÓ VIVE ...

- ( ) ROLANDO
- ( ) PULANDO
- ( ) SALTANDO



NOME: \_\_\_\_\_

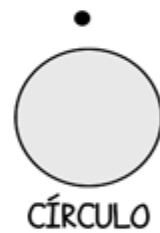

ESCOLA: \_\_\_\_\_ TURMA: \_\_\_\_\_

DATA: IBIÚNA, 06 DE DEZEMBRO DE 2021

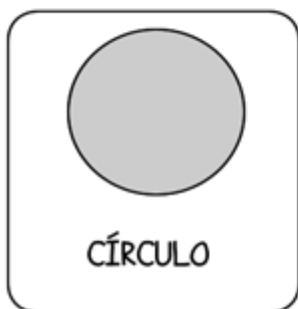
DISCIPLINA: MATEMÁTICA

### ATIVIDADES DE MATEMÁTICA

1) LIGUE CADA OBJETO COM A FIGURA COM A QUAL ELE MAIS SE PARECE:



2) DESCUBRA QUAL DOS OBJETOS QUE BINHO USOU PARA DESENHAR O CÍRCULO:





★ NOME: \_\_\_\_\_

★ ESCOLA: \_\_\_\_\_ TURMA: \_\_\_\_\_

★ DATA: IBIÚNA, 06 DE DEZEMBRO DE 2021 \_\_\_\_\_

★ DISCIPLINA: GEOGRAFIA \_\_\_\_\_

Escreva ao lado de cada lata nome de objetos que podem ser reciclados:



\_\_\_\_\_

\_\_\_\_\_

\_\_\_\_\_



\_\_\_\_\_

\_\_\_\_\_

\_\_\_\_\_



\_\_\_\_\_

\_\_\_\_\_

\_\_\_\_\_




NOME: \_\_\_\_\_  
 ESCOLA: \_\_\_\_\_ TURMA: \_\_\_\_\_  
 DATA: IBIÚNA, 07 DE DEZEMBRO DE 2021  
 DISCIPLINA: LÍNGUA PORTUGUESA

1. Ligue os que são sinônimos

- |            |            |
|------------|------------|
| BONITO ●   | ● DECIDIR  |
| DISTANTE ● | ● ESCURO   |
| RESOLVER ● | ● PERFUME  |
| NEGRO ●    | ● BELO     |
| AROMA ●    | ● CONTENTE |
| ALEGRE ●   | ● LONGE    |

2. Complete a cruzadinha com os sinônimos das palavras abaixo.

1. agressivo
2. vencer
3. conclusão
4. telhado






★ NOME: \_\_\_\_\_

★ ESCOLA: \_\_\_\_\_ TURMA: \_\_\_\_\_

★ DATA: IBIÚNA, 07 DE DEZEMBRO DE 2021



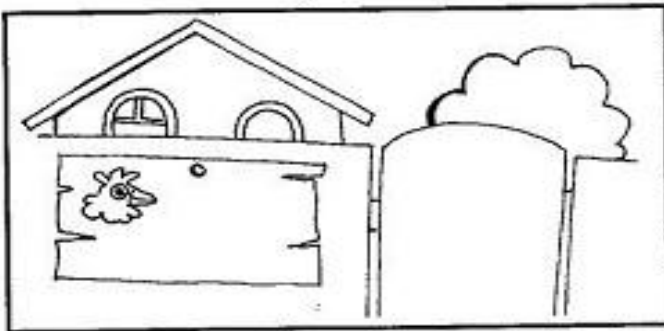
★ DISCIPLINA: LÍNGUA PORTUGUESA



## Avisos

Aviso é um alerta ou informação bem rápida e com poucas palavras.

• Observe as situações e faça a correspondência:







NOME: \_\_\_\_\_  
 ESCOLA: \_\_\_\_\_ TURMA: \_\_\_\_\_  
 DATA: IBIÚNA, 07 DE DEZEMBRO DE 2021  
 DISCIPLINA: LÍNGUA PORTUGUESA

NOME: \_\_\_\_\_  
 PROFESSOR: \_\_\_\_\_ DATA: \_\_\_\_\_

## SINÔNIMOS E ANTÔNIMOS


Marque com um A as palavras antônimas e com um S as sinônimas.

- a) ruído – barulho
- b) rápido – lento
- c) cedo – tarde
- d) muito – bastante
- e) amar – adorar
- f) bravo – manso
- g) simpático – antipático
- h) frio – quente



Circule os sinônimos das palavras.

- |               |          |           |
|---------------|----------|-----------|
| a) alegre     | contente | triste    |
| contentamento |          |           |
| b) achar      | dar      | encontrar |
| esperar       |          |           |
| c) valentes   | audazes  | fracos    |
| felizes       |          |           |
| d) discute    | chora    | resolve   |
| debate        |          |           |



Rescreva a frase, trocando as palavras destacadas por sinônimos ou antônimos.

- a) Logo **cedo**, Ana **levantou-se**.  
\_\_\_\_\_
- b) O carro de Fórmula 1 é muito **rápido**.  
\_\_\_\_\_





★ NOME: \_\_\_\_\_

★ ESCOLA: \_\_\_\_\_ TURMA: \_\_\_\_\_

★ DATA: IBIÚNA, 08 DE DEZEMBRO DE 2021

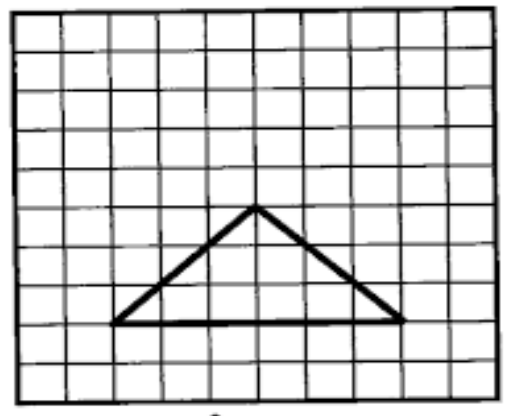
★ DISCIPLINA: MATEMÁTICA

# RECORDANDO FORMAS GEOMÉTRICAS

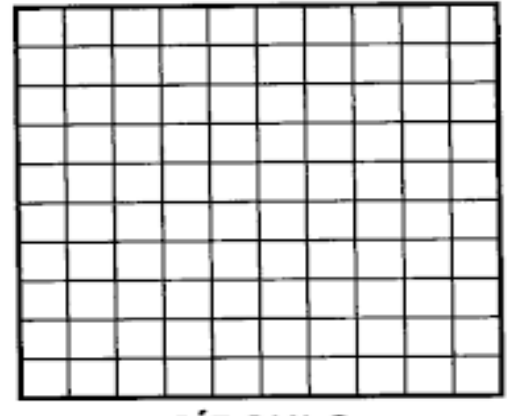
➔ **CRIE UM DESENHO PARA CADA FORMA GEOMÉTRICA. OBSERVE O MODELO:**



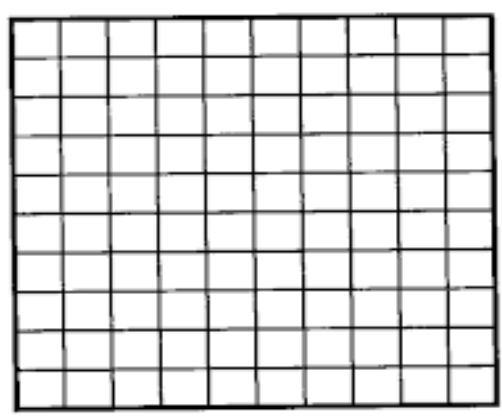
➔ **OBSERVE O MODELO E DESENHE:**



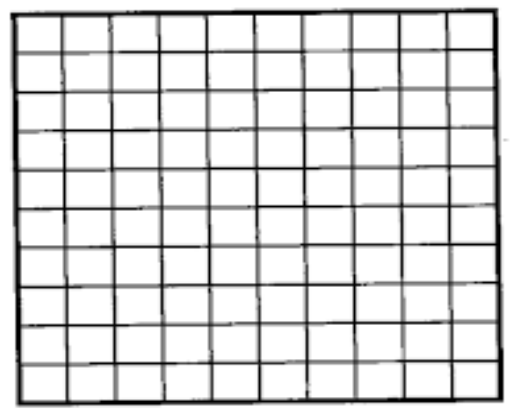
**TRIÂNGULO**



**CÍRCULO**



**RETÂNGULO**



**QUADRADO**







★ NOME: \_\_\_\_\_

★ ESCOLA: \_\_\_\_\_ TURMA: \_\_\_\_\_




★ DATA: IBIÚNA, 08 DE DEZEMBRO DE 2021 \_\_\_\_\_

★ DISCIPLINA: MATEMÁTICA \_\_\_\_\_

• Observe as sequências abaixo e complete cada uma delas:



• Continue as sequências abaixo:





NOME: \_\_\_\_\_  
 ESCOLA: \_\_\_\_\_ TURMA: \_\_\_\_\_  
 DATA: IBIÚNA, 08 DE DEZEMBRO DE 2021  
 DISCIPLINA: MATEMÁTICA

ESTUDANTE \_\_\_\_\_ DATA \_\_\_\_ / \_\_\_\_ / \_\_\_\_



## ATIVIDADE

ENCONTRE NO QUADRO ABAIXO A SEQUÊNCIA EM DESTAQUE.



|  |  |  |  |  |  |
|--|--|--|--|--|--|
|  |  |  |  |  |  |
|  |  |  |  |  |  |
|  |  |  |  |  |  |
|  |  |  |  |  |  |
|  |  |  |  |  |  |





★ NOME: \_\_\_\_\_


★ ESCOLA: \_\_\_\_\_ TURMA: \_\_\_\_\_

★ DATA: IBIÚNA, 09 DE DEZEMBRO DE 2021

★ DISCIPLINA: ARTES

## MEIO AMBIENTE

Pinte somente o que devemos fazer ao meio ambiente.







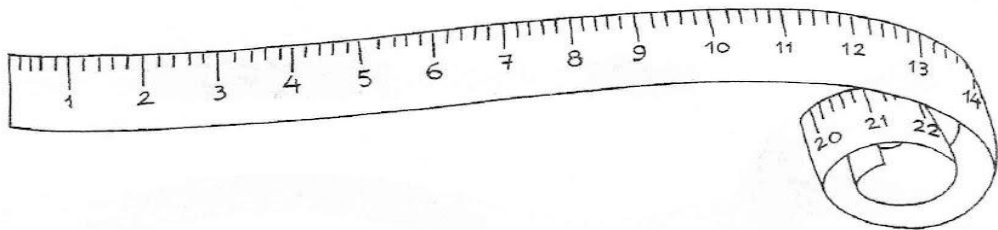
★ NOME: \_\_\_\_\_

★ ESCOLA: \_\_\_\_\_ TURMA: \_\_\_\_\_


★ DATA: IBIÚNA, 09 DE DEZEMBRO DE 2021

★ DISCIPLINA: MATEMÁTICA

Para medir o comprimento usamos o **metro**.



Pinte as figuras que indicam o que compramos por **metro**.



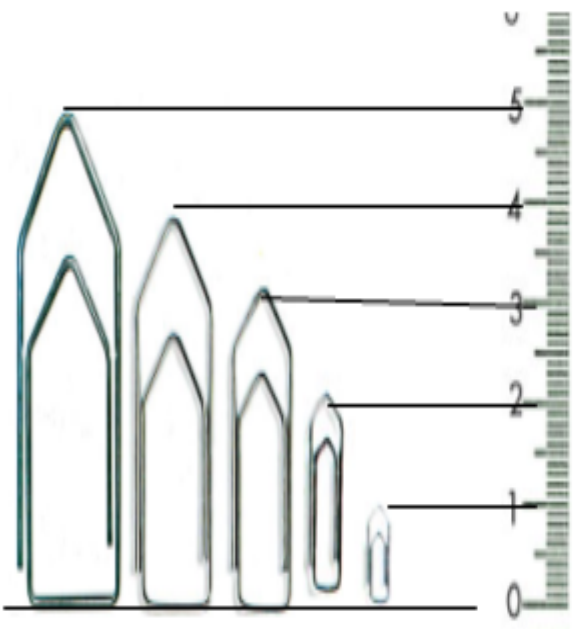


★ NOME: \_\_\_\_\_

★ ESCOLA: \_\_\_\_\_ TURMA: \_\_\_\_\_

★ DATA: IBIÚNA, 09 DE DEZEMBRO DE 2021 \_\_\_\_\_

★ DISCIPLINA: MATEMÁTICA \_\_\_\_\_



a) Quantos centímetros de comprimento tem cada clipe?

b) Quantos centímetros o clipe maior tem a mais que o menor?







★ NOME: \_\_\_\_\_

★ ESCOLA: \_\_\_\_\_ TURMA: \_\_\_\_\_

★ DATA: IBIÚNA, 10 DE DEZEMBRO DE 2021 \_\_\_\_\_

★ DISCIPLINA: CIÊNCIAS \_\_\_\_\_

O sol é uma estrela que possui luz própria.

c) O sol é a estrela mais importante porque ?



- ( ) Não aquece os planetas.
- ( ) Ilumina apenas a lua.
- ( ) Ilumina e aquece a Terra.

O sol nos faz bem a saúde, mas temos que nos cuidar pois sol em excesso é prejudicial a nossa pele.

3) Escreva em que parte do corpo devemos usar cada coisa para nos proteger do sol .



Uso o protetor solar na .....



Uso os óculos nos .....



Uso o chapéu na .....

cabeça

pele

olhos





NOME: \_\_\_\_\_


ESCOLA: \_\_\_\_\_ TURMA: \_\_\_\_\_

DATA: IBIÚNA, 10 DE DEZEMBRO DE 2021 \_\_\_\_\_


DISCIPLINA: CIÊNCIAS \_\_\_\_\_

**TROCANDO OS SÍMBOLOS PELAS LETRAS CORRESPONDENTES, VOCÊ VAI VER UM FATOR QUE CONTRIBUI PARA O AUMENTO DA POLUIÇÃO DO PLANETA!**

- = A
- = T
- = N
- = M
- = O
- = D
- = E
- = S




RESP: DESMATEAMENTO.



MAURICIO

QUE TAL ELIMINAR AS LETRAS R, P, X E J PARA DESCOBRIR COMO É CHAMADO O AUMENTO DA TEMPERATURA NA SUPERFÍCIE DO PLANETA TERRA?



RESP: AQUECIMENTO GLOBAL.





★ NOME: \_\_\_\_\_

★ ESCOLA: \_\_\_\_\_ TURMA: \_\_\_\_\_

★ DATA: IBIÚNA, 10 DE DEZEMBRO DE 2021 \_\_\_\_\_

★ DISCIPLINA: ARTES \_\_\_\_\_

VAMOS COLORIR?







★ NOME: \_\_\_\_\_

★ ESCOLA: \_\_\_\_\_ TURMA: \_\_\_\_\_

★ DATA: IBIÚNA, 13 DE DEZEMBRO DE 2021 \_\_\_\_\_

★ DISCIPLINA: RECREAÇÃO \_\_\_\_\_

★ **BINGO DE NATAL**

|  |  |  |
|--|--|--|
|   |   |   |
| <b>CARTELA 1 DO BINGO DO NATAL</b>   |  |  |
|  |  |  |

|   |   |   |
|---|---|---|
|  |  |  |
| <b>CARTELA 2 DO BINGO DO NATAL</b>  |   |   |
|  |  |  |





## CARTELA 3 DO BINGO DO NATAL



## CARTELA 4 DO BINGO DO NATAL





# FIGURINHAS PARA RETIRAR DA CAIXA





★ NOME: \_\_\_\_\_

★ ESCOLA: \_\_\_\_\_ TURMA: \_\_\_\_\_

★ DATA: IBIÚNA, 14 DE DEZEMBRO DE 2021 \_\_\_\_\_

★ DISCIPLINA: RECREAÇÃO \_\_\_\_\_

# JOGO DA MEMÓRIA DO NATAL



## REFERÊNCIAS

★ [atividadesparaeducadores.blogspot.com](http://atividadesparaeducadores.blogspot.com)

★ [atividadespedagogicas.net](http://atividadespedagogicas.net)

★ [cantinodosaber.com.br](http://cantinodosaber.com.br)

★ [conhecimentosetransformacao.blogspot.com](http://conhecimentosetransformacao.blogspot.com)

★ [lereaprender.com.br](http://lereaprender.com.br)