

E M" WALDOMIRO ANTONIO SOARES"

16ª APOSTILA

NOME:

ANO: 5º ANO B

PROFESSORA: DIANA



Orientação: Ler o texto com muita atenção e responder as perguntas.

ESCOLA _____
 DATA _____ SÉRIE _____
 PRO _____
 ALUNO(A) _____



A árvore de Beto

O Beto tinha muita vontade de ter uma árvore de Natal. Era o sonho dele. Uma árvore grande, como o da casa do Caloca. Mas o pai de Beto não podia comprar.

Todo ano ele prometia, mas todo ano acontecia alguma coisa e ele nunca podia dar a árvore para Beto.

Um dia, o Beto teve uma ideia.

Lá na nossa rua tem um terreno vazio, um terreno baldio. O Beto resolveu plantar uma árvore lá e esperar até que ela crescesse.

Limpou um pedaço do terreno... Arranjou um pouco de adubo com Seu Alexandre, o jardineiro...

Comprou uma muda pequenininha de pinheiro... E plantou no terreno.

Todos os dias, o Beto regava a mudinha dele. Revolveia a terra em volta, tirava os galhinhos secos. Vigiava para não subir formiga. Cuidava da plantinha como se fosse uma gentinha. E a plantinha foi crescendo, forte e bonita.

Eu não sei quanto tempo o Beto cuidou daquela planta. Foi muito tempo... Até que a árvore do Beto ficou grande, cheia de galhos, uma beleza! Prontinha para virar árvore de Natal.



Ruth Rocha

Interpretação de texto

Responda marcando X, de acordo com o texto que você acabou de ler:

- 1) Qual era o sonho de Beto?
 - Plantar uma árvore.
 - Ter uma árvore maior que a do Carlinhos.
 - Ter uma árvore de Natal.

- 2) Por que o menino não realizava seu sonho?
 - Porque ele se esquecia de pedir.
 - Porque seu pai não tinha dinheiro para comprar.
 - Porque ele não cuidava da árvore direito.

3) O que Beto fez para realizar seu sonho?

- () Comprou uma mudinha de pinheiro e plantou num terreno baldio.
- () Pediu ao seu pai uma árvore de Natal.
- () Pediu ao Carlinhos a árvore de Natal da casa dele.

4) Quais os cuidados que Beto tinha com a mudinha todos os dias?

4) Encontre no texto e pinte a parte que mostra que Beto conseguiu realizar seu sonho. Copie aqui.

5) Retire do texto:

- a) O apelido do amigo de Beto. _____
- b) O nome do jardineiro. _____
- d) Duas palavras no diminutivo: _____

GRAMÁTICA

1) Reescreva as frases abaixo substituindo corretamente os nomes sublinhados por pronomes:

ELE, ELA

- a) Beto sonhava em ter uma árvore de Natal.
- b) A formiga era vigiada para não cortar as folhas da árvore.
- c) O galho seco era cortado por Beto.
- d) A árvore ficou grande e cheia de galhos, uma beleza!

2) Reescreva as frases substituindo as palavras repetidas por pronomes:

- a) O pai de Beto não podia comprar uma árvore. Todo ano o pai prometia, mas acontecia alguma coisa e nunca podia dar a árvore para Beto.

- b) Um dia, Beto teve uma ideia. O Beto resolveu plantar uma árvore no terreno baldio da rua e esperar até que ela crescesse.

3) Pinte os substantivos de vermelho e os adjetivos de amarelo.

- a) Uma árvore grande de Natal.
- b) Comprou um pinheiro pequenininho.
- c) Todo o dia tirava os galhos secos.
- d) E a plantinha foi crescendo forte e bonita.

Orientação: Leia o enunciado de cada problema e resolva as atividades.

NOME _____
 TURMA _____ DATA _____ PROF. _____

Problemas Natalino

1 – Como todos nós sabemos Papai Noel distribui muitos presentes na noite de Natal. Mas para que isso seja possível todos os dias vários ajudantes trabalham incansavelmente em sua fábrica de brinquedos.

Papai Noel é muito organizado e anota quantos brinquedos são produzidos diariamente, de segunda à sexta. Observe:

OUTUBRO	Segunda-feira	Terça-feira	Quarta-feira	Quinta-feira	Sexta-feira
1ª semana	67	121	100	99	125
2ª semana	102	68	97	115	93
3ª semana	71	98	118	122	153

a) Quantos brinquedos foram feitos na 1ª semana?

Cálculo

Resposta: _____



b) Qual foi a quantidade de brinquedos produzida na 2ª semana?

Cálculo

Resposta: _____

2) Meu pai ganha R\$ 700,00 por mês. No Natal receberá um aumento de R\$145,00 para as comemorações. Quanto meu pai receberá no Natal?

Cálculo

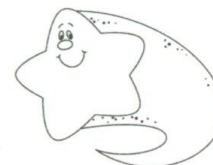
Resposta: _____



3) Para enfeitar nossa casa no Natal, mamãe comprou 3 pacotes com 80 estrelinhas coloridas em cada um. Quantas estrelinhas mamãe comprou ao todo?

Cálculo

Resposta: _____



4 – No prédio onde Thiago mora tem 210 apartamentos, porém apenas 168 estão ocupados com as famílias comemorando a noite de Natal. Quantos apartamentos estão vazios?

Cálculo

Resposta: _____



Orientação: Leia o texto atentamente e faça a interpretação.

Escola _____

Professor(a): _____ Data: _____


Aluno(a): _____ @sugestoes.pedagogicas 

Habilidades de acordo com a BNCC: EF35LP26, EF35LP03, EF35LP04, EF15LP03 e EF35LP29

25 DE DEZEMBRO - NATAL

A árvore de Natal

Era uma vez, há muito tempo, um pequeno povoado situado em uma ilha. Nesse povoado vivia uma família muito pobre. Quando o Natal estava se aproximando, eles não sabiam como o celebraria porque não tinham dinheiro.



Então o pai da família começou a se perguntar como poderia ganhar dinheiro para passar a noite de Natal dividindo um delicioso peru ao forno com sua família, desfrutando da festa junto ao fogo.

Decidiu que ganharia dinheiro vendendo árvores de Natal. Assim, no dia seguinte se levantou bem cedo e subiu à montanha para cortar alguns pinhos.

Subiu a montanha, cortou cinco pinhos e os carregou em sua carroça para vendê-los no mercado. Quando só faltavam dois dias para o Natal, não tinha vendido nenhum dos pinhos. Finalmente, decidiu que já que não vendia nada, que presentearia as árvores de Natal para as pessoas mais pobres que a sua família. As pessoas se mostraram muito agradecidas pelo presente.

Na noite de Natal, quando voltou à sua casa, o homem teve uma grande surpresa. Em cima da mesa havia um peru e ao lado uma pequena árvore de natal.

Sua esposa lhe disse que alguém muito bondoso tinha deixado isso em sua porta.

Naquela noite, soube que esse presente tinha sido concedido pela boa obra que ele havia feito, presenteando aqueles pinhos que havia cortado na montanha.

Fonte: <https://br.guiainfantil.com/materias/natal-arvore-de-natal-conto-de-natal/>

1) Após a leitura do texto, responda.

a) Qual é o título do texto?

b) Quem é o personagem principal da narrativa?

c) Em qual lugar acontece a história?

2) O tema abordado pelo texto "A árvore de Natal" é:

- (A) O lucro que se pode ter com a venda de árvores de Natal.
- (B) A importância de saber dividir, de saber doar aos menos favorecidos.
- (C) Os ingredientes que fazem parte de uma ceia de Natal.
- (D) Como podemos ganhar dinheiro para comprar alimentos para o Natal.

3) O texto lido pertence ao gênero textual conto. Assinale a alternativa que apresenta características desse tipo de texto.

- (A) Narrativa curta, que possui animais como personagens e tem o objetivo de transmitir um ensinamento.
- (B) Texto organizado em versos e estrofes, que possui rimas e tem a finalidade de despertar sentimentos.
- (C) Texto que apresenta fatos do cotidiano, tal como acontecem, escrito com a finalidade de informar.
- (D) Narrativa curta, que cria um universo de seres, de fantasia ou acontecimentos, apresenta poucos personagens, um narrador, ponto de vista e enredo.

4) O conto é uma narrativa que apresenta narrador. Sobre o narrador, o que é correto afirmar?

- (A) É um narrador observador, pois não participa da história.
- (B) O narrador da história é o pai da família.
- (C) O narrador da história é a esposa.
- (D) O narrador é um dos personagens da história.

5) O trecho "Quando só faltavam dois dias para o Natal, não tinha vendido nenhum dos pinhos.

Finalmente, decidiu que já que não vendia nada, que presentearia as árvores de Natal para as pessoas mais pobres que a sua família." é considerado qual elemento da estrutura do conto?

- (A) Conflito (situação-problema)
- (B) Clímax (momento de maior tensão)
- (C) Desfecho (final)

6) Assinale a alternativa que apresenta o desfecho, ou seja, como terminou essa história.

- (A) O homem receber um peru de Natal como agradecimento pela boa ação que fez.
- (B) O homem não conseguir vender os pinhos e resolver presentear as famílias mais pobres com as árvores de Natal.
- (C) O homem resolver vender pinhos para ganhar dinheiro.
- (D) O homem subir na montanha para cortar os pinhos.

Artes

Data:03/12/2021

Orientação: Colorir o desenho com muito capricho.




Orientação: Com atenção leia os pronomes pessoais e faça a atividade, se tiver alguma dúvida pode chamar a professora no período das 07:00h as 11:00h.

Pronomes Pessoais

 <i>Singular</i>	1.ª Pessoa	eu
	2.ª Pessoa	tu
	3.ª Pessoa	ele , ela
 <i>Plural</i>	1.ª Pessoa	nós
	2.ª Pessoa	vós
	3.ª Pessoa	eles, elas

Escola _____
Professor(a): _____ Data: _____
Aluno(a): _____ @sugestoes.pedagogicas

Habilidades de acordo com a BNCC: EF35LP14



1) Leia novamente o último parágrafo Do conto "A árvore de Natal" e responda.

"Naquela noite, soube que **esse** presente tinha sido concedido pela boa obra que **ele** havia feito, presenteando aqueles pinhos que havia cortado na montanha."

a) O pronome **esse** está se referindo à qual substantivo?

b) A qual substantivo citado anteriormente no texto o pronome **ele** está se referindo?

2) Reescreva as frases substituindo as palavras em destaque por pronomes pessoais.

a) **Márcia e Rodrigo** irão viajar no Natal para Recife.

b) **Juliana e Carina** compraram uma árvore de Natal.

c) **Carolina, Fernando e eu** iremos comemorar o Natal na casa da vovó.

d) **Sandro e Gabriel** participarão do amigo oculto.

3) No trecho retirado da narrativa "... **cortou cinco pinhos e os carregou em sua carroça para vendê-los no mercado.**" qual palavra nos apresenta a ideia de posse, sendo classificada como pronome possessivo?

Orientação: Leia os problemas e resolva as atividades.

Escola _____
Professor(a): _____ Data: _____ **Viviane Araújo** 
Aluno(a): _____ @sugestoes.pedagogicas

Habilidades de acordo com a BNCC: EF05MA07 e EF05MA08

DESAFIOS MATEMÁTICOS

1) Uma família resolveu investir na plantação de pinhos para vender no Natal. Eles decidiram organizar as mudas em 13 fileiras. Plantaram 24 mudas de pinho em cada fileira. Ao todo, quantos pinhos foram plantados?

Cálculo: _____
Resposta: _____

2) Na sexta-feira a família vendeu 92 pinhos e no sábado venderam 187. Ao todo, quantos pinhos foram vendidos?

Cálculo: _____
Resposta: _____


3) A família conseguiu 312 mudas de pinho. Como são 6 pessoas compondo a família, eles dividiram igualmente a quantidade de mudas entre seus membros para realizarem o plantio. Quantas mudas cada pessoa plantou?

Cálculo: _____
Resposta: _____

4) Das 312 mudas que conseguiram, a família plantou 150 no primeiro dia. Quantas mudas ainda faltam ser plantadas?

Cálculo: _____
Resposta: _____

Orientação: Leia com atenção o exto e responda as perguntas.

Escola _____
Professor(a): _____ Data: _____
Aluno(a): _____ @sugestoes.pedagogicas 

Habilidades de acordo com a BNCC: EF35LP21, EF35LP04 e EF15LP03.



História do Natal

O Natal é celebrado no dia 25 de dezembro. É a data em que os cristãos comemoram o nascimento de Jesus Cristo.

O Natal teve origem em festas pagãs que eram realizadas na antiguidade. Nessa data, os romanos celebravam a chegada do inverno (solstício de inverno). Eles cultuavam o Deus Sol (natalis invicti Solis), e ainda realizavam dias de festividades com o intuito de renovação.

Outros povos da antiguidade também celebravam a data, seja pela chegada do inverno ou pela passagem do tempo.

A partir do século IV, e com a consolidação do Cristianismo, a festividade foi oficializada como Natale Domini (Natal do Senhor).

A escolha da data foi determinada pelo Papa Julius I (337-352) e, mais tarde, foi declarada feriado nacional pelo Imperador Justiniano, em 529.

Adaptado de: <https://www.todamateria.com.br/historia-do-natal/>

1) Após a leitura, responda.

a) Quando o Natal é celebrado?

b) O que representa o Natal para os cristãos?

c) Quem determinou a escolha da data 25 de dezembro para a comemoração do Natal?

2) Complete o acróstico abaixo com valores relacionados ao Natal. Eu Comecei!

FRATER N IDADE


N
A
T
A
L



Orientação: Resolva as divisões.

Nome: _____

Arme e resolva

$89 \div 3$	$70 \div 7$	$37 \div 4$	$26 \div 9$
$374 \div 5$			$104 \div 9$
$90 \div 9$			$36 \div 4$
$466 \div 8$	$515 \div 3$	$143 \div 2$	$455 \div 6$

Orientação: Colorir o desenho, recortar, montar o presépio em uma caixa de sapato ou papelão, tirar uma foto e enviar para a professora.

VAMOS MONTAR UM PRESEPIO?

