



PREFEITURA DA ESTÂNCIA TURÍSTICA DE  
**IBIÚNA**  
Por uma Ibiúna próspera. Investindo no presente, gerando o futuro.  
SECRETARIA DE EDUCAÇÃO



E.M. "MAFALDA DALPRA MATIUSSO"

ALUNO (A): \_\_\_\_\_

PROFESSORA: ROSÂNGELA

TURMA: 4º ANO-B

## APOSTILA DE ATIVIDADES Nº 15

**Período: 01/12/2021 a 14/12/2021**

**Data da devolução: 10 de dezembro**

E.M. \_\_\_\_\_

NOME: \_\_\_\_\_

PROFESSORA \_\_\_\_\_ DATA: 01/12//2021

## LÍNGUA PORTUGUESA

Leia com atenção e responda;

**NATAL**

### TRABALHANDO COM TIRINHA



1- O tema principal desta tirinha é:

TOURADA       NATAL       CORRIDA NO SACO

2- Quais são os personagens principais do texto?

3- De que o Cebolinha está vestido?

4- O que aconteceu com o Cebolinha? Por que será?

5- Numere pelos sinônimos:

( 1 ) Distribuir	(    ) antecipar
( 2 ) Adiantar	(    ) ligeirinho
( 3 ) Rapidinho	(    ) repartir

6- Retire do texto da tirinha palavras com:

ss: \_\_\_\_\_ es: \_\_\_\_\_

pr: \_\_\_\_\_ nh: \_\_\_\_\_

el: \_\_\_\_\_ Ce: \_\_\_\_\_

# ADIÇÃO

CALCULE AS OPERAÇÕES E DÊ OS RESULTADOS

$$\begin{array}{r} 932 \\ +265 \\ \hline \end{array}$$

$$\begin{array}{r} 544 \\ +384 \\ \hline \end{array}$$

$$\begin{array}{r} 676 \\ +378 \\ \hline \end{array}$$

$$\begin{array}{r} 434 \\ +272 \\ \hline \end{array}$$

$$\begin{array}{r} 569 \\ +379 \\ \hline \end{array}$$

$$\begin{array}{r} 853 \\ +476 \\ \hline \end{array}$$

$$\begin{array}{r} 934 \\ +888 \\ \hline \end{array}$$

$$\begin{array}{r} 355 \\ +299 \\ \hline \end{array}$$

$$\begin{array}{r} 832 \\ +566 \\ \hline \end{array}$$

$$\begin{array}{r} 754 \\ +657 \\ \hline \end{array}$$

$$\begin{array}{r} 873 \\ +598 \\ \hline \end{array}$$

$$\begin{array}{r} 794 \\ +296 \\ \hline \end{array}$$

$$\begin{array}{r} 798 \\ +543 \\ \hline \end{array}$$

$$\begin{array}{r} 632 \\ +268 \\ \hline \end{array}$$

$$\begin{array}{r} 553 \\ +477 \\ \hline \end{array}$$

$$\begin{array}{r} 755 \\ +509 \\ \hline \end{array}$$

$$\begin{array}{r} 488 \\ +399 \\ \hline \end{array}$$

$$\begin{array}{r} 349 \\ +252 \\ \hline \end{array}$$


$$\begin{array}{r} 647 \\ +538 \\ \hline \end{array}$$

$$\begin{array}{r} 764 \\ +535 \\ \hline \end{array}$$

$$\begin{array}{r} 328 \\ +239 \\ \hline \end{array}$$

$$\begin{array}{r} 376 \\ +287 \\ \hline \end{array}$$

$$\begin{array}{r} 503 \\ +467 \\ \hline \end{array}$$



E.M. \_\_\_\_\_

NOME: \_\_\_\_\_

PROFESSORA \_\_\_\_\_ DATA: 02/12/2021

LÍNGUA PORTUGUESA

**A ÁRVORE DE NATAL DO PAPAI NOEL**

O Natal estava chegando!

Papai Noel estava muito animado porque já estava na hora de montar a sua árvore de Natal!

Papai Noel colocou músicas natalinas no rádio! Enquanto Papai Noel montava a árvore, ele cantava, cantava, cantava.

Armar a árvore de Natal era um dia muito especial!

Mamãe Noel ajudou o bom velhinho a deixar a árvore bem bonita!

Quando os elfos chegaram para ver a árvore de Natal, eles ficaram encantados!

Para terminar o dia, Papai Noel, Mamãe Noel e os elfos cantaram e rezaram pedindo ao Papai do Céu que abençoasse o Natal. Eles queriam que o Natal fosse um dia muito especial para todas as pessoas!



• Este texto é:

conto.  piada.  receita.

• Papai Noel estava animado porque:

ele estava entregando os presentes de Natal.  
 os elfos foram ver a árvore de Natal.  
 tinha chegado o dia de montar a árvore de Natal.

• Enquanto montava a árvore, Papai Noel:

conversava com os elfos.  
 dançava.  
 ouvia e cantava músicas de Natal.

• Quem ajudou o Papai Noel a montar a sua árvore de Natal?

A Mamãe Noel.  As pessoas.  Os elfos.

• Faça o desenho de uma árvore de Natal:

# SUBTRAÇÃO

CALCULE AS OPERAÇÕES E DÊ OS RESULTADOS

$$\begin{array}{r} 878 \\ -699 \\ \hline \end{array}$$

$$\begin{array}{r} 529 \\ -433 \\ \hline \end{array}$$

$$\begin{array}{r} 743 \\ -517 \\ \hline \end{array}$$

$$\begin{array}{r} 803 \\ -254 \\ \hline \end{array}$$

$$\begin{array}{r} 300 \\ -223 \\ \hline \end{array}$$

$$\begin{array}{r} 645 \\ -323 \\ \hline \end{array}$$

$$\begin{array}{r} 473 \\ -399 \\ \hline \end{array}$$

$$\begin{array}{r} 976 \\ -667 \\ \hline \end{array}$$

$$\begin{array}{r} 803 \\ -524 \\ \hline \end{array}$$

$$\begin{array}{r} 755 \\ -449 \\ \hline \end{array}$$

$$\begin{array}{r} 744 \\ -529 \\ \hline \end{array}$$

$$\begin{array}{r} 505 \\ -394 \\ \hline \end{array}$$

$$\begin{array}{r} 300 \\ -229 \\ \hline \end{array}$$

$$\begin{array}{r} 876 \\ -529 \\ \hline \end{array}$$

$$\begin{array}{r} 669 \\ -473 \\ \hline \end{array}$$



$$\begin{array}{r} 383 \\ -299 \\ \hline \end{array}$$

$$\begin{array}{r} 575 \\ -386 \\ \hline \end{array}$$

$$\begin{array}{r} 422 \\ -289 \\ \hline \end{array}$$

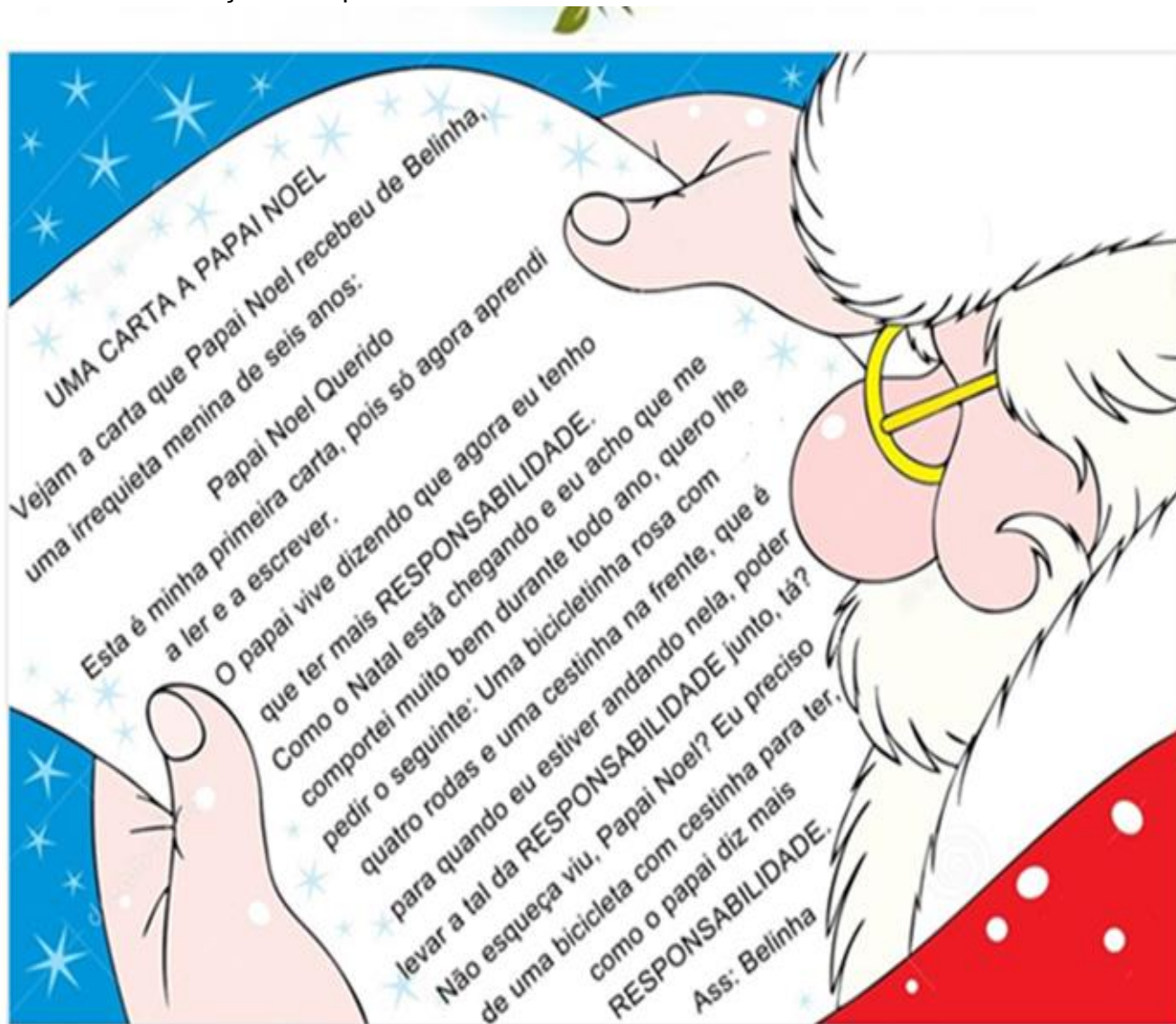
E.M. \_\_\_\_\_

NOME: \_\_\_\_\_

PROFESSORA \_\_\_\_\_ DATA: 03/12/2021

## LÍNGUA PORTUGUESA

Leia o texto com atenção e responda:



### É hora de compreender o texto !

1) Responda: ( 1,0 )

a) Qual é o título do texto? \_\_\_\_\_

b) Que gênero textual é esse? \_\_\_\_\_

c) Quem escreveu a carta? \_\_\_\_\_

d) Para quem ela escreveu ? \_\_\_\_\_

e) Que presente Belinha pediu? \_\_\_\_\_



# Matemática



I. Resolva as operações:

$$\begin{array}{r} 200 \\ - 198 \\ \hline \end{array}$$

$$\begin{array}{r} 200 \\ - 145 \\ \hline \end{array}$$

$$\begin{array}{r} 200 \\ - 132 \\ \hline \end{array}$$

$$\begin{array}{r} 200 \\ - 187 \\ \hline \end{array}$$

$$\begin{array}{r} 200 \\ - 164 \\ \hline \end{array}$$

$$\begin{array}{r} 300 \\ - 198 \\ \hline \end{array}$$

$$\begin{array}{r} 300 \\ - 145 \\ \hline \end{array}$$

$$\begin{array}{r} 300 \\ - 132 \\ \hline \end{array}$$

$$\begin{array}{r} 300 \\ - 187 \\ \hline \end{array}$$

$$\begin{array}{r} 300 \\ - 164 \\ \hline \end{array}$$

$$\begin{array}{r} 400 \\ - 198 \\ \hline \end{array}$$

$$\begin{array}{r} 400 \\ - 145 \\ \hline \end{array}$$

$$\begin{array}{r} 400 \\ - 132 \\ \hline \end{array}$$

$$\begin{array}{r} 400 \\ - 187 \\ \hline \end{array}$$

$$\begin{array}{r} 400 \\ - 164 \\ \hline \end{array}$$

$$\begin{array}{r} 500 \\ - 198 \\ \hline \end{array}$$

$$\begin{array}{r} 500 \\ - 145 \\ \hline \end{array}$$

$$\begin{array}{r} 500 \\ - 132 \\ \hline \end{array}$$

$$\begin{array}{r} 600 \\ - 198 \\ \hline \end{array}$$

$$\begin{array}{r} 600 \\ - 145 \\ \hline \end{array}$$

$$\begin{array}{r} 600 \\ - 132 \\ \hline \end{array}$$

$$\begin{array}{r} 700 \\ - 198 \\ \hline \end{array}$$

$$\begin{array}{r} 700 \\ - 145 \\ \hline \end{array}$$

$$\begin{array}{r} 700 \\ - 132 \\ \hline \end{array}$$



E.M. \_\_\_\_\_

NOME: \_\_\_\_\_

PROFESSORA \_\_\_\_\_

DATA: 06/12/2021

LÍNGUA PORTUGUESA

Leia o bilhete com atenção e responda as perguntas abaixo:



Quem escreveu o bilhete? \_\_\_\_\_

Para quem foi escrito o bilhete? \_\_\_\_\_


Como foi a despedida do bilhete? \_\_\_\_\_

Porque o bilhete foi escrito? \_\_\_\_\_

Em que época do ano o bilhete foi escrito? \_\_\_\_\_



EFETUANDO E FICANDO A PROVA



$$\begin{array}{r} 74 \\ - 66 \\ \hline \end{array}$$



$$+ \begin{array}{r} 66 \\ \hline \end{array}$$

$$\begin{array}{r} 513 \\ - 423 \\ \hline \end{array}$$

$$+ \begin{array}{r} 423 \\ \hline \end{array}$$

$$\begin{array}{r} 711 \\ - 618 \\ \hline \end{array}$$

$$+ \begin{array}{r} 618 \\ \hline \end{array}$$

$$\begin{array}{r} 71 \\ - 49 \\ \hline \end{array}$$

$$+ \begin{array}{r} 49 \\ \hline \end{array}$$

$$\begin{array}{r} 107 \\ - 82 \\ \hline \end{array}$$

$$+ \begin{array}{r} 82 \\ \hline \end{array}$$



E.M. \_\_\_\_\_

NOME: \_\_\_\_\_

PROFESSORA \_\_\_\_\_ DATA: 07/12/2021

### LÍNGUA PORTUGUESA

1- Observe as obras de Romero Britto.

TELA 1



TELA 2



a) Qual tela chama mais sua atenção? Por quê?

---

---

b) Qual o tema das duas telas?

---

c) Qual "figura" natalina é mais utilizada no comércio? Por quê?

---

---

2- Na TELA 1 Romero Britto retratou o nascimento de Jesus. Qual a importância desse dia para os cristãos?

---

---

3- O que você acha que significa:

Natal Cristão \_\_\_\_\_

---

Natal Comercial \_\_\_\_\_

MATEMÁTICA

# MULTIPLICAÇÃO

Pratique multiplicação efetuando os cálculos abaixo:

$$\begin{array}{r} 55 \\ \times 2 \\ \hline \end{array}$$

$$\begin{array}{r} 343 \\ \times 3 \\ \hline \end{array}$$

$$\begin{array}{r} 545 \\ \times 4 \\ \hline \end{array}$$

$$\begin{array}{r} 607 \\ \times 5 \\ \hline \end{array}$$

$$\begin{array}{r} 316 \\ \times 6 \\ \hline \end{array}$$

$$\begin{array}{r} 237 \\ \times 7 \\ \hline \end{array}$$

$$\begin{array}{r} 905 \\ \times 8 \\ \hline \end{array}$$

$$\begin{array}{r} 216 \\ \times 9 \\ \hline \end{array}$$

A) 
$$\begin{array}{r} 2368 \\ \times 8 \\ \hline \end{array}$$

B) 
$$\begin{array}{r} 1009 \\ \times 7 \\ \hline \end{array}$$

C) 
$$\begin{array}{r} 1350 \\ \times 5 \\ \hline \end{array}$$

D) 
$$\begin{array}{r} 8210 \\ \times 6 \\ \hline \end{array}$$

E) 
$$\begin{array}{r} 2226 \\ \times 9 \\ \hline \end{array}$$

F) 
$$\begin{array}{r} 1235 \\ \times 4 \\ \hline \end{array}$$

G) 
$$\begin{array}{r} 6347 \\ \times 7 \\ \hline \end{array}$$

I) 
$$\begin{array}{r} 2010 \\ \times 8 \\ \hline \end{array}$$

E.M. \_\_\_\_\_

NOME: \_\_\_\_\_


PROFESSORA \_\_\_\_\_

DATA: 08/12/2021

## LÍNGUA PORTUGUESA

**Leia o texto com atenção e responda:**

### *Biscoitos Natalinos*



#### Ingredientes

##### Para a massa

330 gramas de manteiga mole  
180 gramas de açúcar refinado  
Raspas de 1 limão  
1 colherinha de baunilha  
450 gramas de farinha de trigo

##### Para a cobertura

1 1/3 xícara de açúcar de confeiteiro  
2 colheres de água  
Flocos para decorar

<http://www.bolsademulher.com/receita/580/como-fazer-biscoitos-para-o-natal>

1- Júlia e Pedro estão fazendo deliciosos biscoitos natalinos para o Papai Noel. Observe os ingredientes utilizados na receita e responda.

a- Qual número de ingredientes necessários?

\_\_\_\_\_

b- Escreva os nomes dos ingredientes líquidos?

\_\_\_\_\_

c- Agora, escreva os nomes dos ingredientes sólidos.

\_\_\_\_\_

MATEMÁTICA

MULTIPLICAÇÃO POR 2 ALGARISMOS

$$\begin{array}{r} 28 \\ \times 88 \\ \hline \square\square\square \\ + \square\square\square 0 \\ \hline \square\square\square\square \end{array}$$

$$\begin{array}{r} 33 \\ \times 47 \\ \hline \square\square\square \\ + \square\square\square 0 \\ \hline \square\square\square\square \end{array}$$

$$\begin{array}{r} 66 \\ \times 34 \\ \hline \square\square\square \\ + \square\square\square 0 \\ \hline \square\square\square\square \end{array}$$

$$\begin{array}{r} 38 \\ \times 49 \\ \hline \square\square\square \\ + \square\square\square 0 \\ \hline \square\square\square\square \end{array}$$

$$\begin{array}{r} 24 \\ \times 96 \\ \hline \square\square\square \\ + \square\square\square 0 \\ \hline \square\square\square\square \end{array}$$

$$\begin{array}{r} 56 \\ \times 35 \\ \hline \square\square\square \\ + \square\square\square 0 \\ \hline \square\square\square\square \end{array}$$

$$\begin{array}{r} 23 \\ \times 77 \\ \hline \square\square\square \\ + \square\square\square 0 \\ \hline \square\square\square\square \end{array}$$

$$\begin{array}{r} 36 \\ \times 43 \\ \hline \square\square\square \\ + \square\square\square 0 \\ \hline \square\square\square\square \end{array}$$

$$\begin{array}{r} 22 \\ \times 65 \\ \hline \square\square\square \\ + \square\square\square 0 \\ \hline \square\square\square\square \end{array}$$

E.M. \_\_\_\_\_

NOME: \_\_\_\_\_

PROFESSORA \_\_\_\_\_ DATA: 09/12/2021

LÍNGUA PORTUGUESA



## *As renas do Papai Noel*

Vamos ler?

As renas do Papai Noel são as únicas renas do mundo que sabem voar, ajudando-o a entregar os presentes para as crianças do mundo todo na noite de Natal. Quando o Papai Noel ou o Pai Natal pede para serem rápidas, elas podem ser as mais rápidas renas do mundo. Mas quando ele quer, elas tornam-se lentas.

Wikipédia

a- Qual o assunto do texto?

\_\_\_\_\_

b- Cite duas características das renas de Noel.

\_\_\_\_\_

2- Leia:

A quantidade de renas que puxam o trenó é controversa, tudo por causa da rena conhecida como Rudolph. Existe uma lenda que diz que Rudolph teria entrado para equipe de renas titulares por ter um nariz vermelho e brilhante, que ajuda a guiar as outras renas durante as tempestades. E, a partir daquele ano, a quantidade de renas passou a ser nove, diferente dos trenós tradicionais, puxados por oito renas. Tal lenda foi criada em 1939 e retratada no filme Rudolph, a Rena do Nariz Vermelho (1960 e 1998).

Wikipédia

a –De acordo com o texto acima, por que Rudolph entrou para a equipe de renas titulares do Papai Noel?

\_\_\_\_\_  
\_\_\_\_\_  
\_\_\_\_\_

MATEMÁTICA

DIVISÃO

$\times 4$
$1 \times 4 =$
$2 \times 4 =$
$3 \times 4 =$
$4 \times 4 =$
$5 \times 4 =$
$6 \times 4 =$
$7 \times 4 =$
$8 \times 4 =$
$9 \times 4 =$
$10 \times 4 =$

$$58 \overline{)4} \quad 76 \overline{)4} \quad 89 \overline{)4} \quad 15 \overline{)4}$$

$$65 \overline{)4} \quad 34 \overline{)4} \quad 88 \overline{)4} \quad 46 \overline{)4}$$

**A)**

$$42 \overline{)2}$$

**B)**

$$360 \overline{)3}$$

**C)**

$$84 \overline{)4}$$

**D)**

$$875 \overline{)5}$$

**E)**

$$240 \overline{)6}$$

**F)**

$$490 \overline{)7}$$

**G)**

$$649 \overline{)8}$$

**H)**

$$785 \overline{)9}$$

E.M. \_\_\_\_\_


NOME: \_\_\_\_\_

PROFESSORA \_\_\_\_\_ DATA: 10/12/2021

**LÍNGUA PORTUGUESA**

Produza um texto falando como você espera  
que seja seu Natal

Meu Natal







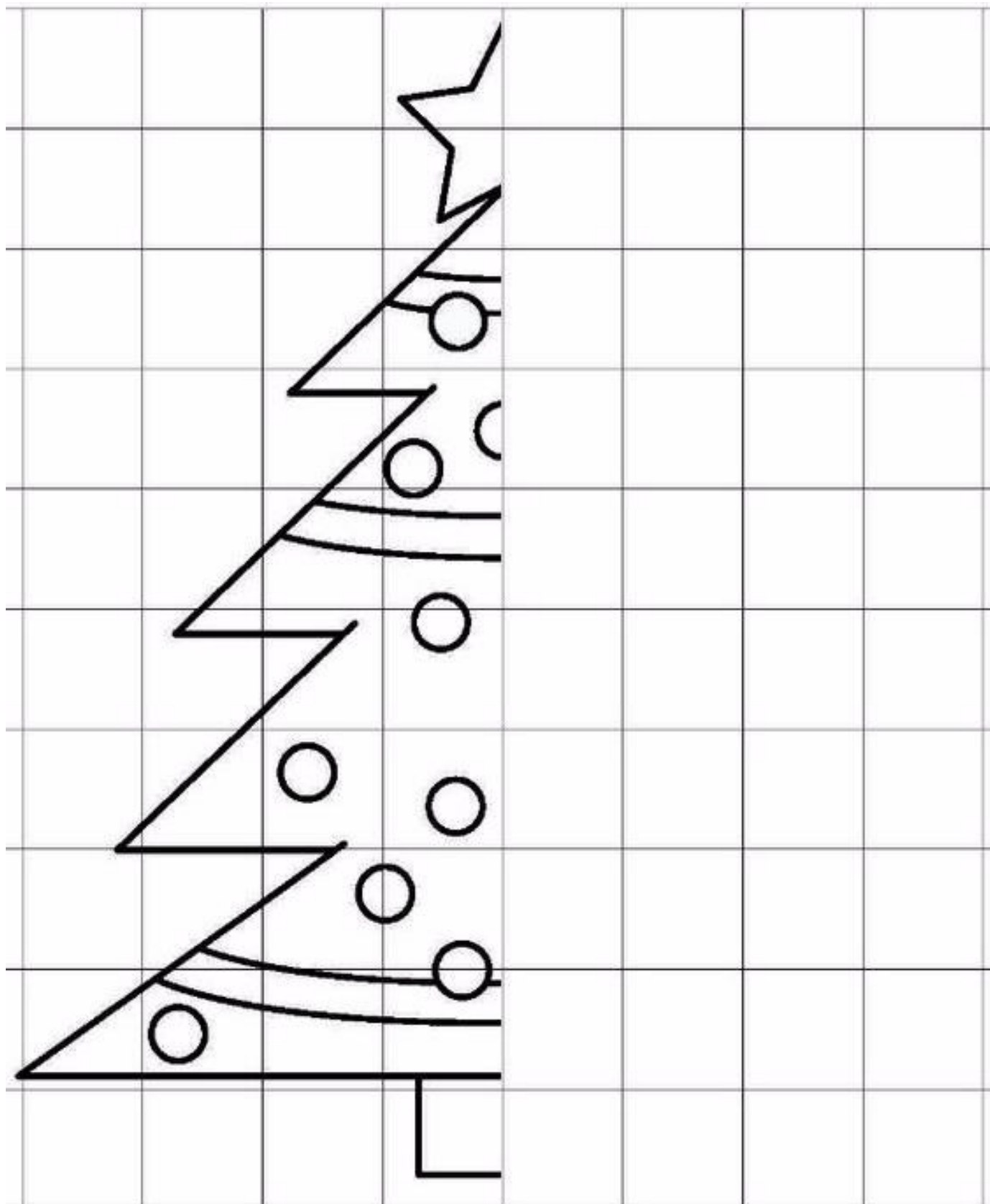
E.M. \_\_\_\_\_

NOME: \_\_\_\_\_

PROFESSORA \_\_\_\_\_ DATA: 13/12/2021

ARTE

Complete a imagem e pinte com capricho!



E.M. \_\_\_\_\_

NOME: \_\_\_\_\_

PROFESSORA \_\_\_\_\_ DATA: 14/12/2021

**ASSISTA O FILME “ KLAUS”. DEPOIS, FAÇA UM DESENHO COM CAPRICO SOBRE O QUE VOCÊ ENTENDEU DO FILME!**



## **REFERÊNCIAS BIBLIOGRÁFICAS**

<https://misturadealegria.blogspot.com/2013/11/tirinha-sobre-natal.html>

<https://danieducar.com.br/wp-content/uploads/2020/04/Atividades-de-mate>

<https://atividadesparaeducadores.blogspot.com/2017/12/2-ano-texto-arvore-de-natal-do-papai-noel-de-elisangela->

<https://danieducar.com.br/wp-content/uploads/2020/04/Atividades-de-matem>

<https://3.bp.blogspot.com/->

<https://i.pinimg.com/originals/af/53/31/af53312c498c872a3f334fadb21edefe.jpg>

<https://i.pinimg.com/474x/01/bf/98/01bf9844d9446d1616cccfb599eaf3c7.jpg>

<https://www.lipitipi.org/2018/11/atividade-sobre-natal-cristao-e-natal.html>

<https://viacarreira.com/wp-content/uploads/2021/02/atividades-de-matematica-4-ano-11.png>

<https://2.bp.blogspot.com/>

<https://i.pinimg.com/originals/42/9e/1a/429e1a1b6212eb086d396cac3af878d9.gif>