

E.M. "PROFESSORA YOLANDA AGOSTINHO DE LIMA."

MINHAS ATIVIDADES



PROFESSORA: ARIADNE PUZONE.

TURMA: 2º ANO A

ALUNO(A): _____

15ª APOSTILA

29/11 À 10/12

ENTREGA NA ESCOLA: 14/12

REFERENTE AO 4º BIMESTRE

NOME: _____ DATA: 29/11/2021

MATEMÁTICA

-ARME E RESOLVA AS SUBTRAÇÕES:

$79 - 22 =$

D	U

$69 - 53 =$

D	U

$77 - 21 =$

D	U

$68 - 53 =$

D	U

$87 - 22 =$

D	U

$69 - 12 =$

D	U

$76 - 34 =$

D	U

$98 - 24 =$

D	U



$79 - 12 =$

D	U

$69 - 51 =$

D	U

$66 - 12 =$

D	U


$78 - 24 =$

D	U

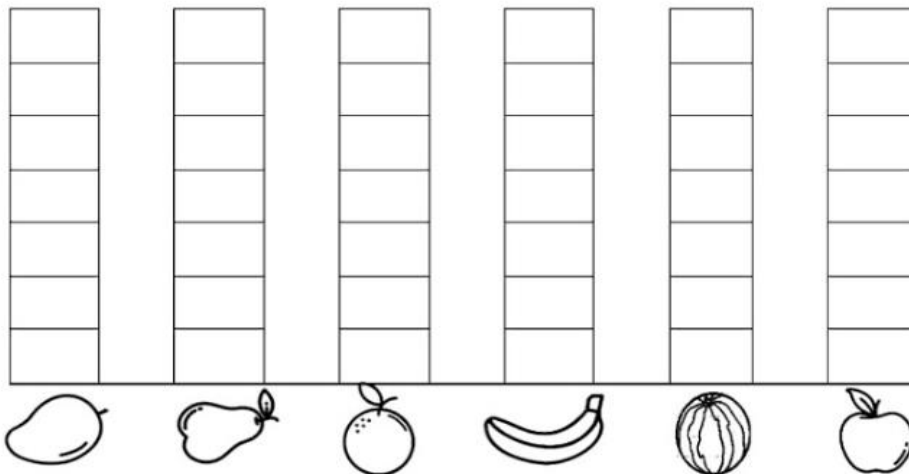
NOME: _____ DATA: 30/11/2021

MATEMÁTICA

1) FUI À FEIRA COMPRAR ALGUMAS FRUTAS. VEJA NO QUADRO ABAIXO AS FRUTAS QUE COMPREI:



A) CONTE AS FRUTAS E PINTE O GRÁFICO. DEPOIS RESPONDA AS QUESTÕES PROPOSTAS.



B) QUAL FRUTA COMPREI MAIOR QUANTIDADE?

() MANGA. () LARANJA. () MELANCIA. () BANANA.

C) O QUE COMPREI EM MENOR QUANTIDADE: **PÊRAS** OU **MAÇÃS**?

D) QUAIS FRUTAS COMPREI EM QUANTIDADES IGUAIS?

() BANANA E LARANJA. () LARANJA E MANGA.
() BANANA E MANGA. () MAÇÃ E PÊRA.

NOME: _____ DATA: 01/12/2021

MATEMÁTICA

PROBLEMAS DE MULTIPLICAÇÃO


1- EM CADA PACOTINHO TEM 7 BATATAS. QUANTAS BATATAS TEM AO TODO EM 2 PACOTINHOS?



2- EM CADA COFRINHO TEM 3 MOEDAS. QUANTAS MOEDAS TEM EM 3 COFRINHOS?



3- PARA CADA XÍCARA DE CAFÉ EU UTILIZO DUAS COLHERES DE AÇÚCAR. QUANTAS COLHERES AO TODO DEVO USAR PARA 3 XÍCARAS?



NOME: _____ DATA: 02/12/2021

MATEMÁTICA

RESOLVA AS ADIÇÕES.

$63 + 24 =$

$42 + 50 =$

$15 + 13 =$

$71 + 6 =$

$45 + 32 =$

$86 + 12 =$

$16 + 52 =$

$45 + 34 =$

$50 + 19 =$

$61 + 17 =$

$42 + 36 =$

$54 + 22 =$

$35 + 41 =$

$27 + 31 =$

$30 + 49 =$


$15 + 72 =$



NOME: _____ DATA: 03/12/2021

MATEMÁTICA

RESOLVA AS OPERAÇÕES E COLE O RESULTADO CORRETO:



22

17

77

56

33

34

25

37

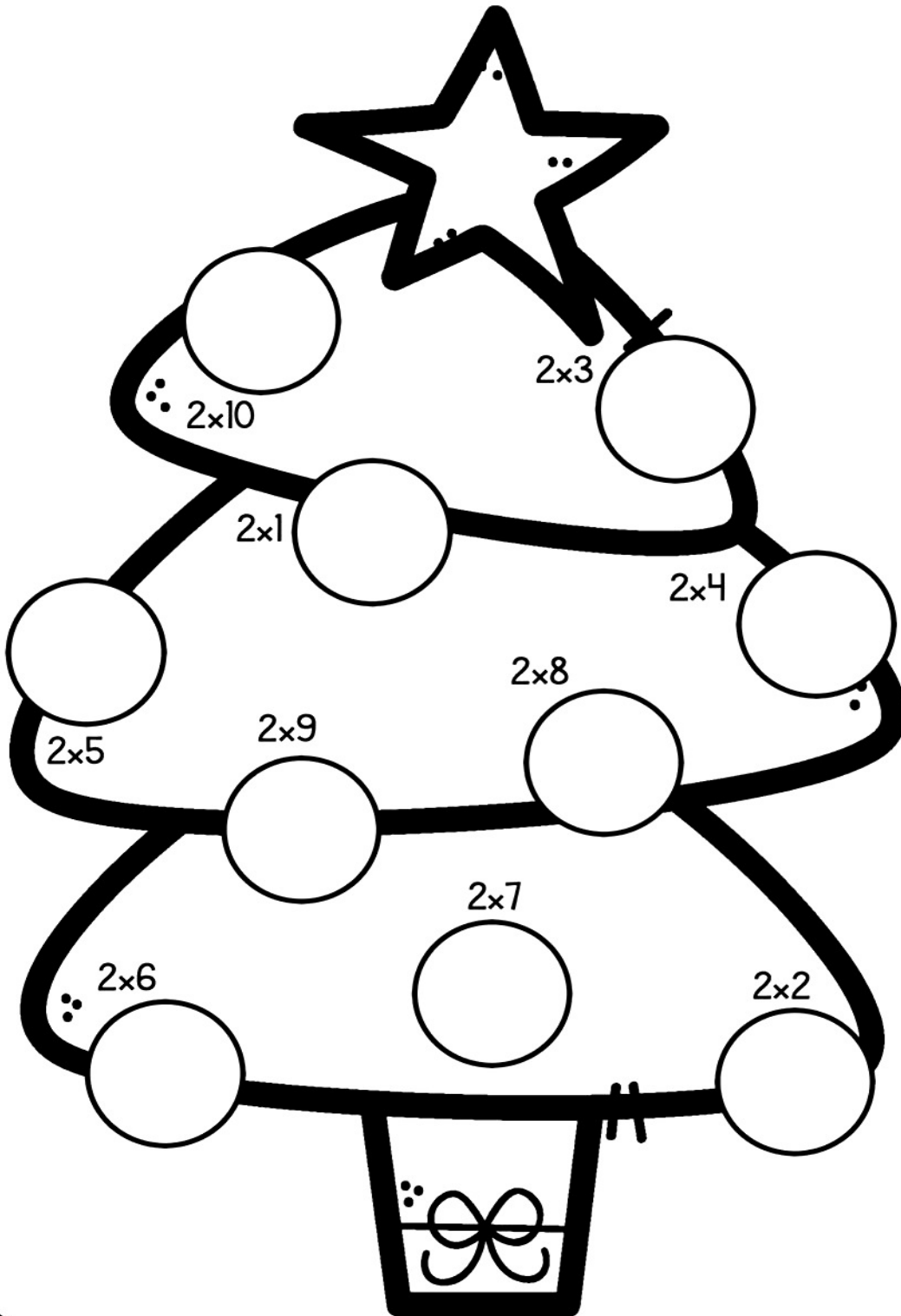
43

35

NOME: _____ DATA: 06/12/2021

MATEMÁTICA

MULTIPLICANDO E DECORANDO

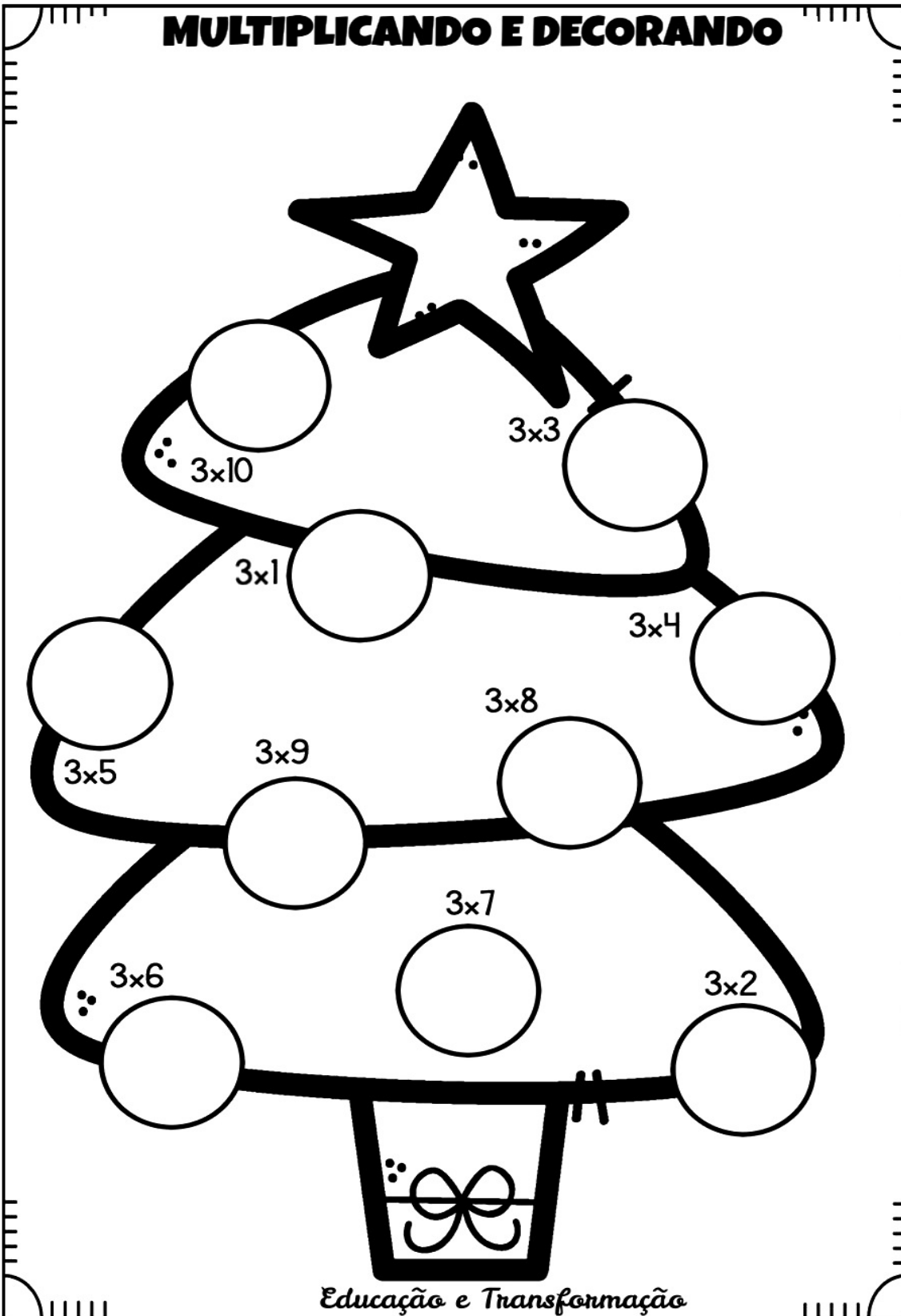


- 12
- 2
- 6
- 8
- 14
- 10
- 18
- 4
- 20
- 16

NOME: _____ DATA: 07/12/2021

MATEMÁTICA

MULTIPLICANDO E DECORANDO

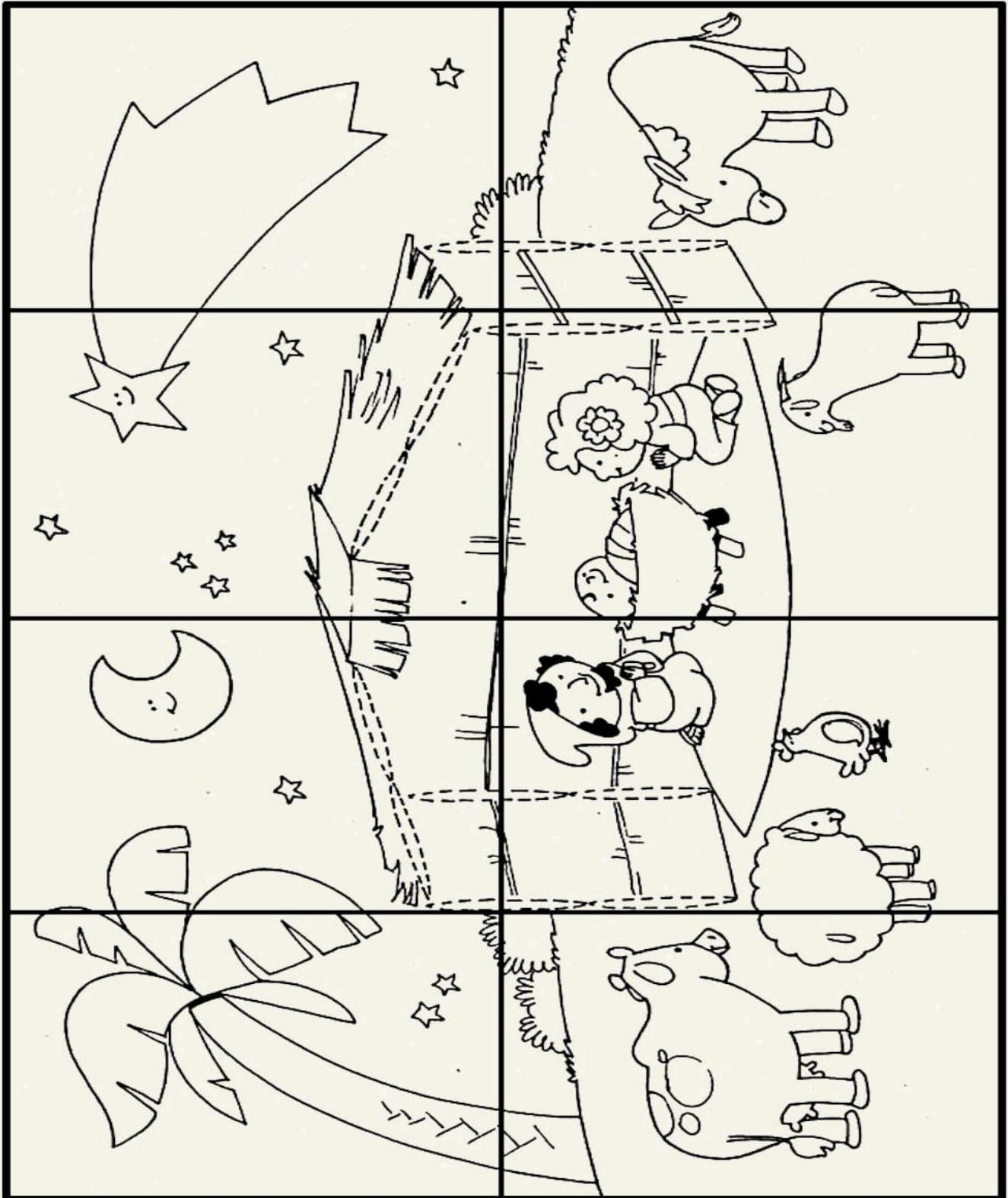


- 15
- 24
- 3
- 12
- 21
- 27
- 6
- 30
- 18
- 9

NOME: _____ DATA: 08/12/2021

MATEMÁTICA/ARTES

29- COLORIR, RECORTAR E MONTAR O QUEBRA-CABEÇA:





COLE O QUEBRA-CABEÇA AQUI:

NOME: _____ DATA: 09/12/2021

MATEMÁTICA

Calculando...



1- Efetue as adições e pinte a árvore de natal.

$$\begin{array}{r} 33 \\ +26 \\ \hline \end{array}$$

$$\begin{array}{r} 42 \\ +13 \\ \hline \end{array}$$

$$\begin{array}{r} 23 \\ +12 \\ \hline \end{array}$$

$$\begin{array}{r} 18 \\ +11 \\ \hline \end{array}$$

$$\begin{array}{r} 19 \\ +10 \\ \hline \end{array}$$

$$\begin{array}{r} 15 \\ +10 \\ \hline \end{array}$$

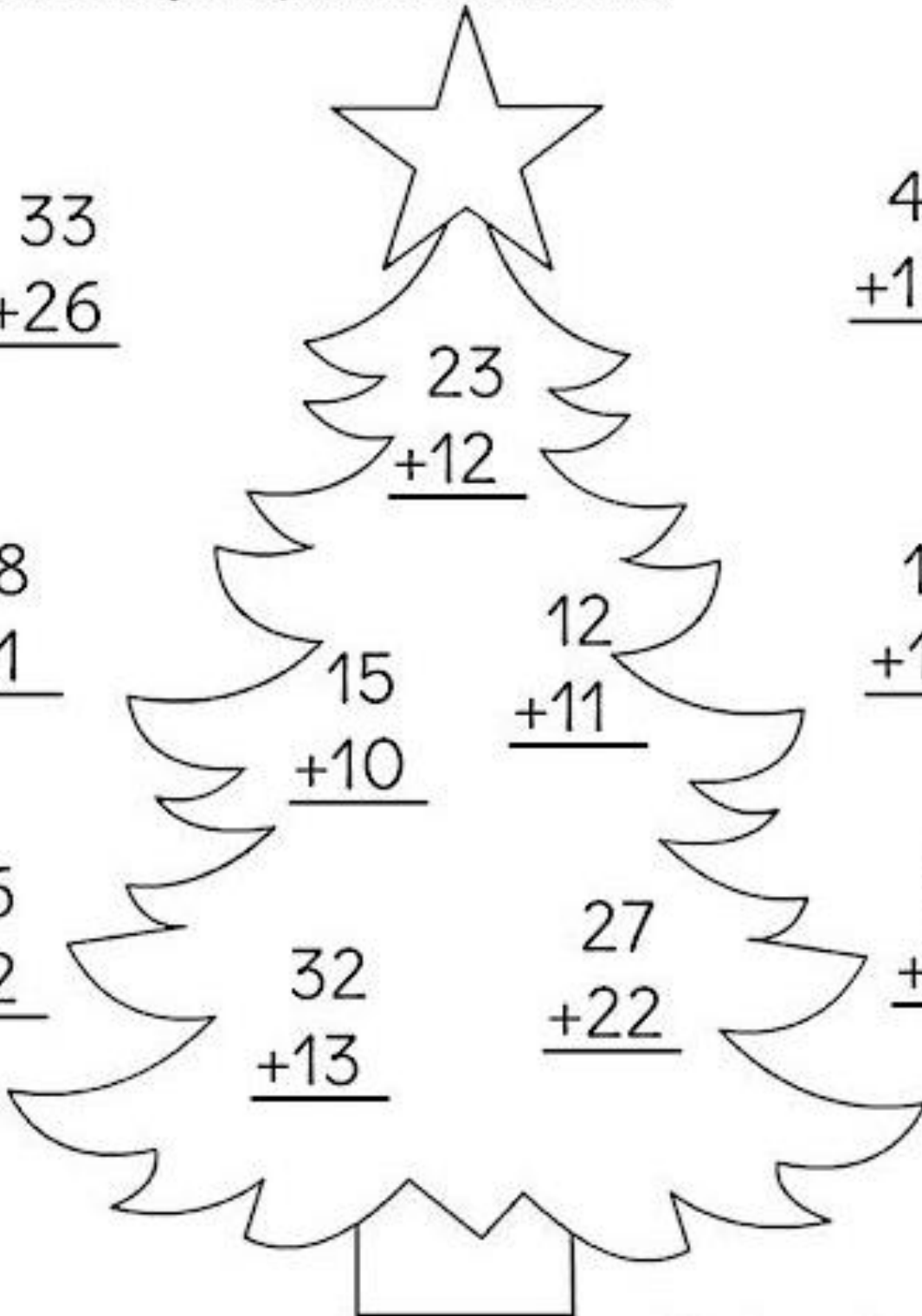
$$\begin{array}{r} 12 \\ +11 \\ \hline \end{array}$$

$$\begin{array}{r} 16 \\ +12 \\ \hline \end{array}$$

$$\begin{array}{r} 54 \\ +23 \\ \hline \end{array}$$

$$\begin{array}{r} 32 \\ +13 \\ \hline \end{array}$$


$$\begin{array}{r} 27 \\ +22 \\ \hline \end{array}$$



NOME: _____ DATA: 10/12/2021

MATEMÁTICA

FAÇA A SEQUÊNCIA NUMÉRICA DE 1 ATÉ 125 PARA AJUDAR O
PAPAI NOEL A CHEGAR ATÉ AS RENAS PARA PODER ENTREGAR OS
PRESENTES DE NATAL



								10			
										42	
							106				



NOME: _____ DATA: 09/12/2021

LÍNGUA PORTUGUESA

30- ESCREVA FRASES SOBRE CADA CENA E FORME UMA HISTÓRIA. NÃO ESQUEÇA DO TÍTULO:



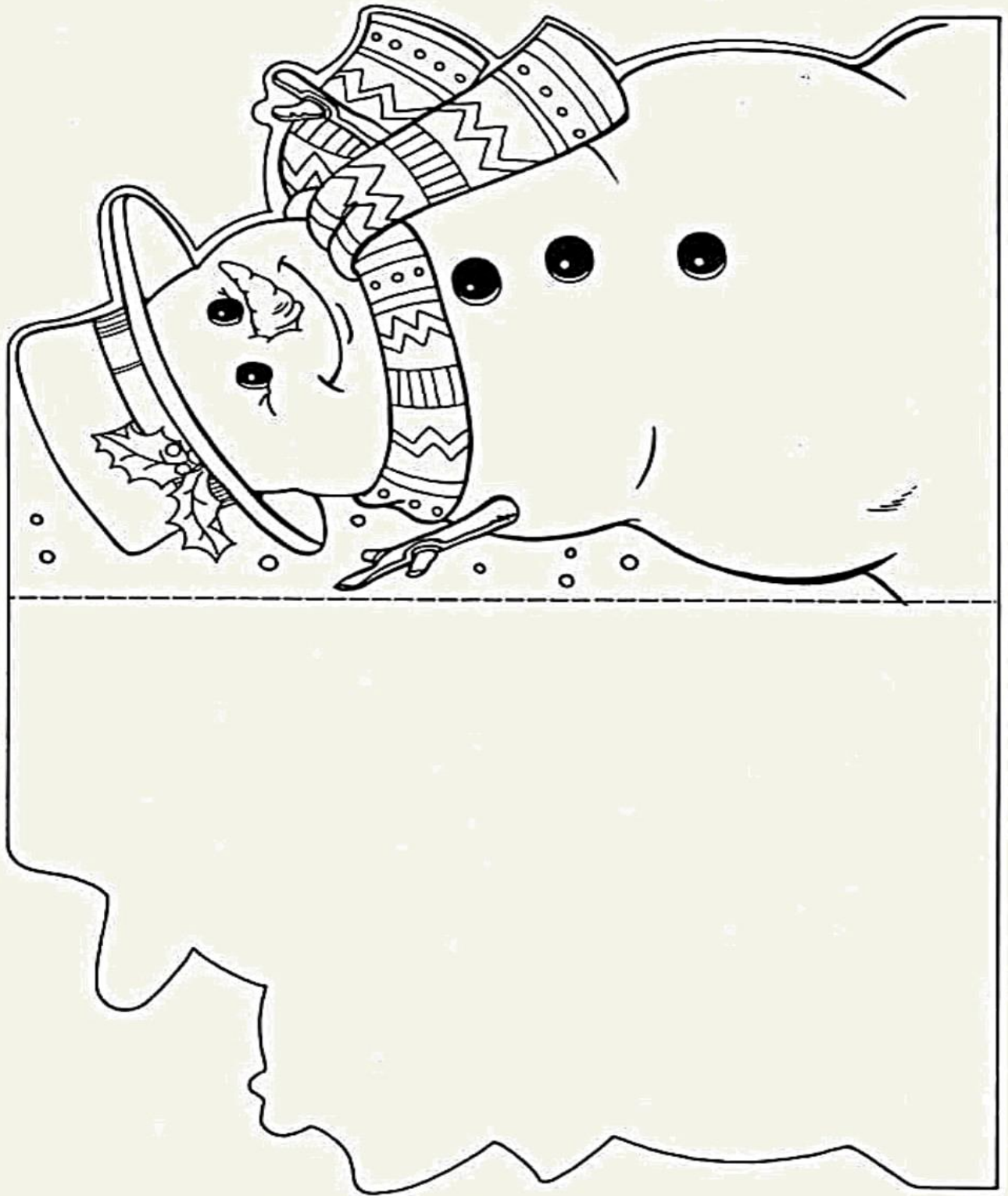




NOME: _____ DATA: 10/12/2021

LINGUA PORTUGUESA/ARTES

-VAMOS CONFECCIONAR UM LINDO CARTÃO DE NATAL? FAÇA UM COLORIDO BEM BONITO. ENFEITE COM O QUE QUISER E ESCREVA LINDAS PALAVRAS. DEPOIS, MANDE UMA FOTO NO NOSSO GRUPO DO WHATSS.



**NOS DIAS 13/12 E 14/12 FAREMOS ATIVIDADES DIFERENTES,
QUE POSTAREI NO GRUPO DO WHATSS.**

ESSE ANO FOI BEM DIFERENTE DO QUE ESTÁVAMOS ACOSTUMADOS. PRECISAMOS NOS INOVAR, CONTAR COM A AJUDA DE MUITAS PESSOAS, NOS REENVENTAR. MAS GRAÇAS A DEUS CHEGAMOS AO FINAL DELE COM SAÚDE PARA CONTARMOS MAIS ESSE CAPÍTULO DESSA HISTÓRIA QUE ESTÁ SENDO ESSA PANDEMIA. DE FATO, ESTAMOS FAZENDO HISTÓRIA!!!

ESPERO TER ATINGIDO AS EXPECTATIVAS E NO QUE FALHEI, ESPERO SER MELHOR NO PRÓXIMO ANO.

AGRADEÇO DE CORAÇÃO A COLABORAÇÃO, COMPREENSÃO E PACIÊNCIA DE TODOS VOCÊS.

QUE TENHAMOS UM FINAL DE ANO CHEIO DE SAÚDE E PAZ.

E QUE 2022 SEJA UM ANO MELHOR PARA TODOS NÓS!!!

BOAS FESTAS

PROFESSORA: ARIADNE PUZONE