

E.M. "YOLANDA AGOSTINHO DE LIMA"

MINHAS ATIVIDADES



PROFESSORA: TATIANE DE BARROS

TURMA: 2º ANO B

ALUNO(A): _____

NOME: _____ DATA: 29/11/2021

LÍNGUA PORTUGUESA



ESCREVA O SEU NOME:



COMPLETE O ALFABETO E FAÇA O QUE SE PEDE:

A			D			G
H			K		M	
	P			S		
	W		Y			

A) COLORIR AS VOGAIS DE VERMELHO:

B) COLORIR AS CONSOANTES DE AZUL:



NOME: _____ DATA: 29/11/2021.

MATEMÁTICA

CONTANDO E REGISTRANDO ATÉ 10

$1+3=$
$2+1=$
$1+1=$
$3+2=$
$6+1=$
$4+2=$
$3+4=$
$6+3=$
$7+2=$
$2+8=$
$4+6=$
$1+7=$
$7+2=$
$5+3=$



$4+2=$
$3+6=$
$5+2=$
$5+5=$
$4+4=$
$2+5=$
$5+4=$
$8+1=$
$3+1=$
$6+0=$
$8+2=$
$3+0=$
$9+1=$
$2+4=$

NOME: _____ DATA:30/11/2021

LÍNGUA PORTUGUESA



DITADO RECORTADO: COLE O NOME DOS PERSONAGENS EM SUA RESPECTIVA IMAGEM:



BOI

GALO



BURRO

CORDEIRO

NOME: _____ DATA: 30/11/2021

MATEMÁTICA

PROBLEMATIZANDO

HISTÓRIA MATEMÁTICA	COMPLETANDO COM DESENHO	TOTAL
<p>HAVIA 1 PÁSSARO NA ÁRVORE.</p> 	<p>POUSARAM MAIS 5.</p>	<p>QUANTOS PÁSSAROS AO TODO?</p>
<p>ERAM 5 FLORZINHAS NO JARDIM.</p> 	<p>MAMÃE PLANTOU MAIS 4.</p>	<p>QUANTAS FLORZINHAS AO TODO?</p>
<p>2 PATINHOS NADAVAM NA LAGOA.</p> 	<p>CHEGARAM MAIS 3.</p>	<p>QUANTOS PATINHOS AO TODO?</p>
<p>6 JOANINHAS ESTAVAM NO JARDIM.</p> 	<p>CHEGARAM MAIS 2.</p>	<p>QUANTAS JOANINHAS AO TODO?</p>
<p>7 PEIXINHOS ESTAVAM NO AQUÁRIO.</p> 	<p>PEDRINHO COLOCOU MAIS 3.</p>	<p>QUANTOS PEIXINHOS AO TODO?</p>

NOME: _____ DATA: 01/12/2021

LÍNGUA PORTUGUESA



CAÇA-PALAVRAS:




SOL - RISADA - BURRO
CORDEIRO - GALO - RISADA
CRISTO - PERDIDO - BOI
MUGIDO - LIGEIRO

C	R	I	S	T	O	A	K	L	O
Ç	O	U	R	I	S	O	L	R	I
C	O	R	D	E	I	R	O	U	S
P	E	R	D	I	D	O	I	A	U
Y	B	O	R	I	S	A	D	A	K
B	D	L	B	U	R	R	O	P	Ç
N	A	I	G	A	L	O	B	Ç	O
H	L	I	G	E	I	R	O	X	C
C	A	S	A	M	U	G	I	D	O

NOME: _____ DATA: 01/12/2021

MATEMÁTICA

OBSERVE O GRÁFICO DE ROUPAS ARRECADADAS PELAS CRIANÇAS E RESPONDA AS QUESTÕES A SEGUIR.



- QUANTOS?

	<input type="text"/>		<input type="text"/>
	<input type="text"/>		<input type="text"/>
	<input type="text"/>		<input type="text"/>

QUANTOS A MAIS
QUE ?

QUANTAS A MENOS
QUE ?

NOME: _____ DATA: 02/12/2021

LÍNGUA PORTUGUESA



**FORME UMA FRASE COM A PALAVRA
NATAL**



**- COMPLETE O QUADRO SEGUNDO O QUE
SE PEDE:**

NOME	LETRA INICIAL	LETRA FINAL	NUMERO DE LETRAS	NUMERO DE SÍLABAS
CRISTO				
PERDIDO				
BURRO				
LIGEIRO				
CAMPO				
BELEM				

NOME: _____ DATA: 02/12/2021

MATEMÁTICA/ ARTES

PINTE DE ACORDO COM OS RESULTADOS:

- 3 = VERMELHO
- 4 = VERDE
- 5 = AZUL
- 6 = MARROM
- 7 = MARROM CLARO
- 8 = ROSA
- 9 = PRETO



NOME: _____ DATA: 03/12/2021

LÍNGUA PORTUGUESA



OBSERVE A PALAVRA ABAIXO E FAÇA O QUE SE PEDE:

NATAL



A) SEPRE A PALAVRA EM SÍLABAS:

B) QUANTAS SÍLABAS?

C) SÍLABA INICIAL:

D) SÍLABA FINAL:

E) PINTE DE AZUL AS VOGAIS E DE VERMELHO AS CONSOANTES:

F) ESCREVA DUAS PALAVRAS QUE INICIEM COM A LETRA **N**:

G) PINTE AS SÍLABAS QUE FORMAM A PALAVRA **NATAL**:

NE

NA

VE

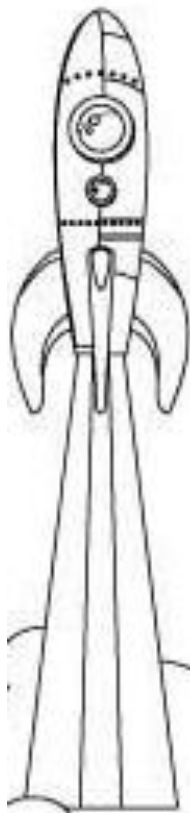
TAL

NOME: _____ DATA: 03/12/2021

MATEMÁTICA

RESOLVA AS CONTINHAS

$\begin{array}{r} 44 \\ +12 \\ \hline \end{array}$	$\begin{array}{r} 18 \\ +11 \\ \hline \end{array}$	$\begin{array}{r} 55 \\ +22 \\ \hline \end{array}$	$\begin{array}{r} 14 \\ +12 \\ \hline \end{array}$	$\begin{array}{r} 74 \\ +14 \\ \hline \end{array}$	$\begin{array}{r} 41 \\ +32 \\ \hline \end{array}$
--	--	--	--	--	--



$\begin{array}{r} 28 \\ -10 \\ \hline \end{array}$	$\begin{array}{r} 56 \\ -16 \\ \hline \end{array}$	$\begin{array}{r} 33 \\ -11 \\ \hline \end{array}$	$\begin{array}{r} 79 \\ -17 \\ \hline \end{array}$	$\begin{array}{r} 85 \\ -34 \\ \hline \end{array}$
--	--	--	--	--

$\begin{array}{r} 66 \\ -25 \\ \hline \end{array}$	$\begin{array}{r} 7 \\ +2 \\ \hline \end{array}$	$\begin{array}{r} 99 \\ -66 \\ \hline \end{array}$	$\begin{array}{r} 9 \\ +3 \\ \hline \end{array}$	$\begin{array}{r} 82 \\ -72 \\ \hline \end{array}$
--	--	--	--	--



NOME: _____ DATA:06/12/2021

LÍNGUA PORTUGUESA

VAMOS LER COM ATENÇÃO

NATAL

(VINÍCIUS DE MORAES)

DE REPENTE O SOL RAIOU
E O GALO COCORICOU:
- CRISTO NASCEU!

O BOI, NO CAMPO PERDIDO
SOLTOU UM LONGO MUGIDO:
- AONDE? AONDE?

COM SEU **BALIDO** TREMIDO
LIGEIRO DIZ O CORDEIRO:
- EM BELÉM! EM BELÉM!

EIS SENÃO QUANDO NUM ZURRO
SE OUVI A RISADA DO BURRO:
-FOI SIM QUE EU ESTAVA LÁ!

















VOCABULÁRIO
BALIDO: SOM EMITIDO
POR OVELHA OU POR
CORDEIRO.














NOME: _____ DATA: 06/12/2021

MATEMÁTICA

OBSERVE O QUADRO NUMÉRICO E DESCUBRA QUAL O NÚMERO ESTÁ COM O DESENHO:

1	2	3	4		6	7	8		10
11	12		14	15	16	17	18	19	
20	21	22		24	25		27	28	29
30		32	33	34		36	37	38	
	41	42		44	45	46	47	48	49
	51	52	53	54		56	57		59
60									

Observe os números que faltam no quadro e escreva-os abaixo, observando os símbolos.

	_____		_____		_____
	_____		_____		
	_____		_____		
	_____		_____		
	_____		_____		
	_____		_____		

NOME _____ DATA:07/12/2021

LÍNGUA PORTUGUESA

ATIVIDADE CONTEXTUALIZADA



O TÍTULO DO TEXTO É:

- () MENINO JESUS
- () NATAL
- () VINICIUS DE MORAES



O AUTOR DO TEXTO É:

- () O SOL RAIOU
- () NATAL
- () VINICIUS DE MORAES



QUEM COCORICOU?



QUAL ANIMAL SOLTOU UM MUGIDO?



O QUE O GALO COCORICOU?

- () - AONDE? AONDE?
- () - EM BELÉM! EM BELÉM!
- () - CRISTO NASCEU!



NOME: _____ DATA: 07/12/2021

MATEMÁTICA

Continhas de subtração

D	U
7	5
-2	3

D	U
5	1
-3	1

D	U
6	7
-5	0

D	U
6	9
-2	4



D	U
3	4
-0	1

D	U
4	5
-0	5

D	U
8	1
-0	6

D	U
7	8
-6	2

D	U
1	4
-1	2

D	U
1	9
-0	4



D	U
2	1
-2	0

D	U
3	8
-1	8

NOME: _____ DATA: 08/12/2021

LÍNGUA PORTUGUESA



DE QUEM É ESSA FALA:

- FOI SIM QUE EU ESTAVA LÁ!

- () GALO
- () CORDEIRO
- () BURRO



DE ACORDO COM O TEXTO, CRISTO NASCEU EM:

- () BRASÍLIA
- () BELÉM
- () BAHIA



MARQUE OS ANIMAIS QUE APARECEM NO TEXTO:

- | | |
|--------------|--------------|
| () COBRA | () SOL |
| () GALO | () BOI |
| () CORDEIRO | () CACHORRO |
| () GATO | () BURRO |



O ASSUNTO DO TEXTO É:

- () NASCIMENTO DE JESUS, NATAL.
- () ANIMAIS SELVAGENS.
- () A FLORESTA E OS ANIMAIS.



NOME: _____ DATA: 08/12/2021

MATEMÁTICA

RESOLVA AS ADIÇÕES.

$63 + 24 =$

$42 + 50 =$

$15 + 13 =$

$71 + 6 =$

$45 + 32 =$

$86 + 12 =$

$16 + 52 =$

$45 + 34 =$

$50 + 19 =$

$61 + 17 =$

$42 + 36 =$

$54 + 22 =$

$35 + 41 =$

$27 + 31 =$

$30 + 49 =$

$15 + 72 =$



NOME: _____ DATA: 09/12/2021

LÍNGUA PORTUGUESA



COMPLETE DE ACORDO COM O TEXTO:

NATAL

(VINÍCIUS DE MORAES)

DE _____ O _____ RAIOU

E O _____ COCORICOU:

- CRISTO _____!

O BOI, NO _____ PERDIDO

_____ UM LONGO _____:

- AONDE? AONDE?

COM SEU **BALIDO** _____

_____ DIZ O CORDEIRO:

- EM BELÉM! EM BELÉM!

EIS SENÃO _____ NUM _____

SE OUVES A _____ DO BURRO:

-FOI _____ QUE EU _____ LÁ!

NOME: _____ DATA: 09/12/2021


MATEMÁTICA

NOME: _____

ORDEM CRESCENTE

Complete a tabela com números de 0 a 99, na ordem crescente.

0					
		24			
					99



Responda.

a) Qual o maior número que podemos escrever com um algarismo?

b) E o menor?

c) Qual o menor número que podemos escrever com dois algarismos?

d) E o maior?

NOME: _____ DATA: 10/12/2021

LÍNGUA PORTUGUESA



**MARQUE AS PALAVRAS QUE COMEÇAM
COM A MESMA LETRA INICIAL DA PALAVRA
NATAL:**

- | | | |
|------------|------------|-----------|
| () CASA | () BONECA | () NABO |
| () NOVELA | () MALA | () PAULA |
| () LUA | () CANETA | () NUCA |
| () NADIA | () NUVEM | () BOI |



**ESCREVA 5 PALAVRAS INICIADAS COM
A LETRA N:**



NOME: _____ DATA: 10/12/2021

MATEMÁTICA

UMA LOJA DE BRINQUEDOS VENDEU 43 BOLAS E 35 PETECAS.
QUANTOS BRINQUEDOS ELA VENDEU AO TODO?

RESPOSTA: _____



NUMA FESTA DE ANIVERSÁRIO HAVIA 25 MENINOS E 13 MENINAS.
QUANTAS CRIANÇAS HAVIA NA FESTA?

RESPOSTA: _____



MAMÃE DEU 12 LÁPIS A MÁCIA E 8 LÁPIS A MAURO. QUANTOS LÁPIS
MAMÃE DEU?

RESPOSTA: _____



UM MENINO POSSUIA 9 BOLINHAS E GANHOU MAIS 7 NUM JOGO.
QUANTAS BOLINHAS ELE FICOU?

RESPOSTA: _____



UM DONO DE UM SÍTIO TINHA 8 VAQUINHAS E COMPROU MAIS 6.
COM QUANTAS VAQUINHAS ELE FICOU?

RESPOSTA: _____



13/11/2021- ALUNOS EM ATIVIDADES REMOTAS SERÁ ENVIADO ATIVIDADE LÚDICA (DESAFIO) PELO GRUPO DE WHATS APP;
ALUNOS PRESENCIAIS- CONFRATERNIZAÇÃO NA ESCOLA NO PERÍODO DE AULA.

14/11/2021- ATIVIDADE LÚDICA ENVIADA PELO GRUPO DE WHATS APP (O QUE É O QUE É? E DESAFIO)

FELIZ NATAL

ÓTIMO ANO NOVO

REPLETO DE MUITA SAÚDE E ALEGRIAS !!!!



ABRAÇOS
PROFESSORA TATIANE