



PREFEITURA DA ESTÂNCIA TURÍSTICA DE  
**IBIÚNA**  
*Por uma Ibiúna próspera. Investindo no presente, gerando o futuro.*  
SECRETARIA DE EDUCAÇÃO



**E.M. MAFALDA DALPRA MATIUSSO**

ALUNO (A): \_\_\_\_\_

PROFESSORA: MARGARETE DE SOUZA VIEIRA TURMA: 1º ANO A

**APOSTILA DE ATIVIDADES Nº 15**

Período: 01/12/2021 a 14/12/2021

Data da devolução: **10/12/2021**



## LÍNGUA PORTUGUESA/MATEMÁTICA

01/12/2021 (QUARTA-FEIRA)

ESCOLA: \_\_\_\_\_

NOME: \_\_\_\_\_

PROFESSORA: \_\_\_\_\_ DATA: \_\_\_\_/\_\_\_\_/\_\_\_\_

### CONSTRUÇÃO DO SISTEMA ALFABÉTICO/LEITURA

## BATE O SINO

HOJE A NOITE É BELA  
JUNTOS EU E ELA  
VAMOS À CAPELA  
FELIZES A REZAR

AO SOAR O SINO  
SINO PEQUENINO  
VAI O DEUS MENINO  
NOS ABENÇOAR

BATE O SINO PEQUENINO  
SINO DE BELÉM

JÁ NASCEU O DEUS MENINO  
PARA O NOSSO BEM

PAZ NA TERRA PEDE O SINO  
ALEGRE A CANTAR

ABENÇOE DEUS MENINO  
ESTE NOSSO LAR

COMPOSIÇÃO: JAMES LORD PIERPONT



## ATIVIDADE

1-MARQUE COM UM CÍRCULO NA LETRA DA MÚSICA A PALAVRA **SINO**:

2-QUANTAS VEZES A PALAVRA SINO APARECE NO TEXTO?

### 3-COMPLETE:

HOJE, A  É .

JUNTOS  E .

VAMOS À , FELIZES A .

AO SOAR O . SINO .

VAI O  MENINO NOS .




### 4-COMPLETE O QUADRO ABAIXO:

<b>PALAVRA</b>	<b>Nº DE VOGAIS</b>	<b>Nº DE CONSOANTES</b>	<b>TOTAL DE LETRAS</b>	<b>PRIMEIRA LETRA</b>	<b>ÚLTIMA LETRA</b>
CAPELA					
PEQUENINO					
ABENÇÖAR					
REZAR					
TERRA					

A MÃE DE JESSICA ENFEITOU UMA GRANDE ÁRVORE DE NATAL. VEJA O QUE ELA COLOCOU.

**FRUTAS**



1-QUAL ENFEITE TEM MAIS?  
TEM MAIS?

2-QUAL ENFEITE TEM MENOS?  
TEM MENOS?

3-QUANTAS BOLINHAS FORAM COLOCADAS?  
FORAM COLOCADAS?

4- QUANTAS MEIAS E ESTRELAS FORAM COLOCADAS AO TODO?

5-QUAL DIFERENÇA ENTRE O LAÇO E A BOLINHA?



LÍNGUA PORTUGUESA/MATEMÁTICA

02/12/2021 (QUINTA-FEIRA)

ESCOLA: \_\_\_\_\_

NOME: \_\_\_\_\_

PROFESSORA: \_\_\_\_\_ DATA: \_\_\_\_/\_\_\_\_/\_\_\_\_

LEITURA/ESCRITA

CAÇA PALAVRAS



PAPAI  
NATAL  
NOEL  
FELIZ  
PRESENTE



F	E	L	I	Z	E	R	O
P	R	E	L	N	O	E	L
A	P	N	A	T	A	L	L
P	A	P	A	I	A	I	N
N	P	A	L	Z	E	P	R
P	R	E	S	E	N	T	E

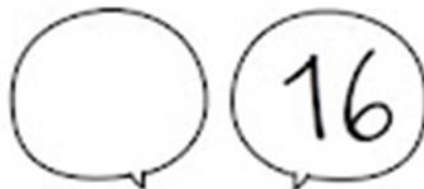
✚ ESCREVA AS PALAVRAS QUE VOCÊ ENCONTROU.




1 - Complete a sequência numérica:

0									
10									
20									
30									
40									

QUEM VEM ANTES?



QUEM VEM DEPOIS?



# LÍNGUA PORTUGUESA/MATEMÁTICA

03/12/2021 (SEXTA-FEIRA)

ESCOLA: \_\_\_\_\_

NOME: \_\_\_\_\_

PROFESSORA: \_\_\_\_\_ DATA: \_\_\_\_/\_\_\_\_/\_\_\_\_

## ANÁLISE LINGUÍSTICA/SEMIÓTICA CONSTRUÇÃO DO SISTEMA ALFABÉTICO

🎨 VAMOS FORMAR PALAVRINHAS!




1+10	
8+10	
6+9	
10+5	
7+10	

10+9	
8+3	
2+5	
6+10	
7+4	

© direitos reservados por www.dinamicas.com.br

1- MAMÃE COMPROU 16 BOLINHAS PARA ENFEITAR A ÁRVORE DE NATAL. ELA DEIXOU CAIR E QUEBRARAM 4 BOLINHAS? QUANTAS BOLINHAS SOBRARAM?



$$\square - \square = \square$$

SOBRARAM \_\_\_\_\_ BOLINHAS.

2 - RESOLVA AS SUBTRAÇÕES.

9	7	8	4	6	5	9
<u>-2</u>	<u>-4</u>	<u>-3</u>	<u>-1</u>	<u>-4</u>	<u>-2</u>	<u>-9</u>



LÍNGUA PORTUGUESA/MATEMÁTICA

06/12/2021 (SEGUNDA-FEIRA)

ESCOLA: \_\_\_\_\_

NOME: \_\_\_\_\_

PROFESSORA: \_\_\_\_\_ DATA: \_\_\_\_/\_\_\_\_/\_\_\_\_

✚ O NATAL ESTÁ CHEGANDO E COM ELE BELAS CANÇÕES. VAMOS CANTAR?

♩ BATE O SINO PEQUENINO  
SINO DE BELÉM  
JÁ NASCEU O DEUS MENINO  
PARA O NOSSO BEM

PAZ NA TERRA PEDE O SINO  
ALEGRE A CANTAR  
ABENÇOE DEUS MENINO  
ESSE NOSSO LAR ♩



2-FAÇA UMA ILUSTRAÇÃO DA MÚSICA:

MATEMÁTICA  
FIGURAS GEOMÉTRICAS

✚ OBSERVE OS SÍMBOLOS NATALINOS E DEPOIS LIGUE-OS À FORMA GEOMETRICA QUE SE PARECE.



# LÍNGUA PORTUGUESA/MATEMÁTICA

07/12/2021 (TERÇA-FEIRA)

ESCOLA: \_\_\_\_\_

NOME: \_\_\_\_\_

PROFESSORA: \_\_\_\_\_ DATA: \_\_\_\_/\_\_\_\_/\_\_\_\_

## ANÁLISE LINGUÍSTICA/SEMIÓTICA CONSTRUÇÃO DO SISTEMA ALFABÉTICO

✚ LEIA AS PALAVRAS E LIGUE CADA DESENHO A SEUS RESPECTIVOS NOMES.



• SINO •

• LAÇO •

• MEIA •

• RENA •

• VELA •

• CASA •

• ANJO •

• ÁRVORE •

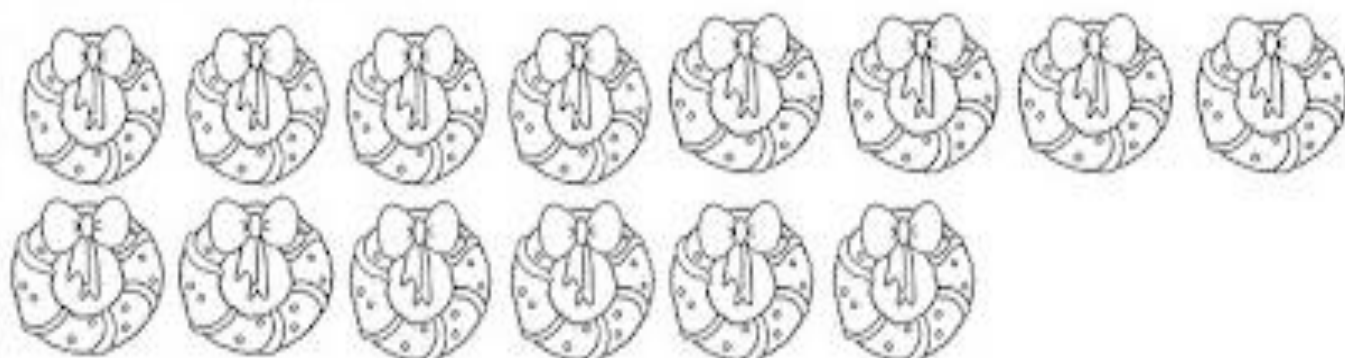
• BOLA •

• BONECO •



MATEMÁTICA  
SITUAÇÕES PROBLEMAS COM APOIO

1- CATARINA FEZ 8 GUIRLANDA PARA ENFEITAR A ESCOLA. JULIA FEZ 6. QUANTAS GUIRLANDAS AS DUAS FIZERAM JUNTAS?



$$\square + \square = \square$$

FIZERAM \_\_\_\_\_ GUIRLANDAS.

2 - RESOLVA AS ADIÇÕES.

9	7	8	4	6	5	9
<u>+2</u>	<u>+4</u>	<u>+3</u>	<u>+1</u>	<u>+4</u>	<u>+2</u>	<u>+9</u>

## LÍNGUA PORTUGUESA/MATEMÁTICA

08/12/2021 (QUARTA-FEIRA)

ESCOLA: \_\_\_\_\_

NOME: \_\_\_\_\_

PROFESSORA: \_\_\_\_\_ DATA: \_\_\_\_/\_\_\_\_/\_\_\_\_

### LEITURA E ESCRITA

### PRESENTES DE NATAL

PAPAI NOEL PREPARA A ÚLTIMA ENTREGA DA NOITE DE NATAL.

SUA LISTA POSSUI 04 BONECAS, 02 CARRINHOS E 03 BICICLETAS.

PRESENTES ARRUMADOS E LÁ VAI ELE SUBIR NA CHAMINÉ PARA DEIXAR A NOITE DE NATAL AINDA MAIS FELIZ PARA SOFIA, CAIO E LORENA.

### COMPREENSÃO DO TEXTO

1. PARA QUEM SERÃO ENTREGUES OS PRESENTES QUE O PAPAI NOEL ARRUMA?

\_\_\_\_\_

2. QUAIS SÃO OS BRINQUEDOS DA LISTA?

\_\_\_\_\_

3. QUANTOS BRINQUEDOS VOCÊ IMAGINA QUE CADA CRIANÇA IRÁ RECEBER? \_\_\_\_\_

4. QUANTOS BRINQUEDOS AO TODO SERÃO ENTREGUES?




\_\_\_\_\_

\_\_\_\_\_



✚ MOSTRE QUE VOCÊ É MUITO ESPERTO. CONTE OS SÍMBOLOS NATALINOS ABAIXO E REGISTRE A QUANTIDADE.



	<input type="text"/>
	<input type="text"/>
	<input type="text"/>

	<input type="text"/>
	<input type="text"/>
	<input type="text"/>



LÍNGUA PORTUGUESA/MATEMÁTICA

09/12/2021 (QUINTA-FEIRA)

ESCOLA: \_\_\_\_\_

NOME: \_\_\_\_\_

PROFESSORA: \_\_\_\_\_ DATA: \_\_\_\_/\_\_\_\_/\_\_\_\_

COMPREENSÃO DA LEITURA/ESCRITA

COMPLETE COM A  
SÍLABA FALTOSA E  
COPIE.



ÁR \_\_\_\_\_ RE

PRESEN \_\_\_\_\_

AN \_\_\_\_\_




DUEN \_\_\_\_\_



\_\_\_\_\_ NO



ESTRE \_\_\_\_\_




MATEMÁTICA

NÚMEROS

ADIÇÃO E SUBTRAÇÃO

RESOLVA E PINTE CONFORME A LEGENDA.



5 – VERMELHO

6 – AZUL

7 – PRETO

8 – MARROM

9 – AMARELO

10 – VERDE

11 – ROSA

12 – LILÁS

13 - LARANJA



LÍNGUA PORTUGUESA / MATEMÁTICA

10/12/2021 (SEXTA-FEIRA)

ESCOLA: \_\_\_\_\_

NOME: \_\_\_\_\_

PROFESSORA: \_\_\_\_\_ DATA: \_\_\_\_/\_\_\_\_/\_\_\_\_

✚ LEIA O TEXTO E CIRCULE AS PALAVRAS QUE TERMINAM COM O MESMO SOM.(RIMAS)



DEIXEI MEU SAPATINHO  
NA JANELA DO QUINTAL  
PAPAI NOEL DEIXOU  
MEU PRESENTE DE NATAL

COMPLETE AS LACUNAS.

DEIXEI MEU \_\_\_\_\_  
NA \_\_\_\_\_ DO QUINTAL  
\_\_\_\_\_ DEIXOU  
MEU PRESENTE DE NATAL



LIGUE E ESCREVA A PALAVRA.

JANELA

SAPATINHO

PAPAI NOEL



1. Circule o número maior.



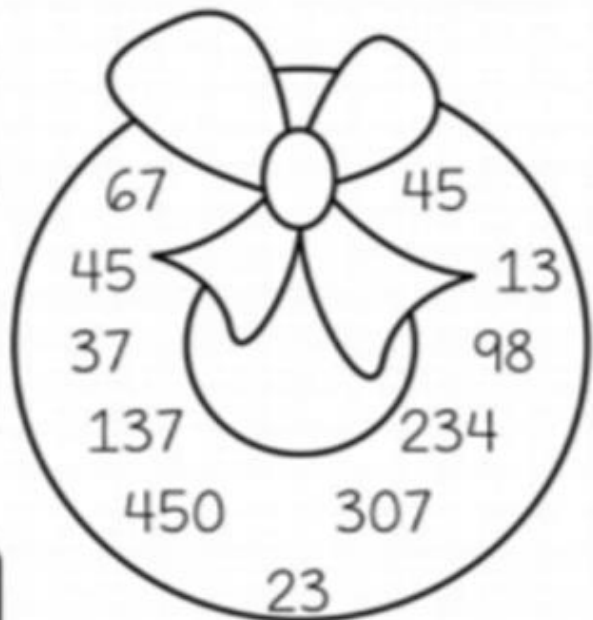
2. Observe e responda:

a) Maior número:

b) Menor número:

c) Números pares:

d) Números ímpares:



# LÍNGUA PORTUGUESA/MATEMÁTICA

13/12/2021 (SEGUNDA-FEIRA)

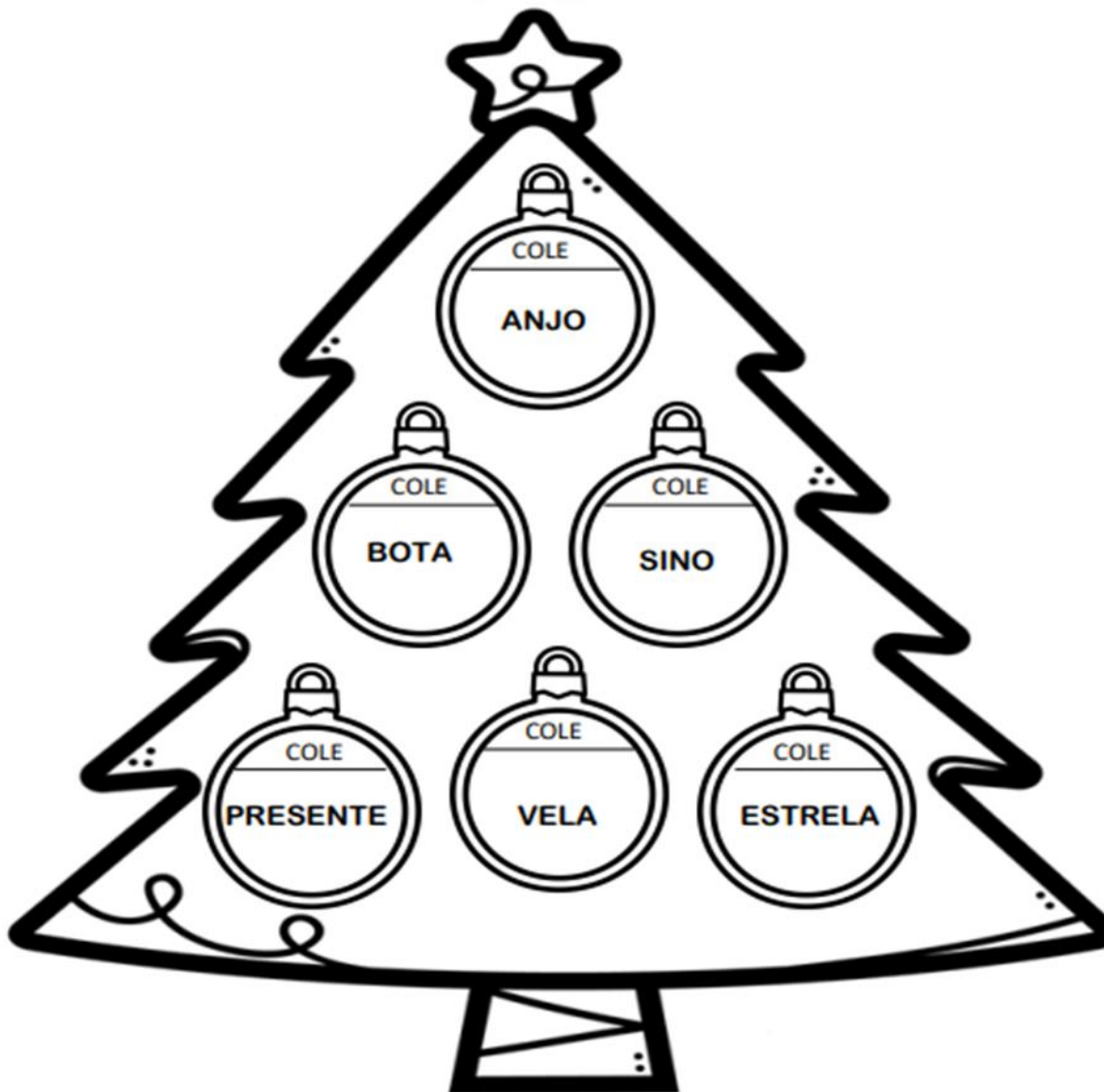
ESCOLA: \_\_\_\_\_

NOME: \_\_\_\_\_

PROFESSORA: \_\_\_\_\_ DATA: \_\_\_\_/\_\_\_\_/\_\_\_\_

## ÁRVORE SÍMBOLOS NATALINOS

✚ RECORTE E DEPOIS COLE NA ÁRVORE DE NATAL AS IMAGENS DE ACORDO COM SEUS NOMES:



MATEMÁTICA

ESCREVA POR EXTENSO O NOME DOS NUMERAIS.

1

2

3

4

5

6

7

8

9

10

Sleigh with gifts and teddy bear

Reindeer

## LÍNGUA PORTUGUESA/ARTE

14/12/2021 (TERÇA-FEIRA)

ESCOLA: \_\_\_\_\_

NOME: \_\_\_\_\_

PROFESSORA: \_\_\_\_\_ DATA: \_\_\_\_/\_\_\_\_/\_\_\_\_


**VAMOS RECORTAR E MONTAR A RENA SEGUINDO A ORDEM DAS LETRAS:**

--	--	--	--


*cantinhoalternativo.com.br*

**VAMOS MONTAR UM PAPAÍ NOEL?**

ANEXO I



ANEXO II





## BIBLIOGRAFIA

### ➤ SITES DE PESQUISA E FONTES DE IMAGENS:

- [HTTP://BLOG.IDEIASPALAVRAS.COM.BR/](http://blog.ideiasepalavras.com.br/)
- [HTTPS://MISTURADEALEGRIA.BLOGSPOT.COM/](https://misturadealegria.blogspot.com/)
- [HTTPS://PROFRAFAELAK.BLOGSPOT.COM/](https://profrafaelak.blogspot.com/)
- [WWW.IDEIACRIATIVA.ORG](http://www.ideiacriativa.org)