



PREFEITURA DA ESTÂNCIA TURÍSTICA DE
IBIÚNA
Por uma Ibiúna próspera. Investindo no presente, gerando o futuro.
SECRETARIA DE EDUCAÇÃO



E.M. MAFALDA DALPRA MATIUSSO

ALUNO (A): _____

PROF^a: EDILENE M. LIMA TURMA: 3º ANO B

APOSTILA DE ATIVIDADES Nº 15

Período: 01/12/2021 a 14/12/2021

Data da devolução: **10/12/2021**





ESCOLA: _____

NOME: _____

PROFESSORA: _____ DATA: ____/____/____

LÍNGUA PORTUGUESA

VOCÊ SABIA?

Dia 25 de dezembro é uma data extremamente importante no Ocidente: o Natal. Nessa festividade é celebrado o nascimento de Jesus Cristo.

LEITURA E INTERPRETAÇÃO DE TEXTO

O natal de Júlia

Júlia é uma menina estudiosa, educada, mora com seus pais e um irmão mais novo. Júlia e sua família moram na cidade de Rondonópolis.

Júlia é aluna do 5º ano de uma escola pública, e adora matemática e geografia.

Quando chega dezembro, Júlia e sua família, vão passar o natal em Fortaleza, na casa da vovó Beliza, a casa é grande o suficiente para reunir toda a família.

__ Que alegria! Oba! Júlia ama a magia do natal.

Eliane Porto

1) Escreva o título do texto:

2) Quem é Júlia?

3) Responda:

Júlia estuda onde?

- () Numa escola municipal
- () numa escola particular
- () numa escola pública

4) Com quem Júlia mora?

5) Onde Júlia e sua família vão passar o natal?

6) Qual o nome da vovó de Júlia?

7) Retire do texto 3 palavras:

monossílaba	dissílaba	trissílaba	polissílaba

MATEMÁTICA

MATEMÁTICA

1) Observe o calendário e responda o que se pede:



D	S	T	Q	Q	S	S
			1	2	3	4
5	6	7	8	9	10	11
12	13	14	15	16	17	18
19	20	21	22	23	24	25
26	27	28	29	30	31	



a) De acordo com o calendário acima que dia da semana é hoje?

b) Pinte de amarelo o dia que comemoramos o natal:

c) De acordo com o calendário. Qual é o dia da semana que vai ser comemorado o natal?

d) Quantas semanas terá o mês de dezembro?

e) Quantos domingos terá esse mês?

f) Pergunte na sua sala de aula, quantos colegas fazem aniversário esse mês. Escreva os nomes .

g) Quantos dias tem a última semana?

SITUAÇÃO PROBLEMA

2) Rafael deu de presente de natal para sua mãe, uma televisão no valor de R\$ 1.400 e parcelou em 10 veze. Quantos ficou cada parcela?

a) Lucas saiu de casa para o trabalho às 6:45 h e chegou no seu trabalho às 7:00. Qual foi o tempo gasto que ele levou pra chegar ao seu destino?



ESCOLA: _____

NOME: _____

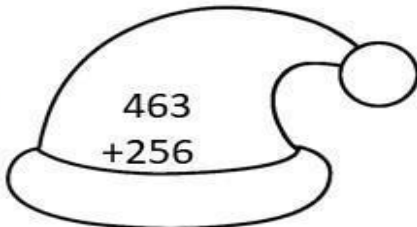
PROFESSORA: _____ DATA: ____/____/____

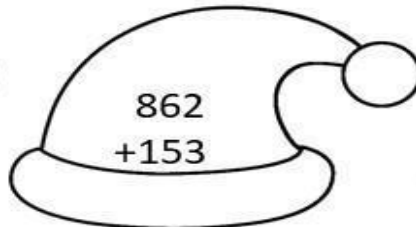
MATEMÁTICA

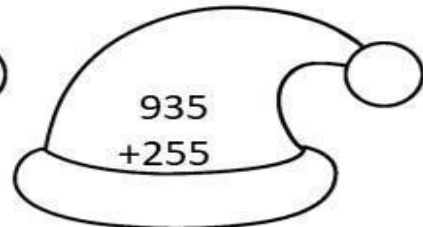
3) Bia comprou 10 panetones, cada um custava R\$ 6,50. Quantos Bia pagou ao todo?

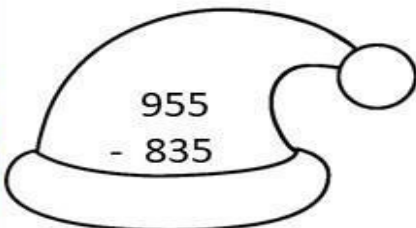
- () R\$ 150,00
() R\$ 65,00
() R\$ 67,00

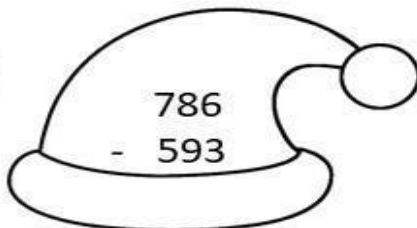
4) Resolvas as operações abaixo:

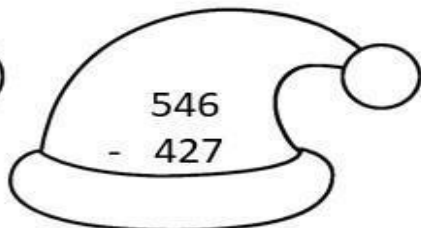

$$\begin{array}{r} 463 \\ +256 \\ \hline \end{array}$$

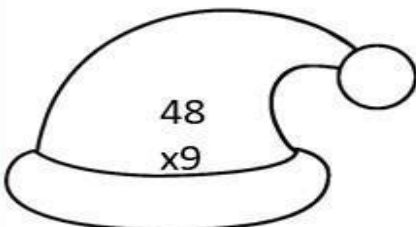

$$\begin{array}{r} 862 \\ +153 \\ \hline \end{array}$$

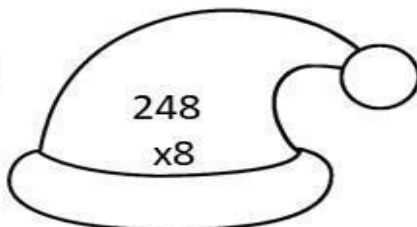

$$\begin{array}{r} 935 \\ +255 \\ \hline \end{array}$$

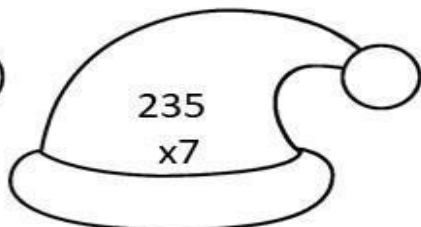

$$\begin{array}{r} 955 \\ - 835 \\ \hline \end{array}$$

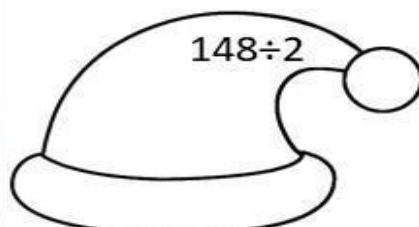

$$\begin{array}{r} 786 \\ - 593 \\ \hline \end{array}$$

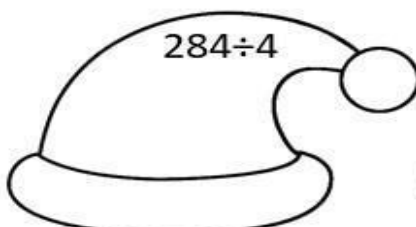

$$\begin{array}{r} 546 \\ - 427 \\ \hline \end{array}$$

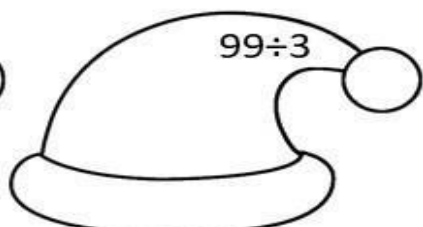

$$\begin{array}{r} 48 \\ \times 9 \\ \hline \end{array}$$


$$\begin{array}{r} 248 \\ \times 8 \\ \hline \end{array}$$


$$\begin{array}{r} 235 \\ \times 7 \\ \hline \end{array}$$


$$148 \div 2$$


$$284 \div 4$$


$$99 \div 3$$

○ natal é ...





ESCOLA: _____

NOME: _____

PROFESSORA: _____ DATA: ____/____/____

LÍNGUA PORTUGUESA

NATAL É TEMPO DE AMOR (Joan Walsh)

NATAL é tempo de amor...
 É tempo de embrulhar presentes e fazer doces.
 Um tempo de presentes, escondidos em lugares secretos...
 e de crianças que esperam.
 É tempo de brinquedos, tambores e bonecas...
 Um tempo de azevinho e luzes...
 Ouropéis brilhantes e ramos de pinheiro.
 É um tempo de estrelas e meditação...
 De sensíveis orações murmuradas na obscuridade.
 O NATAL é a época da família e de bons amigos
 que mais uma vez revemos.
 É tempo de música e de canções de alegria...



liliatividades.com

ENTENDENDO O TEXTO

1) O que o natal representa para você?

2) Retire do texto os brinquedos que aparecem :

3) Qual é o título do texto? Quem escreveu o texto?

Pinte bem bonito





ESCOLA: _____

NOME: _____

PROFESSORA: _____ DATA: ____/____/____

LÍNGUA PORTUGUESA

Vamos procurar as palavrinhas no caça-palavras.



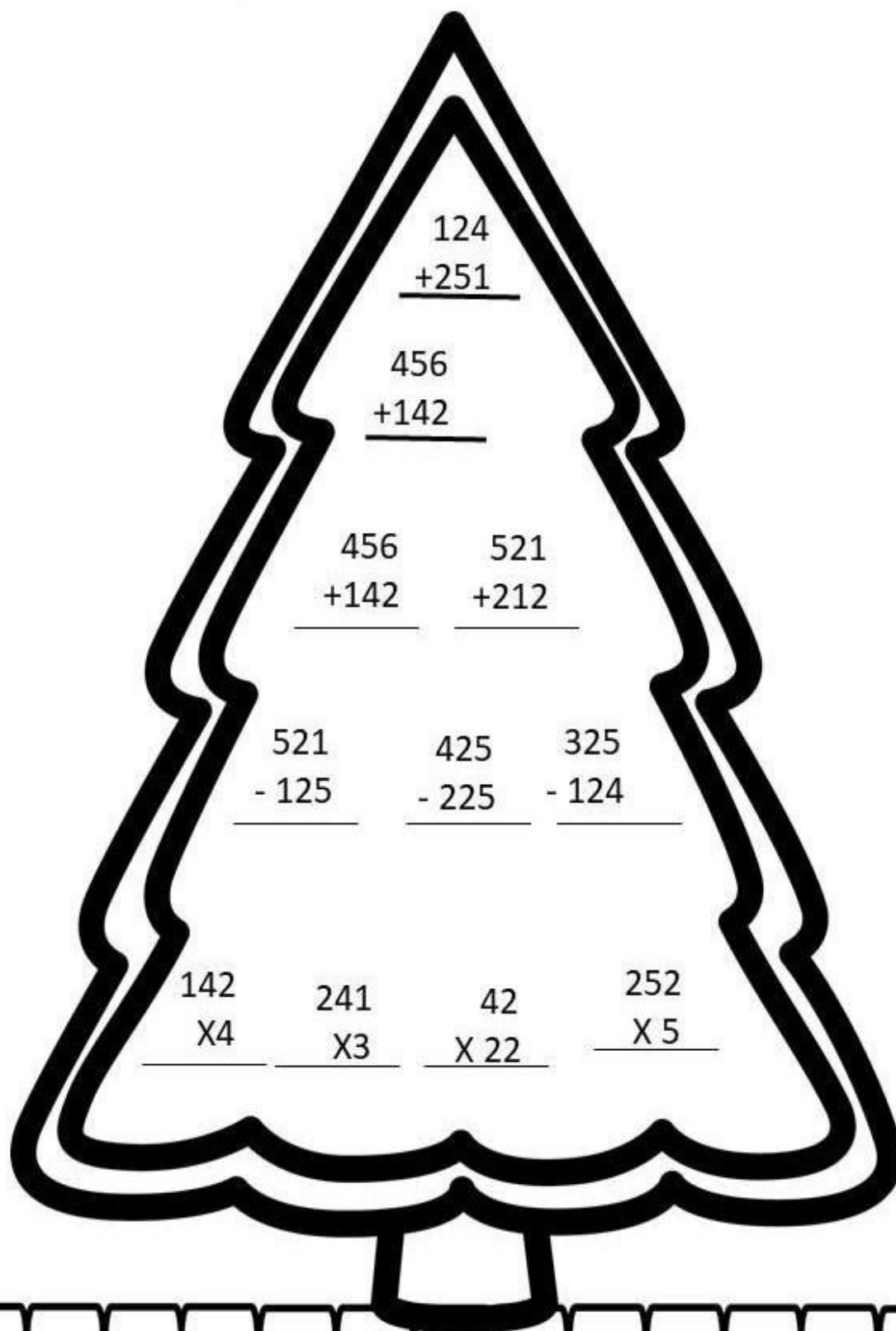
CAÇA – PALAVRAS DE NATAL

T	E	R	N	U	R	A	I	Q	C
P	C	B	U	I	U	M	O	A	A
A	F	H	B	N	N	O	M	L	R
Z	E	V	E	V	I	R	C	E	I
C	P	E	R	D	Ã	O	X	G	N
C	B	R	W	E	O	E	V	R	H
H	A	R	M	O	N	I	A	I	O
E	S	P	E	R	A	N	Ç	A	B



MATEMÁTICA

1) Calcule as operações matemática:





ESCOLA: _____

NOME: _____

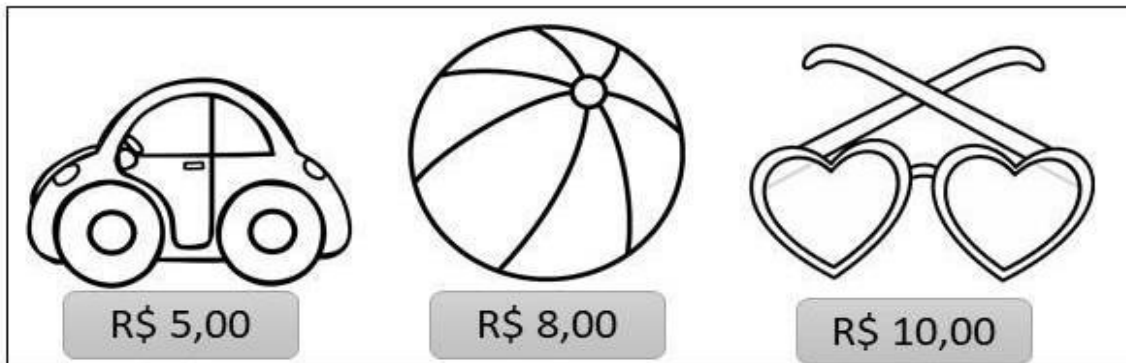
PROFESSORA: _____ DATA: ____/____/____

MATEMÁTICA**SITUAÇÃO PROBLEMA**

atividades.com

3) Resolva os problemas abaixo:

Gabriel foi à loja de brinquedos, comprou 3 carrinhos, 4 óculos e 5 bolas para presentear, ele pagou sua compra com uma nota de R\$ 150,00



a) Qual foi o valor da compra de Gabriel?

R:

b) Qual foi o troco de Gabriel?


R:

LÍNGUA PORTUGUESA

segunda terça quarta quinta sexta

www.amorensina.com.br
Aprender com Amor

TEXTO E INTERPRETAÇÃO



O atraso de Papai Noel

O dia amanheceu bem chuvoso e assim foi até a noitinha. Papai Noel ainda dormia embalado pelo cansaço do trabalho na fábrica de brinquedos.

De repente: "trim...trim...trim...!"

Papai Noel perdeu a hora! Já estava atrasado para a entrega dos presentes.


Ele deu um pulo da cama e se arrumou na velocidade de um avião a jato e saiu em disparada.

Ufa! Quase que as crianças ficaram sem seus presentes!

Isabel Cristina S. Soares

1 - Numere os parágrafos do texto.

2 - Que outro título você daria ao texto?



3 - O assunto do texto é:

- Os presentes que as crianças irão ganhar.
- A velocidade do avião a jato.
- O atraso de Papai Noel.

4 - Como amanheceu aquele dia?

- Com muito Sol.
- Com bastante chuva.
- Com muitos relâmpagos e trovões.

5 - O que fez Papai Noel dormir até tarde foi:

- O cansaço causado pelo trabalho.
- A preguiça por causa da chuva.
- Uma dor nas costas de tanto trabalhar.

6 - A expressão, "trim...trim...trim..." é uma onomatopéia. Ela se trata de:

- O som das renas de Papai Noel.
- O som do despertar do relógio.
- O som dos sininhos de Natal.





ESCOLA: _____

NOME: _____

PROFESSORA: _____ DATA: ____/____/____

LÍNGUA PORTUGUESA

ATIVIDADES GRAMATICAIS

1 - Dê o antônimo de:

Dia Amanheceu

Perdeu Dormiu

2 - Separe as sílabas e pinte a sílaba mais forte.

Fábrica → _____

Avião → _____

Trabalho → _____

Disparada → _____

Pulo → _____




3 - Passe as frases abaixo para o plural.

a) Ele saiu apressado.

b) A criança gostou do presente.

MATEMÁTICA



NOME _____

almocorinha.com.br
Alfabetizar com Amor

COMO É BOM SER CRIANÇA!

RESOLVA AS OPERAÇÕES E COLE OS RESULTADOS NOS LUGARES ADEQUADOS PARA
DESCOBRIR O QUE LUANA IRÁ GANHAR NO DIA DAS CRIANÇAS.

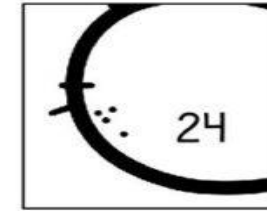
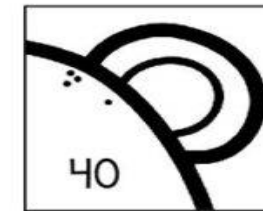
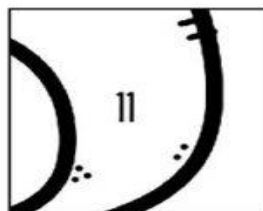
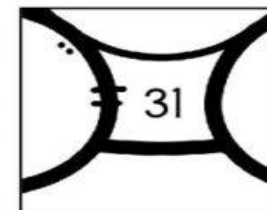
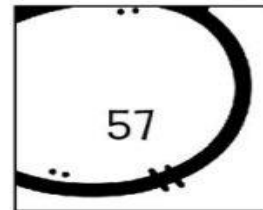
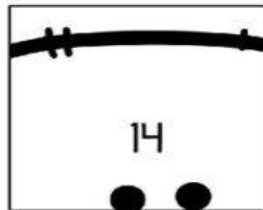

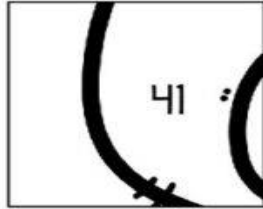
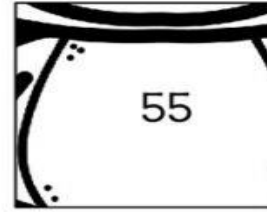
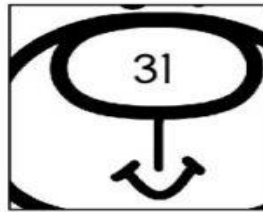
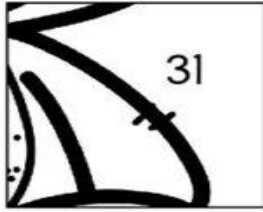
$35 - 13$	$29 - 15$	$51 - 11$
$86 - 45$	$72 - 41$	$69 - 58$
$20 - 10$	$98 - 43$	$58 - 27$
$47 - 23$	$83 - 52$	$69 - 12$

almocorinha.com.br
Alfabetizar com Amor



*RESOLVA AS OPERAÇÕES AQUI:

RECORTE E COLE NA PÁGINA ANTERIOR PARA DESCOBRIR O PRESENTE DE LUANA.





ESCOLA: _____

NOME: _____

PROFESSORA: _____ DATA: ____ / ____

MATEMÁTICA


NOME _____

almocensina.com.br
Alimentar com Amor

COMO É BOM SER CRIANÇA!

RESOLVA AS OPERAÇÕES E COLE OS RESULTADOS NOS LUGARES ADEQUADOS PARA DESCOBRIR O QUE PEDRINHO IRÁ GANHAR NO DIA DAS CRIANÇAS.


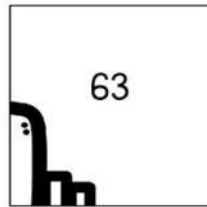
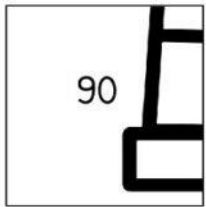

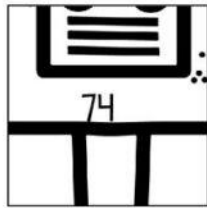
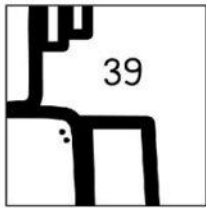

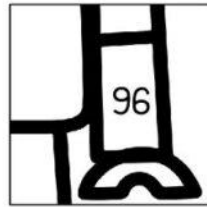
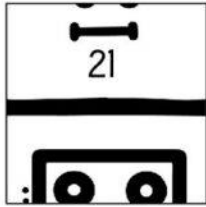
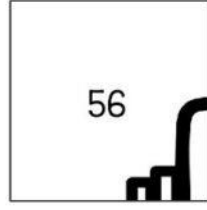
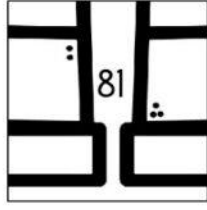
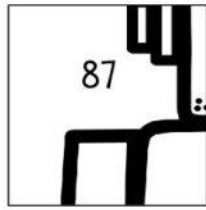
$19 + 37$	$21 + 26$	$51 + 12$
$23 + 64$	$13 + 8$	$21 + 18$
$20 + 20$	$31 + 43$	$58 + 38$
$47 + 43$	$57 + 24$	$12 + 7$



almocensina.com.br
Alimentar com Amor

*RESOLVA AS OPERAÇÕES AQUI:

RECORTE E COLE NA PÁGINA ANTERIOR PARA DESCOBRIR O PRESENTE DE PEDRINHO.



ARTES

RELEITURA DE ROMERO BRITTO
VAMOS COLORIR?





ESCOLA: _____

NOME: _____

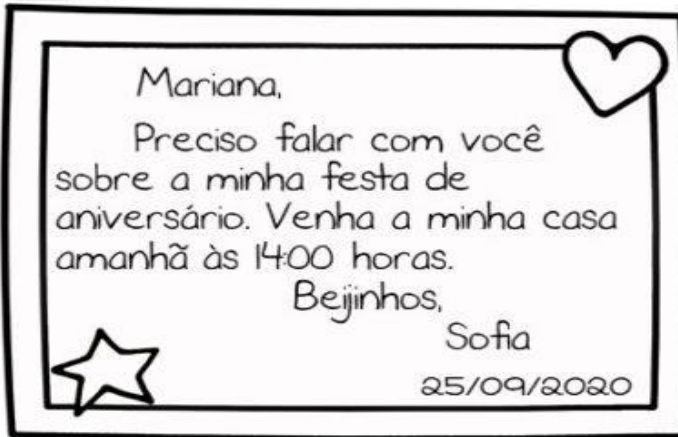
PROFESSORA: _____ DATA: ____ / ____ / ____

LÍNGUA PORTUGUESA

Nome

TRABALHANDO COM BILHETE

Eu me chamo Sofia.
Vou fazer minha festa de aniversário com o tema de uma estação do ano.
Ah, vou enviar um bilhete pedindo ajuda à minha amiga.



1 - O que a menina Sofia irá fazer?

2 - De qual estação do ano, Sofia está falando? Como você chegou a esta conclusão?

3 - De que forma Sofia entrou em contato com sua amiga?

MATEMÁTICA

NOME: _____


PROFESSORA: _____ DATA: ____/____/____

 amorensina.com.br
Alfabetizar com Amor

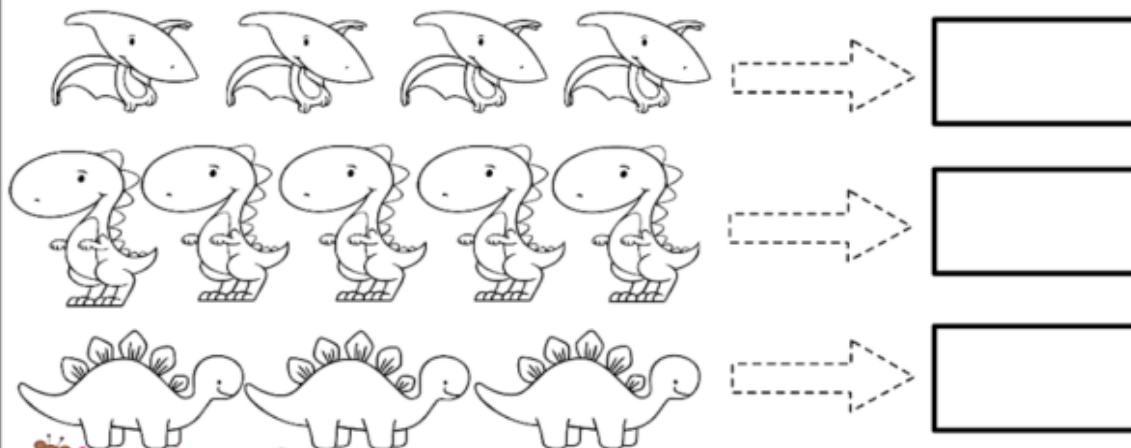
MATEMÁTICA COM OS DINOSSAUROS



1- OBSERVE A PROMOÇÃO DOS DINOSSAUROS DE COLEÇÃO NAS **LOJAS MIL**.




VEJA QUANTOS DINOSSAUROS ALICE COMPROU E COLOQUE O VALOR QUE ELA PAGOU POR CADA GRUPO.



 amorensina.com.br
Alfabetizar com Amor

www.amorensina.com.br - Todos os direitos reservados ©

2 - OBSERVE A PREFERÊNCIA DE DINOSSAUROS DA COLEÇÃO DE NOAH, ENTRE SUA TURMA DO 1º ANO.



ANOTE OS DADOS DE ACORDO COM AS INFORMAÇÕES.

TÍTULO DO GRÁFICO:

A QUEM SE DIRIGIU A PESQUISA:

NÚMERO DE ALUNOS DA PESQUISA:

QUANTOS GOSTARAM DE:





ESCOLA: _____


NOME: _____

PROFESSORA: _____ DATA: ____ / ____ / ____

RECREAÇÃO



JOGO DA VELHA



*FILME : "COMO SALVAR O PAPAÍ NOEL"

<https://youtu.be/Uu8rBYDLxh8>