

APOSTILA DE ATIVIDADES Nº14

DIAS:08,09,10,11,12,16,17,18,19, 22,23,24,25 e 26/11.



NOME: _____

PROFESSORA: THAÍS

-

1º ANO B

IBIÚNA, 08 DE NOVEMBRO DE 2021.







NOME: _____

ATIVIDADE 1- LÍNGUA PORTUGUESA









ARRASTE A LETRA COM DEDINHO E A SEGUIR, ESCREVA A LETRA INICIAL DE CADA FIGURA.

E D F A C B

H J L G K I

S

O







P


R

M

Q

N



Z

V







T

W

U

Y

X



IBIÚNA, 09 DE NOVEMBRO DE 2021.

NOM

NOME : _____



ATIVIDADE 1 – MATEMÁTICA

OBSERVE AS CRIANÇAS BRINCANDO NO PARQUE.



A- ESCREVA OS NÚMEROS AO LADO DAS CRIANÇAS DE ACORDO COM AS PISTAS.

- 1- **ANA** ESTÁ SENTADA NO CHÃO.
- 2- **FELIPE** ESTÁ NO ESCORREGADOR.
- 3- **JOÃO** E **ANTÔNIO** ESTÃO CORRENDO.
- 4- **CAIO** E **ANDRÉ** ESTÃO NA GANGORRA.



ATIVIDADE 2

LÍVIA E FABI ESTÃO PROCURANDO ALGUNS BRINQUEDOS NA ESTANTE DA CLASSE. VAMOS AJUDÁ-LAS ?



- A- FAÇA UM X** NO BRINQUEDO QUE ESTÁ **AO LADO** DO CARRINHO.
- B- CIRCULE** O BRINQUEDO QUE ESTÁ **EM CIMA** DA ESTANTE.

ATIVIDADE 2- LÍNGUA PORTUGUESA

AGENDA DE LEITURA



VOCÊ SABE O QUE SÃO CONTOS?

CONTO É UM TEXTO NARRATIVO DO GÊNERO LITERÁRIO. ...

OS **CONTOS SÃO** FANTASIOSOS, HISTÓRIAS DE FAZ DE CONTA QUE **SÃO** MUITO CONTADAS PARA AS CRIANÇAS.

O **CONTO** POSSUI **UM** NARRADOR, QUE **É** QUEM CONTA A HISTÓRIA E



UM ENREDO, OU SEJA, A HISTÓRIA **É** DIVIDIDA EM COMEÇO, MEIO E FIM.

NESTA AULA, VAMOS ORGANIZAR AGENDA DE LEITURAS QUE A PROFESSORA FARÁ AO LONGO DESSA APOSTILA.



NA TABELA DOS CONTOS SELECIONADOS PELA PROFESSORA. NA TABELA ESTARÁ A DATA DA LEITURA DOS CONTOS. (**A LEITURA SERÁ ENVIADA NO WHATSAPP**).

AGENDA DE LEITURA	
TÍTULO	DATA
BRANCA DE NEVE E O SETE ANÕES	11/11
OS TRÊS PORQUINHOS	17/11
JOÃO E MARIA	23/11
JOÃO E O PÉ DE FEIJÃO	25/11

ATIVIDADE 3



ESCREVA NO QUADRO O NOME DE UM LIVRO OU HISTÓRIA QUE VOCÊ GOSTARIA QUE A PROFESSORA LESSE:

IBIÚNA, 10 DE NOVEMBRO DE 2021.

NOME: _____

ATIVIDADE 3 – MATEMÁTICA



JULIANA E JOÃO PEDRO GOSTAM DE LER CONTOS E TÊM O HÁBITO DE VISITAR LIVRARIAS E BIBLIOTECAS.

1- QUANTOS LIVROS HÁ EM CADA ILUSTRAÇÃO?



REGISTRE A QUANTIDADE DE LIVROS.

A-



B-



ATIVIDADE 4- LÍNGUA PORTUGUESA

COM A AJUDA DE UM ADULTO, LIGUE OS CONTOS EM SEUS NOMES.



JOÃO E O PÉ DE
FEIJÃO



JOÃO E MARIA



OS TRÊS PORQUINHOS



BRANCA DE NEVE E OS
SETE ANÕES

IBIÚNA, 11 DE NOVEMBRO DE 2021.

NOME: _____



ATIVIDADE 5- LÍNGUA PORTUGUESA

BRANCA DE NEVE E OS SETE ANÕES

ERA UMA VEZ... UMA PRINCESINHA DE CABELOS BEM NEGROS, PELE BRANCA COMO A NEVE E LÁBIOS VERMELHOS. SEU NOME ERA BRANCA DE NEVE E ELA MORAVA COM SUA MADRASTA, UMA RAINHA MUITO VAIDOSA E MÁ.

(A HISTÓRIA COMPLETA SERÁ ENVIADA NO GRUPO DO WHATSAPP).
COM A AJUDA DE UM ADULTO, LEIA E PINTE A RESPOSTA CORRETA.

➤ BRANCA DE NEVE TINHA OS CABELOS ...

NEGROS

BRANCOS

➤ SUA PELE ERA

BRANCA

MORENA

➤ OS LÁBIOS DE BRANCA DE NEVE ERA...

ROSADO

VERMELHO

➤ ELA MORAVA COM A

MÃE

MADASTRA

ATIVIDADE 4- MATEMÁTICA



OBSERVE A IMAGEM E RESPONDA.

EU VOU, EU VOU, PRA CASA AGORA EU VOU...



A- COMPLETE: ESTÁ CENA É DE UMA HISTÓRIA INFANTIL CHAMADA
BRANCA DE NEVE E OS _____ ANÕES.

B- ESCREVA QUANTAS LETRAS TEM O NOME DE CADA ANÃO?



MESTRE.



SONECA.



DENGOSO.



DUNGA.



ZANGADO.



FELIZ.



ATCHIM.

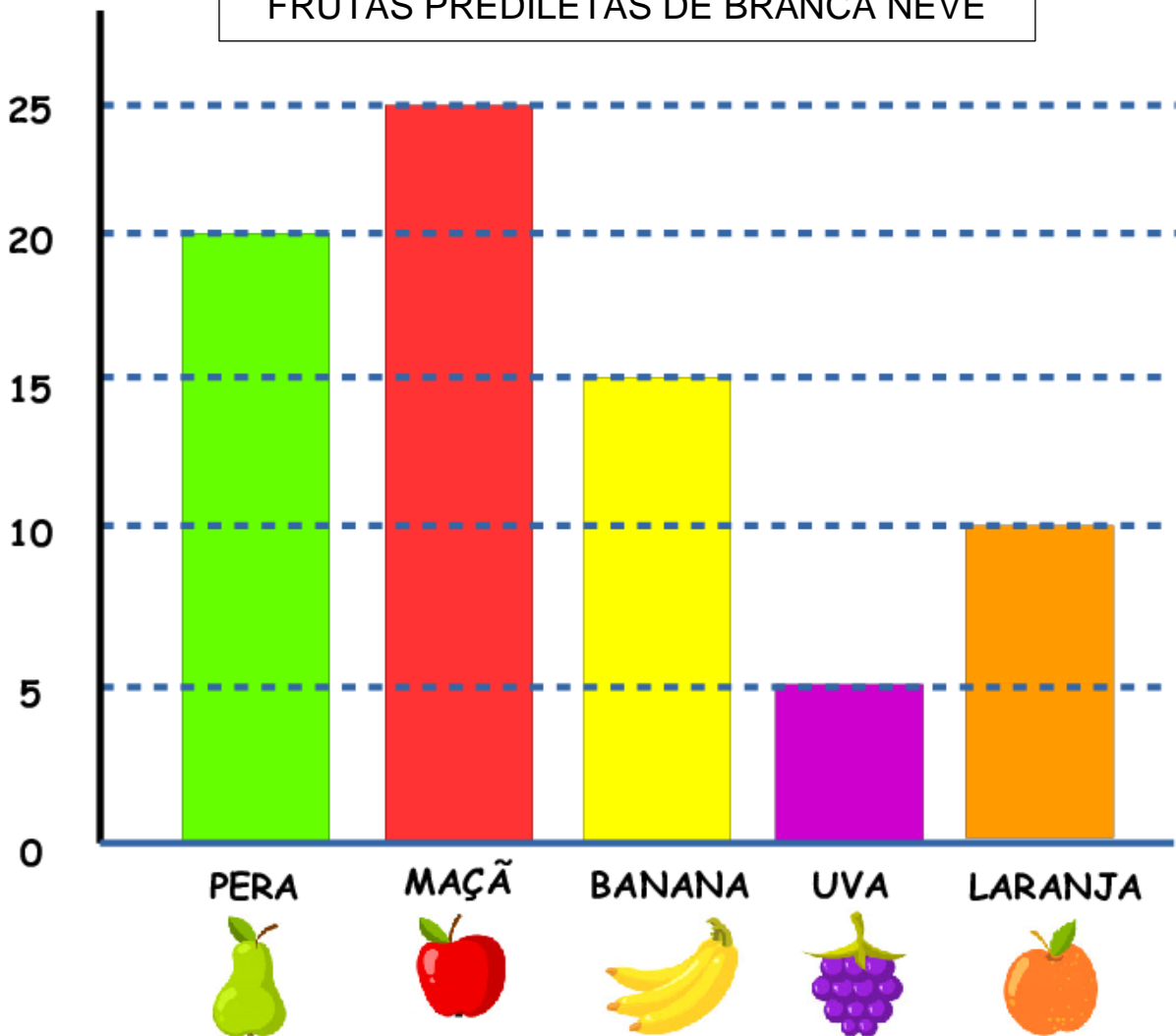


ATIVIDADE 5 – MATEMÁTICA






OBSERVE O GRÁFICO A SEGUIR.

BEATRIZ FEZ UMA PESQUISA COM SEUS COLEGAS DE SALA PARA SABER QUAL FRUTA ELES ACHAVAM QUE SERIA PREFERIDA DE BRANCA DE NEVE. VEJA:

FRUTAS PREDILETAS DE BRANCA NEVE



PREENCHA COM AS QUANTIDADES:

IBIÚNA, 16 DE NOVEMBRO DE 2021.



NOME: _____

ATIVIDADE 1- COMPETÊNCIA SOCIOEMOCIONAL

COM A AJUDA DE UM ADULTO, OBSERVE CADA UMAS DAS CENAS ABAIXO E LIGUE A **LEGENDA** QUE A DESCREVE.(O QUE VOCÊ ESTÁ VENDO).



OS ANÕES FICAM
SURPRESOS AO
ENCONTRAREM BRANCA
DE NEVE.



BRANCA DE NEVE COM
MEDO NA FLORESTA.



BRANCA DE NEVE
FELIZ COM SEUS
NOVOS AMIGUINHOS.

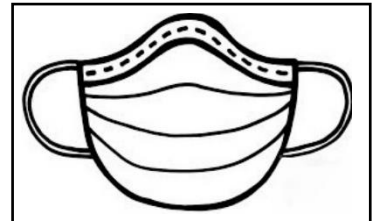
ATIVIDADE 1- CIÊNCIAS DA NATUREZA

COMO SABEMOS MEUS QUERIDOS ALUNOS, A COVID -19 AINDA CONTINUA SENDO TRANSMITIDA, DEVEMOS CONTINUAR SEMPRE NOS PROTEGENDO.

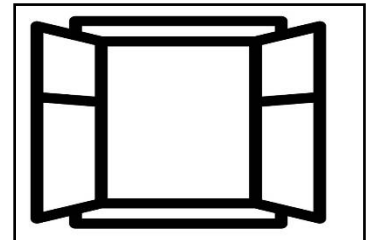


LIGUE AS PREVENÇÕES PARA A COVID- 19 A SUA ESCRITA.

PASSAR ÁLCOOL
EM GEL NAS MÃOS




EVITAR
AGLOMERAÇÃO



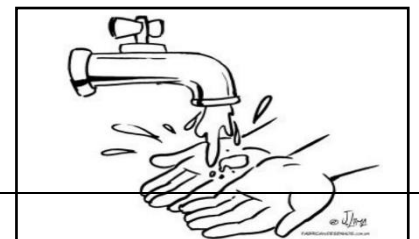
LAVAR BEM AS MÃOS
REGULARMENTE



USAR MÁSCARA



MANTER OS
LOCAIS AREJADOS



IBIÚNA, 17 DE NOVEMBRO DE 2021.



NOME: _____

ATIVIDADE 8 – LÍNGUA PORTUGUESA

(A LEITURA DA HISTÓRIA COMPLETA SERÁ ENVIADA NO GRUPO DO WHATSAPP).

OS TRÊS PORQUINHOS



ERA UMA VEZ TRÊS PORQUINHOS CHAMADOS QUE VIVIAM COM SUA MÃE. UM DIA ELA DISSE QUE ELES ERAM GRANDINHOS PARA VIVEREM SOZINHOS E PODEREM TRABALHAR...

COM A AJUDA DE UM ADULTO, LEIA E PINTE A RESPOSTA CORRETA.



OS TRÊS PORQUINHOS ERAM

IRMÃOS

PRIMOS



ELES MORAVAM COM SUA...

TIA

MÃE



A MÃE FALOU QUE ELES ERAM BEM GRANDINHOS PARA....

**MORAR SOZINHOS
E TRABALHAR**

**CONTINUAR
MORANDO COM ELA.**



A MÃE DOS PORQUINHOS PEDIU PARA CONSTRUIR CADA UM SUA...

CABANA

CASA



ATIVIDADE 6- MATEMÁTICA

OBSERVE IMAGEM E RESPONDA.



QUEM TEM MEDO DE LOBO MAU ?

OS TRÊS PORQUINHOS CONSTRUÍRAM AS CASAS DELES NO MEIO DA FLORESTA.

A) HÁ QUANTOS PORQUINHOS NA IMAGEM?

B) TEM QUANTAS NUVENS?

C) QUANTOS LOBOS?

D) QUANTAS CASAS ?

IBIÚNA, 18 DE NOVEMBRO DE 2021.

NOME: _____



ATIVIDADE 9- LÍNGUA PORTUGUESA

VAMOS INTERPRETAR O TEXTO DOS TRÊS PORQUINHOS.

COM A AJUDA DE UM ADULTO, LEIA E RESPONDA.

1- QUAL NOME DO DA HISTÓRIA?

2-QUEM SÃO OS PERSONAGENS DA HISTÓRIA?

3-O PORQUINHO QUE MAIS TRABALHOU CONSTRUIU SUA CASA DE ?


PALHA

TIJOLO

MADEIRA

4- O QUE ACONTECEU COM AS CASAS DOS PORQUINHOS QUE NÃO SE EMPENHARAM NA CONSTRUÇÃO, POIS SÓ PENSAVA EM BRINCAR ? MARQUE ALTERNATIVA CORRETA.

- AS CASAS FICARAM BEM CONSTRUIDAS.
- O LOBO ASSOPROU E DESTRUI AS CASAS.





ATIVIDADE 8- MATEMÁTICA

COM A AJUDA DE ADULTO, COMPLETE A TABELA NÚMERICA DO 1 AO 50.

	2									
11					15	16				
								28		
				34	35			38	39	
41					45			48	49	

TABELA PARA CONSULTA

1	2	3	4	5	6	7	8	9	10
11	12	13	14	15	16	17	18	19	20
21	22	23	24	25	26	27	28	29	30
31	32	33	34	35	36	37	38	39	40
41	42	43	44	45	46	47	48	49	50

IBIÚNA, 19 DE NOVEMBRO DE 2021.

NOME: _____



ATIVIDADE 10 -LÍNGUA PORTUGUESA

SAIBA UM POUCO MAIS SOBRE A BANDEIRA NACIONAL, COM A AJUDA DE ADULTO , FAÇA A LEITURA.



DIA 19 DE NOVEMBRO COMEMORA-SE O DIA DA BANDEIRA.



SIGNIFICADO DAS CORES DA BANDEIRA **VERDE**: SIMBOLIZA AS MATAS (A RICA FLORESTA BRASILEIRA), **AMARELO**: SIMBOLIZA AS RIQUEZAS DO PAÍS, **AZUL**: SIMBOLIZA O CÉU E OS RIOS BRASILEIROS, BRANCO: SIMBOLIZA A PAZ.



DA ÉPOCA DO SEU DESCOBRIMENTO ATÉ HOJE, O BRASIL TEVE NOVE BANDEIRAS.



INTERPRETANDO O TEXTO

COM A AJUDA DE UM ADULTO, ASSINALE A RESPOSTA CORRETA.

1-EM QUE DIA É COMEMORADO O DIA DA BANDEIRA?

2 DE NOVEMBRO

19 DE NOVEMBRO

15 DE NOVEMBRO



ATIVIDADE 9- MATEMÁTICA


PINTE A BANDEIRA DE ACORDO COM A **LEGENDA**, ATRAVÉS AS FORMAS GEOMÉTRICAS E CORES.



RÊTANGULO -VERDE



CÍRCULO – AZUL

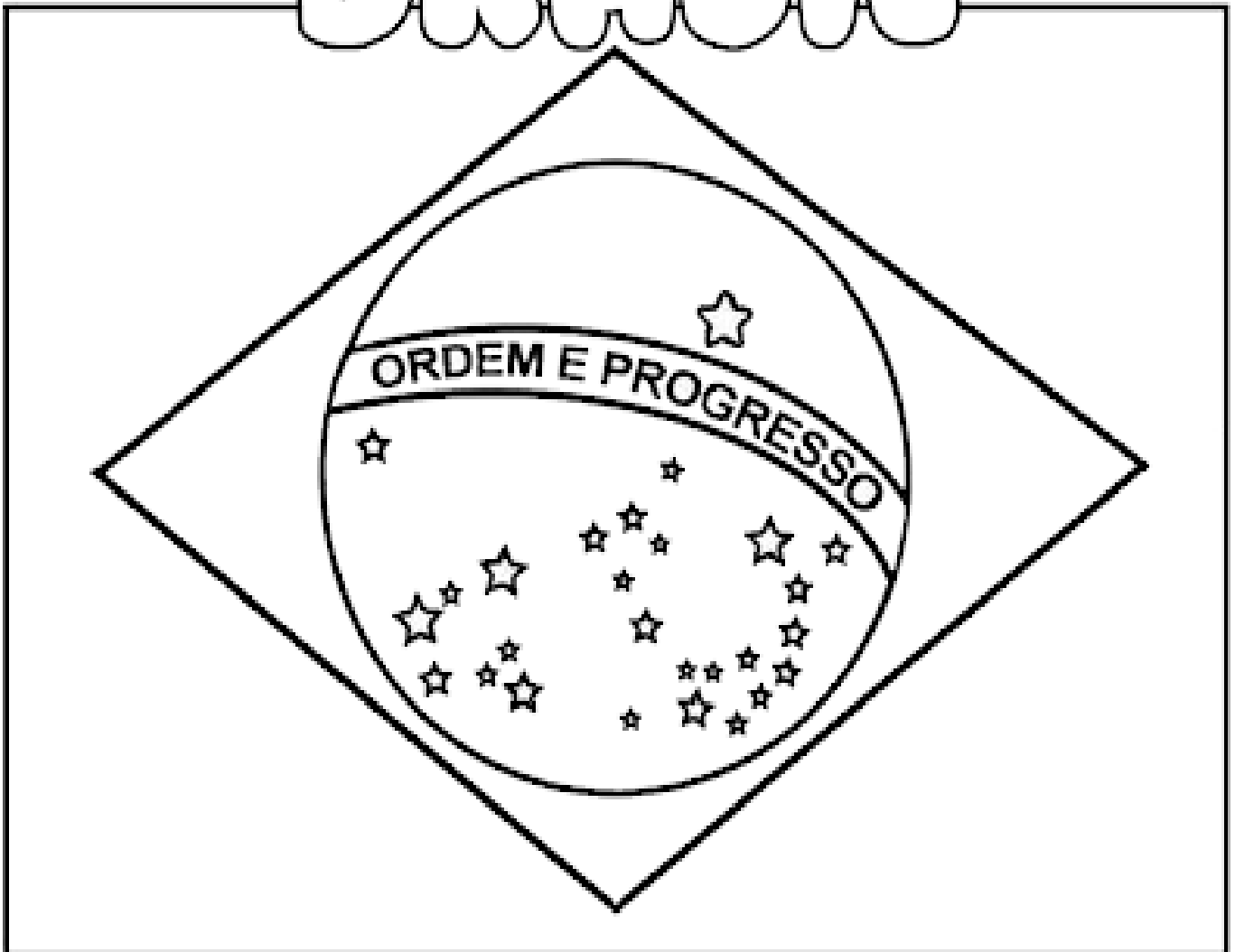


LOSANGO- AMARELO



ESTRELA- BRANCO

BRASIL



IBIÚNA, **22** DE NOVEMBRO DE 2021.

NOME: _____



ATIVIDADE 1- CIÊNCIAS HUMANAS

COM A AJUDA DE UM ADULTO, LEIA O TEXTO ABAIXO.


**” O QUE NÓS TORNAM ESPECIAIS SÃO NOSSAS DIFERENÇAS
RESPEITE O PRÓXIMO!**

NO DIA **20 DE NOVEMBRO** É COMEMORADO O DIA DA CONSCIÊNCIA
NEGRA NO BRASIL , ELES TÊM INFLUENCIADO A NOSSA CULTURA.

EX: NA MÚSICA BRASILEIRA COMO O SAMBA, PRATOS TÍPICOS COMO
FEIJOADA , ETC...



DESENHE AS EXPRESSÕES NOS ROSTOS ABAIXO E DEPOIS PINTE OS
DESENHOS BEM COLORIDO, RESPEITANDO AS DIVERSIDADES.



ATIVIDADE 11- LÍNGUA PORTUGUESA



ENCONTRE NO CAÇA- PALAVRAS, AS PALAVRAS EM DESTACADAS ABAIXO O QUE FAZEM PARTE DA CULTURA NEGRO- AFRICANO E QUE TAMBÉM ESTÃO PRESENTES NA CULTURA BRASILEIRA.



ATABAQUE

CAÇA PALAVRAS



SAMBA



FEIJOADA



CAPOEIRA

S	Q	U	E	A	C	M	V	Z	A
A	S	A	M	B	A	O	C	E	T
M	A	T	A	B	P	Q	U	W	A
M	F	K	O	B	O	U	X	A	B
B	C	A	P	O	E	S	A	C	A
A	F	Q	E	I	I	A	S	W	Q
V	C	Q	M	A	R	A	O	T	U
F	E	I	J	O	A	D	A	Ó	E

IBIÚNA, 23 NOVEMBRO DE 2021.

NOME: _____



ATIVIDADE 12- LÍNGUA PORTUGUESA

COM A AJUDA DE UM ADULTO, FAÇA A LEITURA.

(A LEITURA DA HISTÓRIA COMPLETA SERÁ ENVIADO NO GRUPO DO WHATSAPP).

JOÃO E MARIA

JOÃO E MARIA MORAVAM EM UMA CABANA NA FLORESTA COM O PAI, UM POBRE LENHADOR E A MADAstra. JÁ HÁ VÁRIAS SEMANAS, ELES NÃO TINHAM QUASE NADA PARA COMER.

A MADAstra ARMOU UM PLANO PARA NÃO MORREREM TODOS DE FOME , O PLANO ERA DAR UM PEDAÇO DE PÃO A JOÃO E MARIA E ABANDONA-LOS NA FLORESTA...



COM A AJUDA DE UM ADULTO, LEIA COM ATENÇÃO E PINTE A RESPOSTA CERTA.

A) A CASA DA BRUXA. ERA FEITA DE :

TIJOLO

PEDRA

DOCE



B) PARA ENGANAR A BRUXA, JOÃO MONSTRAVA AO INVÉS DO DEDO UM:

OSSO

PIRULITO

BALA



C) MARIA EMPURROU A BRUXA PARA DENTRO DE UM :

PORÃO

FORNO

CALDEIRÃO




D) JOÃO E MARIA MORAVA COM SEU PAI E SUA MADASTRA:

MADRINHA

MADRASTA

MARGARIDA




ATIVIDADE 12



COMPLETE OS NOMES DAS FIGURAS COM A SÍLABA FALTOSA. PRESTE ATENÇÃO QUANTO AO SOM.



EN ____ DA



PEI _____



_____ CARA

IBIÚNA, 24 DE NOVEMBRO DE 2021.

NOME: _____

ATIVIDADE 10- MATEMÁTICA.



PINTE O CAMINHO CONTANDO DE 1 EM 1 ATÉ CHEGAR NO 30.

PARA JÃO E MARIA CHEGAR EM SUA CASA.



		30	25	20	5	6	7
		1	2	3	4	19	8
		17	15	22	24	1	9
4	5	3	16	15	14	29	10
20	19	18	17	1	13	12	11
21	6	2	8	7	25	6	4
22	23	24	1	12	21		
3	10	25	3	6	30		
4	5	26	27	28	29		

TABELA DE NÚMEROS PARA CONSULTA

1	2	3	4	5	6	7	8	9	10
11	12	13	14	15	16	17	18	19	20
21	22	23	24	25	26	27	28	29	30



ATIVIDADE 13 – LÍNGUA PORTUGUESA

1-ESCREVA DO SEU JEITO OS NOMES DOS PERSONAGENS QUE APARECE NA CENA.



2- MARQUE COM X APENAS O QUE APARECE NA CASA ?

- () DOCES
- () SANFONA
- () BISCOITOS
- () VIOLÃO
- () BICICLETA

3-DESENHE NO QUADRO SEUS DOCES PREFERIDOS.

IBIÚNA, 25 DE NOVEMBRO DE 2021.

NOME: _____



ATIVIDADE 14- LÍNGUA PORTUGUESA

COM A AJUDA DE UM ADULTO, FAÇA A LEITURA.

(A LEITURA DA HISTÓRIA COMPLETA SERÁ ENVIADO NO GRUPO DO WHATSAPP).

JOÃO E PÉ DE FEIJÃO

ERA UMA VEZ UMA POBRE VIÚVA. ELA TINHA UM FILHO MUITO REBELDE E ESBANJADOR. O SEU PAI TINHA SIDO UM HOMEM MUITO RICO, ATÉ QUE UM DIA UM GIGANTE ROUBOU SUA HARPA MÁGICA E A GALINHA DOS OVOS DE OURO. O PAI MORREU POBRE E O POUCO QUE RESTOU O MENINO ACABOU GASTANDO...



VAMOS INTERPRETAR O CONTO.

COM A AJUDA DE UM ADULTO, ASSINALE A RESPOSTA CORRETA.

1- O GÊNERO TEXTUAL DA HISTÓRIA É :

- () FÁBULA
- () LENDA
- () CONTO

2-POR QUE A MÃE PEDIU PARA JOÃO VENDER A VACA ?

- () PORQUE ELES IRIAM GANHAR MUITO DINHEIRO COM A VENDA.
- () PORQUE TINHA ACABADO A COMIDA E O DINHEIRO.
- () PORQUE A VACA ERA MÁGICA.

3-JOÃO TROCOU VACA PELO O QUÊ ?


- () UMA HARPA
- () FEIJÃO MÁGICOS
- () UM CASTELO





ATIVIDADE 15

COM A AJUDA DE ADULTO, NUMERE AS SEQUÊNCIAS DO CONTO “JOÃO E O PÉ DE FEIJÃO”.



CIRCULE AS VOGAIS DAS PALAVRAS DO CONTO JOÃO E O PÉ DE FEIJÃO.

JOÃO

GALINHA

OVOS

GIGANTE

CASTELO

MÃE

FEIJÃO

HARPA

IBIÚNA, 26 DE NOVEMBRO DE 2021.

NOME: _____



ATIVIDADE 11- MATEMÁTICA

O FEIJÃO É UTILIZADO NA NOSSA ALIMENTAÇÃO DE TODOS OS DIAS E COM ELE PODEMOS FAZER DELICIOSOS PRATOS. ELE É VENDIDO POR PESO E PARA ISSO É NECESSÁRIO O USO DA BALANÇA.

COM AS BALANÇAS MEDIMOS A MASSA DE DIVERSOS PRODUTOS. VEJA 2 TIPOS DE BALANÇA.












BALANÇA MECÂNICA



BALANÇA DIGITAL.

MARQUE UM X NO QUADRINHO DO QUE, EM GERAL, COMPRAMOS DE ACORDO COM " PESO" OU MEDIDA DA MASSA.

AS IMAGENS NÃO ESTÃO REPRESENTADAS EM PROPORÇÃO.

 ALFACE. <input type="checkbox"/>	 ARROZ. <input type="checkbox"/>	 CHUCHU. <input type="checkbox"/>
 FARINHA. <input type="checkbox"/>	 CARNE. <input type="checkbox"/>	 LEITE. <input type="checkbox"/>
 TOMATE. <input type="checkbox"/>	 LIVRO. <input type="checkbox"/>	 PÃO. <input type="checkbox"/>

ATIVIDADE 12



JOGANDO DE TRILHA

VEJA OS DADOS QUE SAMUEL E IZABELA TIRAM NO JOGO DE TRILHAS.



SAMUEL



IZABELA









A-SOME OS DADOS E DESCUBRA EM QUE CASA CADA UM DELES PAROU.ESCREVA AO LADO DE CADA CRIANÇA.

B-QUEM ESTÁ NA FRENTE? _____

ATIVIDADE 13



QUAL É A SOMA DOS DADOS?

 $2 + 3 = 5$	 _____ + _____ = _____	 _____ + _____ = _____	 _____ + _____ = _____
 _____ + _____ = _____	 _____ + _____ = _____	 _____ + _____ = _____	 _____ + _____ = _____

REFERÊNCIAS

IMAGENS UTILIZADAS DO GOOGLE/ PARA ELABORAÇÃO DAS ATIVIDADES PELO PROFESSOR

<https://www.educaçãotransformação.com.br>

<https://www.atividadesparaoprofessor.com.br>

<https://www.espaçoeducar.com>

<https://blog.arteensinaraprender.com.br>

<https://br.pinterest.com/pin/>

<https://www.todamateria.com.br>

Livro Ápis Matemática

Livro Aprender sempre volume 1

Livro Aprender sempre volume 2