



E.M. "PROFESSORA YOLANDA AGOSTINHO DE LIMA."

MATEMÁTICA

4ª APOSTILA: 19-04-2021 À 10-05-2021

NOME: _____ 2ºANO A

PROFESSORA: ARIADNE PUZONE


IBIÚNA-2021

E.M. "PROFESSORA YOLANDA AGOSTINHO DE LIMA."

NOME: _____ DATA: 19-04-2021

PROFESSORA: ARIADNE **MATEMÁTICA/ARTES/GEOGRAFIA** 2ºANO A

PINTE E COLE OS INDIOZINHOS EM TODO O BRASIL:



E.M. "PROFESSORA YOLANDA AGOSTINHO DE LIMA."


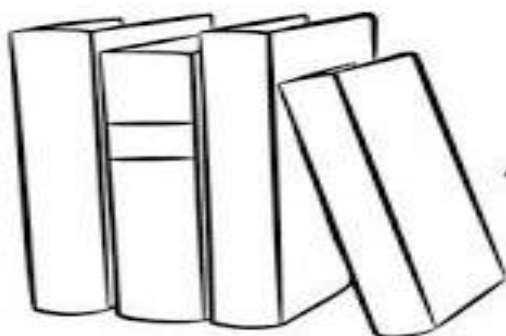


NOME: _____ DATA: 20-04-2021

PROFESSORA: ARIADNE MATEMÁTICA/HISTÓRIA 2ºANO A

18 DE ABRIL-DIA DO LIVRO

DIA DO LIVRO

CIRCULE OS LIVROS ABERTOS



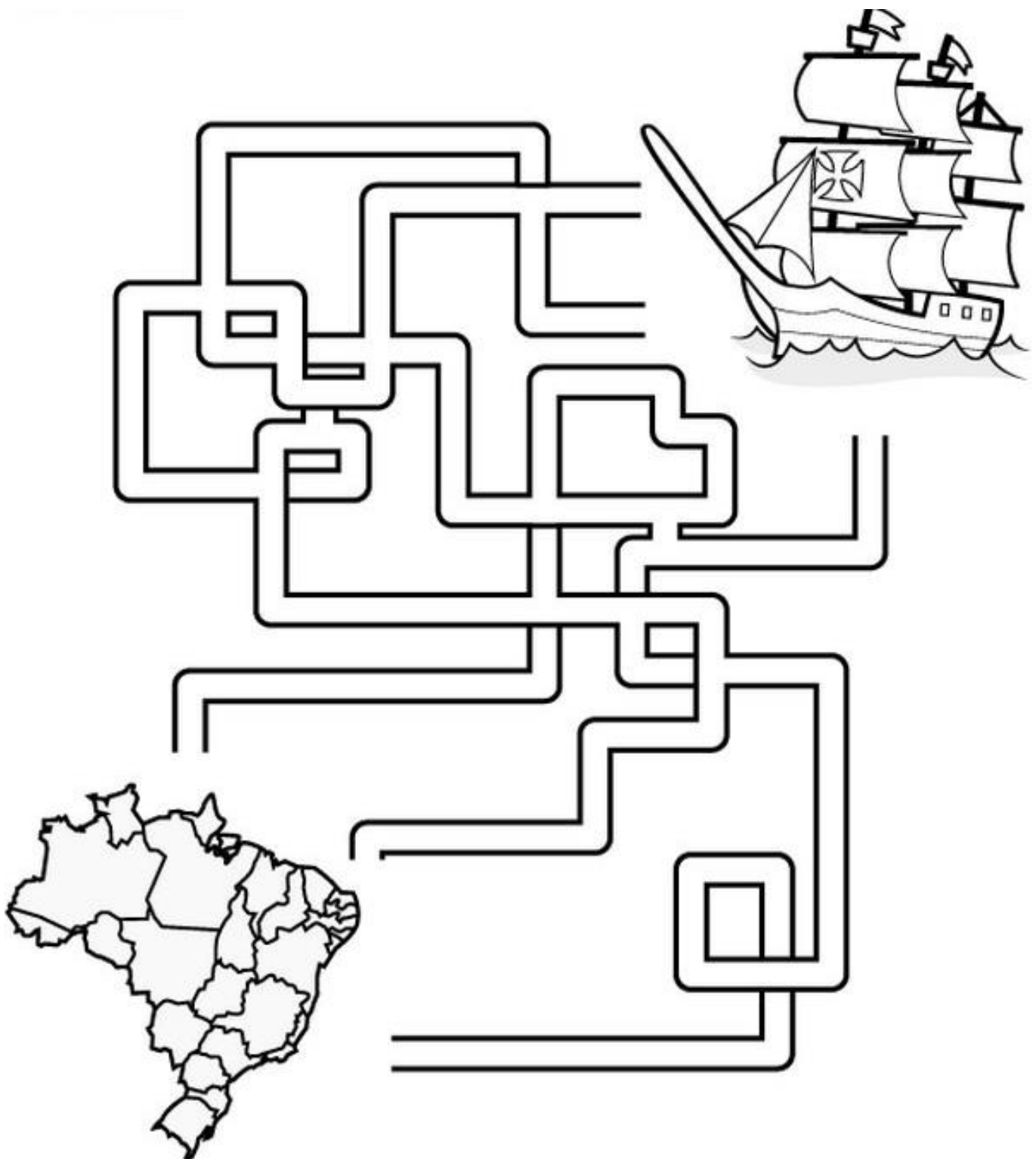
CONTE E REGISTRE
QUANTOS LIVROS FECHADOS

E.M. "PROFESSORA YOLANDA AGOSTINHO DE LIMA."

NOME: _____ DATA: 22-04-2021

PROFESSORA: ARIADNE **MATEMÁTICA/HISTÓRIA** 2ºANO A

**LABIRINTO: CONDUZA A CARAVELA PELO LABIRINTO E AJUDE A
DESCOBRIR O BRASIL!!!**



E.M. "PROFESSORA YOLANDA AGOSTINHO DE LIMA."

NOME: _____ DATA: 23-04-2021

PROFESSORA: ARIADNE MATEMÁTICA/HISTÓRIA 2ºANO A

"UM PAÍS SE FAZ COM HOMENS E LIVROS."

NOME _____

DATA ___/___/___

1. ENCONTRE OS 4 ERROS.



E.M. "PROFESSORA YOLANDA AGOSTINHO DE LIMA."

NOME: _____ DATA: 26-04-2021

PROFESSORA: ARIADNE MATEMÁTICA/EDUCAÇÃO FÍSICA 2ºANO A

VAMOS NOS MOVIMENTAR UM POUCO? FAÇA UM VÍDEO OU TIRE UMA FOTO SUA BRINCANDO DE CORDA E MANDE NO NOSSO GRUPO DO WHATS APP (VOU FICAR ESPERANDO)

CORDA



PULAR CORDA É UMA BRINCADEIRA TRADICIONAL QUE ENVOLVE GRANDE ATIVIDADE FÍSICA E COORDENAÇÃO. PODE SER BRINCADA SOZINHA OU COM OUTRAS PESSOAS TRILHANDO.

E.M. "PROFESSORA YOLANDA AGOSTINHO DE LIMA."


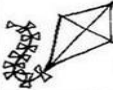






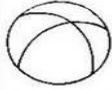





NOME: _____ DATA: 27-04-2021

PROFESSORA: ARIADNE


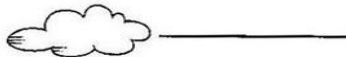

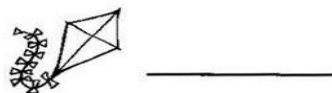

MATEMÁTICA

2ºANO A

COMPLETE A SEQUÊNCIA NUMÉRICA:

1	2	3	4		6	7	8		10
11	12		14	15	16	17	18	19	
20	21	22		24	25		27	28	29
30		32	33	34		36	37	38	
	41	42		44	45	46	47	48	49
	51	52	53	54		56	57		59
60									

Observe os números que faltam no quadro e escreva-os abaixo, observando os símbolos.



E.M. "PROFESSORA YOLANDA AGOSTINHO DE LIMA."

NOME: _____ DATA: 28-04-2021

PROFESSORA: ARIADNE

MATEMÁTICA


2ºANO A

CIRCULE O NÚMERO QUE ESTÁ NO LUGAR ERRADO:




0	1	2	3	4	5	6	3	8	9
---	---	---	---	---	---	---	---	---	---

10	11	12	13	24	15	16	17	18	19
----	----	----	----	----	----	----	----	----	----



20	21	22	23	24	25	26	27	82	29
----	----	----	----	----	----	----	----	----	----

30	13	32	33	34	35	36	37	38	39
----	----	----	----	----	----	----	----	----	----





profrafaelak.blogspot.com



40	41	42	43	44	55	46	47	48	49
----	----	----	----	----	----	----	----	----	----

50	51	52	53	54	55	36	57	58	59
----	----	----	----	----	----	----	----	----	----



60	61	62	63	64	65	66	67	68	79
----	----	----	----	----	----	----	----	----	----

E.M. "PROFESSORA YOLANDA AGOSTINHO DE LIMA."

NOME: _____ DATA: 29-04-2021

PROFESSORA: ARIADNE

MATEMÁTICA

2ºANO A

COMPLETE COM O QUE SE PEDE:

ANTES

40

12

32

51

19

23



ENTRE

10

12

19

21

51

53

9

11

60

62

59

61



DEPOIS

20

13

41

30

17

59



E.M. "PROFESSORA YOLANDA AGOSTINHO DE LIMA."

NOME: _____ DATA: 30-04-2021

PROFESSORA: ARIADNE

MATEMÁTICA

2ºANO A

OBSERVANDO A TABELA

CAMILA COLHEU FLORES EM SEU JARDIM PARA QUE MÁRCIO POSSA VENDER. OBSERVE A QUANTIDADE DE FLORES COLHIDAS A CADA DIA E RESPONDA.



	SEGUNDA	TERÇA	QUARTA	QUINTA	SEXTA
FLORES					

1 - QUAL DIA DA SEMANA CAMILA COLHEU MAIS FLORES?

2 - QUANTAS FLORES FORAM COLHIDAS NA SEXTA-FEIRA?

3 - QUAL DIA DA SEMANA CAMILA COLHEU MENOS FLORES?

4 - QUANTAS FLORES FORAM COLHIDAS AO TODO?

E.M. "PROFESSORA YOLANDA AGOSTINHO DE LIMA."


NOME: _____ DATA: 03-05-2021

PROFESSORA: ARIADNE MATEMÁTICA/HISTÓRIA 2ºANO A

1º DE MAIO-DIA DO TRABALHO

**HÁ DIVERSAS PROFISSÕES,
TODAS TÊM O SEU VALOR
O TRABALHO RENDE MUITO,
QUANDO É FEITO COM AMOR.**

JOGO DOS 7 ERROS: O QUE ELES VÃO SER QUANDO CRESCER?
ENCONTRE OS 7 ERROS QUE EXISTEM NOS DESENHOS ABAIXO



E.M. "PROFESSORA YOLANDA AGOSTINHO DE LIMA."

NOME: _____ DATA: 04-05-2021

PROFESSORA: ARIADNE MATEMÁTICA/HISTÓRIA 2º ANO A

PINTE E RECORTE O JOGO DA MEMÓRIA DAS PROFISSÕES:



E.M. "PROFESSORA YOLANDA AGOSTINHO DE LIMA."

NOME: _____ DATA: 05-05-2021

PROFESSORA: ARIADNE ARTES/HISTÓRIA/GEOGRAFIA 2ºANO A

O QUE VOCÊ QUER SER QUANDO CRESCER?

DESENHE NO ESPAÇO
AO LADO.









E.M. "PROFESSORA YOLANDA AGOSTINHO DE LIMA."

NOME: _____ DATA: 06-05-2021

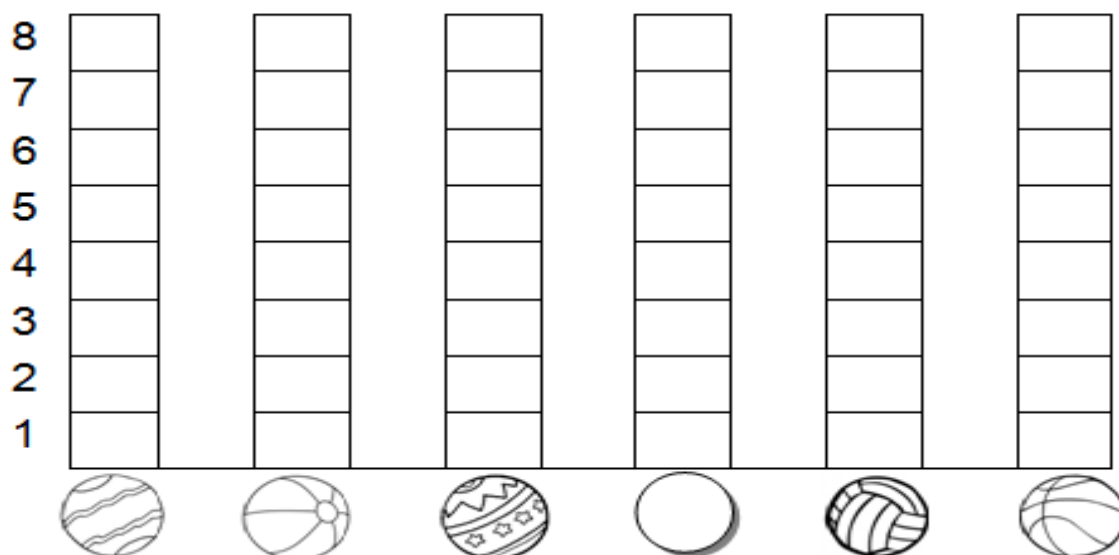
PROFESSORA: ARIADNE MATEMÁTICA 2ºANO A

BRINCADEIRA: ACERTE A BOLA NA CESTA

- DESCUBRA QUANTAS BOLAS, CADA CRIANÇA ACERTOU NA CESTA:

CRIANÇAS	QUANTIDADE DE BOLAS NA CESTA	NÚMERO
CARLOS		
FELIPE		
PEDRO		
GIOVANI		
VÍTOR		
FÁBIO		

- AGORA, VOCÊ DEVERÁ COLORIR O GRÁFICO COM AS INFORMAÇÕES DA TABELA QUE VOCÊ ACABOU DE COMPLETAR:



E.M. "PROFESSORA YOLANDA AGOSTINHO DE LIMA."

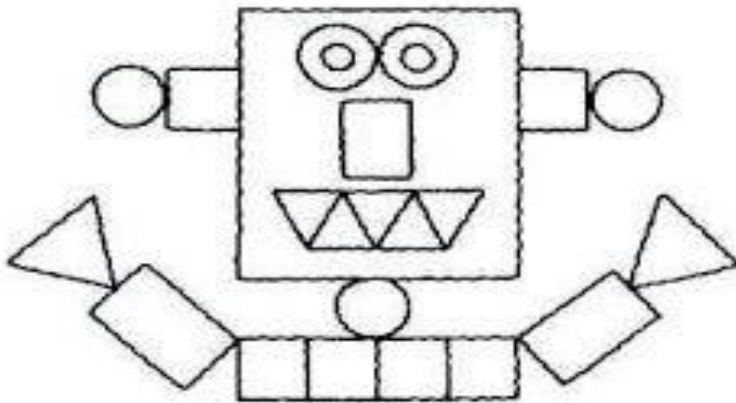
NOME: _____ DATA: 07-05-2021

PROFESSORA: ARIADNE **MATEMÁTICA** 2ºANO A


PINTE NAS CORES QUE SE PEDE:

△ VERDE ○ VERMELHO □ AMARELO ▭ AZUL

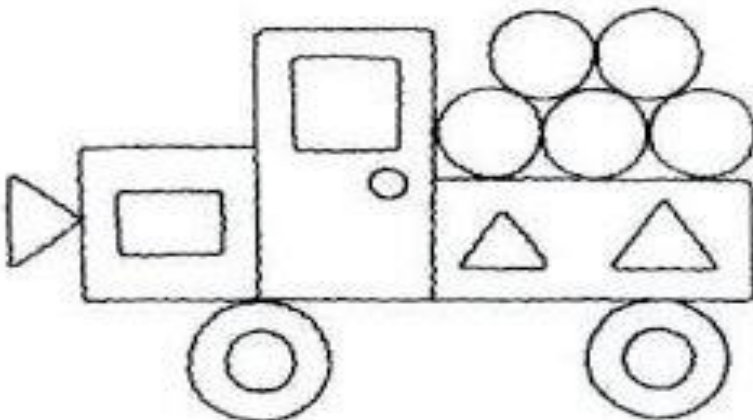
AGORA CONTE QUANTAS PEÇAS HÁ EM CADA FIGURA E REGISTRE AO LADO



□	_____
○	_____
△	_____
▭	_____



□	_____
○	_____
△	_____
▭	_____



□	_____
○	_____
△	_____
▭	_____

E.M. "PROFESSORA YOLANDA AGOSTINHO DE LIMA."



NOME: _____ DATA: 10-05-2021

PROFESSORA: ARIADNE MATEMÁTICA 2ºANO A



ESQUERDA OU DIREITA?

1) PINTe SOMENTE QUEM ESTÁ INDO PARA A **ESQUERDA**.



2

AGORA, PINTe SOMENTE QUEM ESTÁ INDO PARA A **DIREITA**.

