



E.M "JOÃO CARDOSO DE MORAES"
ALUNO(A) _____
PROFª CELINA 4º ANO - B



NOME: _____

DATA: _____

MONTEIRO LOBATO



MONTEIRO LOBATO

Nasceu em Taubaté, São Paulo, no dia 18 de abril de 1882. Em homenagem ao seu nascimento, neste dia comemora-se o Dia Nacional do Livro Infantil.

Era filho de José Bento Marcondes Lobato e Olímpia Augusto Lobato. Seu nome verdadeiro era José Renato Monteiro Lobato, mas em 1893 o autor preferiu adotar o nome do pai por desejar usar uma bengala do pai que continha no punho as iniciais JBML.

Juca, apelido que Lobato recebeu na infância, brincava em companhia de suas irmãs com legumes e sabugos de milho que eram transformados em bonecos e animais, conforme costume da época.

É o autor do Sítio do Picapau Amarelo, Jeca Tatu e mais 30 volumes.

Faleceu em São Paulo, no dia 4 de julho de 1948, aos 66 anos de idade, por causa de um derrame.

NOME: _____ DATA: _____

LEITURA E INTERPRETAÇÃO

O SÍTIO DO PICAPAU AMARELO

O SÍTIO DO PICAPAU AMARELO FICA LONGE DAS CIDADES GRANDES E DA POLUIÇÃO. LÁ, AS PESSOAS VIVEM AVENTURAS FANTÁSTICAS. DONA BENTA, UMA VELHINHA SIMPÁTICA, GOSTA DE CONTAR FABULOSAS HISTÓRIAS E BRINCAR COM SEUS NETOS PEDRINHO E NARIZINHO. O MENINO ADORA AVENTURAS E CAÇADAS. A MENINA GOSTA MUITO DE OUVIR HISTÓRIAS.

NO SÍTIO, EXISTE UMA BONECA DE PANO, MUITO CURIOSA, TRAVESSA E TAGARELA QUE SE CHAMA EMÍLIA. ELA VIVE CORRENDO E GRITANDO PARA LÁ E PARA CÁ. A BONECA FOI CRIADA PELA TIA NASTÁCIA, A COZINHEIRA DO SÍTIO. ELA É UMA SENHORA MUITO RELIGIOSA E ADORA CONTAR HISTÓRIAS FOLCLÓRICAS.

NESTE SÍTIO, TUDO É POSSÍVEL: ANIMAIS FALAM, COMO O PORCO MARQUÊS DE RABICÓ; SABUGO DE MILHO É CIENTISTA, COMO VISCONDE DE SABUGOSA, QUE FABRICA UM POZINHO MÁGICO DE PIRLIMPIMPIM, PARA AS PESSOAS DESCOBRIREM MUNDOS INCRÍVEIS.

COM ESSA TURMA, VOCÊ CONHECE PERSONAGENS FOLCLÓRICOS, COMO O SACI, A MULA-SEM-CABEÇA, O CURUPIRA E A IARA, E VIAJA PELO MUNDO INTEIRO, PELO TEMPO E PELO ESPAÇO SIDERAL.

(MONTEIRO LOBATO)

LEIA O TEXTO E RESPONDA:

1 – QUEM É DONA BENTA ? _____

2 – ONDE FICA O SITIO DO PICAPAU AMARELO? _____

3 – NESSE SITIO TEM DUAS CRIANÇAS, QUEM SÃO ? _____

4 – O QUE PEDRINHO GOSTA DE FAZER ? _____

5 – COMO É A TIA ANASTÁCIA, COMO ELA É ? _____

6- QUEM MAIS MORA NESSE SITIO ? _____

EMÍLIA

(Baby Consuelo)

De uma caixa de costura
Pano, linha e agulha
Nasceu uma menina valente
Emília, a boneca gente
Nos primeiros momentos de vida
Era toda desengonçada,
Ficar em pé não podia
Caía, não conseguia nada.

Emília, Emília, Emília
Emília, Emília, Emília.



Mas a partir do momento
Que aprendeu a andar
Emília tomou uma pílula
E tagarelou, tagarelou a falar
Ela é feita de pano
Mas pensa como ser humano
Esperta e atrevida
É uma maravilha, Emília, Emília.

Emília, Emília, Emília
Emília, Emília, Emília.

De Olho na Canção!

1. A canção fala de:

() um soldadinho de chumbo () um gato de botas () uma boneca de pano

2. Pra fazer Emília o que foi utilizado?

3. Na sua opinião o que significa tagarelar?

4. O texto diz que Emília é ...

() esperta e atrevida () alegre e extrovertida () não sabe nada da vida

5. Retire do texto 4 palavras com a mesma classificação silábica da palavra Emília.

SÍTIO DO PICAPAU AMARELO

GILBERTO GIL

MARMELADA DE BANANA
BANANADA DE GOIABA
GOIABADA DE MARMELO
SÍTIO DO PICA PAU AMARELO
BONECA DE PANO É GENTE
SABUGO DE MILHO É GENTE
O SOL NASCENTE É TÃO BELC
SÍTIO DO PICA PAU AMARELO
RIOS DE PRATA PIRATA
COM O SIDERAL NA MATA
O UNIVERSO PARALELO
SÍTIO DO PICA PAU AMARELO
NUM PAÍS DA FANTASIA
NUM ESTADO DE EUFORIA
CIDADE POLICHINELO
SÍTIO DO PICA PAU AMARELO



RESPONDA:

•QUE TIPO DE TEXTO É

ESTE:.....

•QUAL É O TÍTULO DESTA
MÚSICA ?

.....

•A QUEM O AUTOR SE REFERE QUANDO FALA:

•BONECA DE PANO É GENTE:.....

•SABUGO DE MILHO É GENTE:.....

•RELACIONE CADA DOCE A SUA FRUTA CERTA:

•MARMELADA:.....

•BANANADA:.....

•GOIABADA:.....

•COMPLETE:

BONECA DE PANO É

SABUGO DE É GENTE

O SOL É TÃO BELO !

OS PRIMEIROS HABITANTES E A COLONIZAÇÃO



Não sabemos quantos eram os indígenas brasileiros no início da colonização portuguesa.

Em 1500, o litoral do Brasil era habitado pelos índios. Eles foram os primeiros a entrar em contato com os portugueses, que aqui chegaram naquele ano.

Esses povos não deixaram documentos escritos. Quase tudo o que sabemos foram registros feitos pelos europeus.

A maneira de viver dos índios foi a primeira experiência brasileira de vida em comunidade.

Apesar de os índios terem vivido no Brasil há muito tempo, os portugueses chegaram, considerando-se os donos da nova terra e, por isso, implantaram a organização de sociedades de Portugal.

Com a chegada da primeira expedição colonizadora, em 1530, algumas famílias portuguesas vieram para viver e colonizar a terra.

Em 1532, foi fundada a primeira vila, chamada São Vicente, que hoje faz parte do Estado de São Paulo. Nessa vila iniciou-se o plantio da cana-de-açúcar, com a criação dos engenhos.

Em 1536, D. João III, rei de Portugal, dividiu as terras brasileiras em 15 lotes. Surgiram chamadas Capitânicas Hereditárias.

As Capitânicas eram hereditárias porque, com a morte do donatário, passavam como herança para o filho mais velho.

NOME: _____ DATA: _____

O DESCOBRIMENTO DO BRASIL

A expedição de Pedro Álvares Cabral chegou às terras brasileiras no dia 22 de abril de 1500. Ao aproximar-se das terras brasileiras, avistaram um monte e lhe deram o nome de Monte Pascoal, por estarem na época da Páscoa.


Aportaram em Porto Seguro, no Estado da Bahia, atual Baía de Cabrália. Quando desembarcaram, Pero Vaz de Caminha, escrivão da esquadra portuguesa, escreveu ao rei de Portugal contando a beleza da terra aqui encontrada.

No dia 26 de abril, foi celebrada a primeira missa no Brasil, por Frei Henrique Soares.

Em 1º de maio, Cabral tomou posse da terra em nome do rei de Portugal.

Os portugueses deram outros nomes à terra brasileira antes de se chamar Brasil: Ilha de Vera Cruz e Terra de Santa Cruz.

O nome Brasil foi escolhido por causa da madeira pau-brasil, que aqui era encontrada em grande quantidade. O pau-brasil era uma madeira muito utilizada na Europa, para fazer navios e tingir roupas. A sua cor é vermelha como brasa, daí o nome Brasil.



NOME: _____

DATA: _____

21 de abril - Dia de Tiradentes



Um grito de liberdade!

Em 21 de abril comemoramos o dia do primeiro sonho de um Brasil livre da colonização portuguesa, exato dia esse em que Tiradentes, Joaquim José da Silva Xavier, no ano de 1792, morreu enforcado.

A Inconfidência foi o início da mudança que pretendia a liberdade do Brasil do domínio colonial português.

Muitos anos após a morte de Tiradentes, ele foi reconhecido como um grande herói do início da história da Independência do Brasil, e mais de 150 anos depois foi decretado como feriado nacional o dia 21 de abril como o dia de Tiradentes.

NOME: _____

DATA: _____

21 DE ABRIL - DIA DE TIRADENTES



AGORA É COM VOCÊ!

Procure, no caça-palavras, as respostas das seguintes perguntas:

Q	F	A	B	R	I	L	X	Y	Z
T	I	R	A	D	E	N	T	E	S
R	E	N	F	O	R	C	A	D	O
P	O	R	T	U	G	A	L	Z	P

1. Sobre quem as crianças estavam conversando? _____
2. Qual o mês em que comemoramos o Dia de Tiradentes? _____
3. Como ele morreu? _____
4. Ele queria libertar o Brasil de qual país? _____


NOME: _____ DATA: _____

CAÇA-PALAVRAS



www.smartkids.com.br


Encontre no diagrama as palavras destacadas no quadro abaixo:



Joaquim José da Silva Xavier queria libertar o Brasil-Colônia de **PORTUGAL** e participou do movimento conhecido como Inconfidência Mineira. Abandonou o exército, sendo considerado um **INCONFIDENTE**. Seu apelido era **TIRADENTES** porque também era dentista. Ele foi preso e condenado à **FORÇA**

S	V	P	X	M	B	Z	C	X	N	X	H
H	X	O	R	C	R	C	J	R	P	D	X
T	I	R	A	D	E	N	T	E	S	X	M
H	L	T	P	X	M	B	S	V	P	X	M
C	V	U	R	Q	X	N	X	H	Q	F	O
N	V	G	V	K	X	F	O	R	C	A	X
G	M	A	L	G	K	N	C	L	N	M	F
S	S	L	S	V	P	X	M	P	X	M	B
I	N	C	O	N	F	I	D	E	N	T	E

NOME: _____ DATA: _____



- 1- Qual era o nome do homem que tinha o apelido de Tiradentes?

- 2- Em qual cidade nasceu Tiradentes? _____
- 3- Quando os portugueses chegaram em nossas terras, o Brasil ficou pertencendo a qual país? _____
- 4- Esse país cobrava muitos _____ da população.
- 5- Tiradentes e outros brasileiros, descontentes com o que estava acontecendo, organizaram um movimento chamado _____.
- 6- Tiradentes e seus parceiros de luta foram traídos. Qual foi a punição de Tiradentes?

CURIOSIDADES

1º de Maio



DESDE 1889, NA MAIORIA DOS PAÍSES, O 1º DE MAIO É A DATA ESCOLHIDA PARA COMEMORAR AS CONQUISTAS DOS TRABALHADORES! ESSA DATA TEVE ORIGEM EM UMA GREVE OPERÁRIA QUE ACONTECEU EM 1886, EM CHICAGO, NOS EUA, POR MELHORES CONDIÇÕES E REDUÇÃO NA JORNADA DE TRABALHO! NESSA ÉPOCA, AS PESSOAS CHEGAVAM A TRABALHAR ATÉ 18 HORAS POR DIA!! O 1º DE MAIO SÓ SE TORNOU FERIADO OFICIAL NO INÍCIO DO SÉCULO 20!

MURICIO

SALÁRIO MÍNIMO

EM 1940, GETÚLIO VARGAS, O PRESIDENTE DO BRASIL NESSA ÉPOCA, CRIOU O SALÁRIO MÍNIMO NO PAÍS! ESSE SALÁRIO DEVERIA SER SUFICIENTE PARA UMA FAMÍLIA PAGAR AS CONTAS DE MORADIA, ALIMENTAÇÃO, VESTUÁRIO, HIGIENE E TRANSPORTE DO TRABALHADOR!



ARTESANATO

A ARTE FEITA À MÃO, ALÉM DE CARACTERIZAR A CULTURA DA ÁREA ONDE É PRODUZIDA, REFLETE O RELACIONAMENTO DO ARTESÃO COM SEU MEIO AMBIENTE, POR MEIO DOS MATERIAIS EMPREGADOS, COMO A MADEIRA, O BARRO, A CERÂMICA E AS FIBRAS VEGETAIS INDÍGENAS!



PROFISSÕES EM EXTINÇÃO

MUITAS PROFISSÕES ESTÃO SENDO ENGOLIDAS PELA INDUSTRIALIZAÇÃO E OUTRAS SENDO SUBSTITUÍDAS PELOS SISTEMAS DE AUTOMATIZAÇÃO! VEJA ALGUMAS DELAS:

TELEFONISTA

CHAPELEIRO

CONSERTADOR DE SOMBRINHAS



PROVÉRBIOS RELATIVOS AO TRABALHO

- "O TRABALHO ENOBRECE O HOMEM!"
- "DEUS AJUDA A QUEM CEDO MADRUGA!"
- "O TRABALHO TUDO VENCE!"
- "TRABALHO PRECIPITADO NÃO DA RESULTADO!"
- "O TRABALHO NÃO MATA NINGUÉM!"

NOME: _____

DATA: _____

CAÇA-PROFISSÕES

① Encontre, no caça-palavras, as profissões de acordo com as dicas abaixo.

A	Q	J	A	R	D	I	N	E	I	R	O	A
T	M	O	S	F	U	F	U	I	T	A	M	G
O	X	R	V	S	Z	E	L	A	D	O	R	F
R	X	N	E	O	C	A	R	T	E	I	R	O
O	U	A	T	X	A	A	Q	A	O	V	J	P
A	Ç	L	E	T	Ç	D	G	A	R	Ç	O	M
P	L	I	R	M	A	E	C	A	W	E	Q	O
O	A	S	I	C	P	R	E	C	E	S	O	T
L	S	T	N	E	R	R	B	Ç	J	P	G	O
I	M	A	Ã	O	N	O	A	S	A	R	E	R
C	P	O	R	B	B	Ç	P	A	C	E	U	I
I	O	V	I	A	M	P	Ç	S	A	G	T	S
A	L	A	O	P	T	S	O	A	D	O	H	T
L	Q	A	M	B	O	M	B	E	I	R	O	A



- 1- Toma conta de edifícios residenciais e comerciais.
- 2- Cuida da manutenção e do embelezamento de jardins.
- 3- Trabalha em restaurante, anota os pedidos e serve os fregueses.
- 4- Tem a função de apagar incêndios em casas, prédios, matas, etc.
- 5- Profissional habilitado para dirigir automóveis.
- 6- Encarregado em distribuir cartas, telegramas, etc.
- 7- Cuida da segurança das cidades.
- 8- Trabalha em novela, filme e teatro.
- 9- Escreve matérias para jornais e revistas.
- 10- Cuida da saúde dos animais.

NOME: _____ DATA: _____

Se as coisas fossem Mães - Sylvia Orthof

Se a lua fosse mãe, seria mãe das estrelas,
O céu seria sua casa, casa das estrelas belas.

Se a sereia fosse mãe, seria mãe dos peixinhos,
O mar seria um jardim e os barcos seus caminhos.

Se a casa fosse mãe, seria a mãe das janelas,
Conversaria com a lua sobre as crianças-estrelas,
Falaria de receitas, pastéis de vento, quindins,
Emprestaria a cozinha pra lua fazer pudins!

Se a terra fosse mãe, seria mãe das sementes,
pois mãe é tudo que abraça, acha graça e ama a gente.

Se uma fada fosse mãe, seria a mãe da alegria.
Toda mãe é um pouco fada... Nossa mãe fada seria.

Se uma bruxa fosse mãe, seria mamãe gozada:
Seria a mãe das vassouras, da Família Vassourada!

Se a chaleira fosse mãe, seria a mãe da água fervida,
Faria chá e remédio para as doenças da vida.

Se a mesa fosse mãe, as filhas, sendo cadeiras,
Sentariam comportadas, teriam "boas maneiras".

Cada mãe é diferente: Mãe verdadeira, ou postiça, mãe-vovó, mãe titia,
Maria, Filó, Francisca, Gertrudes, Malvina, Alice, toda mãe é como eu disse.

Dona Mamãe ralha e beija,
Erra, acerta, arruma a mesa, cozinha, escreve, trabalha fora,
Ri, esquece, lembra e chora, traz remédio e sobremesa.
Tem até pai que é "tipo-mãe" ...
Esse, então, é uma beleza !



NOME: _____ DATA: _____

1- LEIA O BILHETE COM ATENÇÃO E DEPOIS RESPONDA AS PERGUNTAS ABAIXO:

MAMÃE
HOJE ACORDEI COM VONTADE DE TE
ABRAÇAR, DE SENTAR NO SEU COLO
COMO QUANDO ERA CRIANÇA E DE
AGRADECER POR TUDO QUE FEZ POR
MIM ATÉ HOJE.
FELIZ DIA DAS MÃES!

DAIANA



A- QUEM ESCREVEU O BILHETE?

B- PARA QUEM O BILHETE FOI ESCRITO?

C- QUAL FOI O OBJETIVO DO BILHETE?

D- COMO FOI A DESPEDIDA DO BILHETE?

E- SE VOCÊ FOSSE ESCREVER UM BILHETE PARA SUA MÃE, COMO SERIA?

NOME: _____ DATA: _____

MAMÃE

O NOME DA MINHA MÃE É

ELA SABE FAZER TANTAS COISAS GOSTOSAS, COMO:

PRINCIPALMENTE

_____ QUE EU
ADORO!

QUANDO EU FAÇO ALGUMA
COISA ERRADA ELA FICA

_____, ÀS
VEZES ELA TOMA ATITUDES MAIS
ENÉRGICAS COMO

_____. EU SEI QUE ELA FAZ ISSO
PORQUE ME AMA MUITO E QUER ME
EDUCAR DIREITINHO.

MÃE VOCÊ É

_____ PARA MIM.
EU TE AMO!

PARABÉNS PELO SEU DIA!



NOME: _____ DATA: _____



Para Mamãe

Galinha Pintadinha

Toda mãe é feita de rosas
de carinho e de compreensão
e da maciez do algodão

Toda mãe é feita de um doce bem doce
e mais de mil corações
pra caber todo amor que mora nela

Pra mamãe lá lá lá
Toda mãe é feita de rosas
seja luz ou seja opção
venha da semente ou da afeição
toda mãe é feita do cheiro das flores
e mais de mil corações
Pra aquecer todo o céu que brilha nela
Pra mamãe lá lá lá



NOME: _____

DATA: _____



1. Este texto fala sobre:

- Dia dos pais
- Dia das mães
- Festa Junina

2. Segundo o texto toda mãe é feita de:

- coração
- rosas
- algodão
- margaridas

3. Por qual motivo a mãe possui mais de mil corações?

- devido a sua fragilidade
- para poder cuidar de seus filhos
- para caber todo o amor de mãe

4. A palavra **MAMÃE** possui:

- 1 sílaba
- 2 sílabas
- 3 sílabas
- 4 sílabas

5. Substitua os desenhos por palavras e escreva as frases.

TODA  É FEITA DE 

TODA MÃE É FEITA DE UM  BEM 



CORONAVÍRUS

Coronavírus é uma família de vírus que causam infecções respiratórias. Os vírus dessa família podem causar desde **resfriados** comuns a doenças mais graves. Ele gosta de viver no corpo **humano** e pode passar de uma pessoa para outra. Foi descoberto em dezembro de 2019, após casos registrados na China.

Esse vírus causa uma doença denominada COVID-19 que apresenta um quadro clínico que varia de infecções **assintomáticas** a quadros respiratórios graves. De acordo com a Organização Mundial de Saúde (OMS), a maioria dos pacientes

com COVID-19 (cerca de 80%) podem ser assintomáticos e cerca de 20% dos casos podem requerer atendimento hospitalar por apresentarem **dificuldade** respiratória e desses casos aproximadamente 5% podem necessitar de **suporte** para o tratamento de **insuficiência** respiratória (suporte ventilatório). Ainda não **existe** nem vacina nem remédio para curá-la.



✓ Sintomas

Os sintomas da COVID-19 podem variar de um simples resfriado até uma pneumonia severa. Sendo os sintomas mais comuns:

- Tosse
- Febre
- Coriza
- Dor de garganta
- Dificuldade para respirar

✓ Transmissão

A transmissão acontece de uma pessoa doente para outra ou por contato próximo por meio de:

- Toque do aperto de mão
- Gotículas de saliva
- Espirro
- Tosse
- Catarro
- Objetos ou superfícies contaminadas, como celulares, mesas, maçanetas, brinquedos, teclados de computador etc.

✓ Como se proteger?

As recomendações de prevenção à COVID-19 são as seguintes:

- Lave com frequência as mãos até a altura dos punhos, com água e sabão, ou então higienize com álcool em gel 70%.
- Ao tossir ou espirrar, cubra nariz e boca com lenço ou com o braço, e não com as mãos.
- Evite tocar olhos, nariz e boca com as mãos não lavadas.
- Ao tocar, lave sempre as mãos como já indicado.

NOME: _____ DATA: _____

PROBLEMATIZANDO

① Resolva os problemas abaixo.

a) Luiz é o pai de Júlia.
Júlia tem 20 anos e Luiz tem o dobro da idade de Júlia. Qual a idade de Luiz?

Resposta: _____

b) No pomar do sítio Fundão, foram colhidas 10 caixas de caqui. No sítio Serrinha foram colhidas o triplo de caixas.
Quantas caixas foram colhidas no sítio Serrinha?

Resposta: _____

c) Joana recebeu um abono do seu patrão no valor de R\$ 15,00 por suas vendas. No próximo mês, ela pretende vender o quádruplo desse valor. Qual será o valor de seu abono?

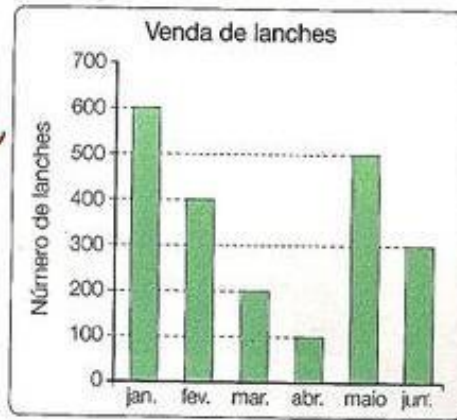
Resposta: _____

d) Um pedreiro, para fazer um muro, precisa de 8 sacos de cimento. Ele deseja fazer outro muro do mesmo tamanho. De quantos sacos de cimento ele precisará para fazer os dois muros?

Resposta: _____

NOME: _____ DATA: _____

1º) Observe o gráfico e responda:



a) Quantos lanches foram vendidos nos seguintes meses?

Janeiro _____ Abril _____

Fevereiro _____ Maio _____

Março _____ Junho _____

b) Em qual mês foi vendido mais lanche?

c) Em qual mês foi vendido menos lanche?

2º) Observe o gráfico abaixo e responda.



Escreva a idade das seguintes crianças:

a) Ana _____

b) Bárbara _____

c) Júlio _____

d) César _____

e) Tiago _____

f) Helena _____

NOME: _____ DATA: _____

ARLETE CHUPOU 30 BALAS E CECÍLIA 24 BALAS A MAIS QUE ARLETE.
QUANTAS BALAS CECÍLIA CHUPOU?

RESPOSTA: _____



TENHO 1 DEZENA DE BOLINHAS AZUIS E 2 DEZENAS DE BOLINHAS
VERDES NA MINHA COLEÇÃO. QUANTAS BOLINHAS TÊM EM TODA A
COLEÇÃO?

RESPOSTA: _____



OBSERVE A SEQUÊNCIA NUMÉRICA ABAIXO. ELA COMEÇA NO 24 E
TERMINA NO 36. QUAL É O NÚMERO QUE COMPLETA ESSA SEQUÊNCIA.

24 - 26 - 28 ____ 32 - 34 - 36

RESPOSTA: _____



CLÁUDIA COMPROU UM PACOTE COM 4 DEZENAS DE COPOS DE
PLÁSTICOS. QUANTOS COPOS DE PLÁSTICOS NO TOTAL CLÁUDIA
COMPROU?

RESPOSTA: _____



OBSERVE OS NÚMEROS NO QUADRO ABAIXO.

103 - 320 - 232 - 233

QUAL DESSES NÚMEROS É O MENOR?

RESPOSTA: _____



NOME: _____ DATA: _____

Nome: _____



DESAFIO

Responda as perguntas
e vença o desafio!



1. QUANTAS DEZENAS TEM NO NÚMERO 231? _____

2. O NÚMERO 632 TEM 3 CENTENAS? _____

3. QUANTAS CENTENAS TEM O NÚMERO 324? _____

4. QUAL VALOR DO 9 NO NÚMERO 592? _____

5. QUANTAS UNIDADES TEM O NÚMERO 627? _____

6. QUANTAS DEZENAS TEM O NÚMERO 498? _____

7. O NÚMERO 987 TEM 8 DEZENAS? _____

8. QUANTAS CENTENAS TEM O NÚMERO 129? _____

9. QUAL VALOR DO 7 NO NÚMERO 721? _____

10. QUANTAS UNIDADES TEM O NÚMERO 345? _____

Atividades

❖ Complete as tabelas abaixo:



Dobro	
25	50
33	
42	
54	
66	
75	
82	



Triplo	
16	
22	
27	
31	
40	
51	
60	



Quádruplo	
11	
18	
20	
26	
30	
35	
41	



Quíntuplo	
10	
15	
22	
25	
32	
18	
24	

❖ Calcule e encontre no caça-números o valor das afirmações abaixo:



1 9 0 2 0 1

• O dobro de 95 é **190**

2 6 9 9 8 7 6 1

• O quádruplo de 65 é

1 6 5 1 3 2 1 4

• O triplo de 55 é

2 7 0 7 4 1 3 6 5 8

• O quádruplo de 50 é

6 2 4 5 8 4 8 9 2 5 0 7

• O dobro de 40 é

0 2 3 4 5 1 6 4 8 0 2 5 8 1

Pintando seguindo as cores!



Azul

Número que representa 1 dezena.

Rosa

Antecessor de 41 e sucessor de 39.

Verde

O resultado da soma de 20 e 36.

Vermelho

Representa 1 dúzia.

Amarelo

Sete dezenas e nove unidades.

Roxo

Meia dúzia.

Laranja

Três dezenas.

NOME: _____ DATA: _____

MATEMÁTICA



– Complete de acordo com o indicado em cada coluna.

ANTES

40

12

32

51

19

23



ENTRE

10 12

19 21

51 53

9 11

60 62

59 61



DEPOIS

20

13

41

30

17

59



NOME: _____

DATA: _____

Situações problema com dinheiro

1- Quero comprar uma calça que custa R\$ 60,00. Tenho R\$15,00. Quanto ainda falta para juntar para comprar a calça?

- a) R\$ 30,00
- b) R\$ 15,00
- c) R\$ 45,00
- d) R\$ 50,00

2- Minha tia disse que tem as seguintes notas para gastar nas lojas da cidade:




Qual é a quantia que minha tia tem no total?

- a) R\$ 62,00
- b) R\$ 72,00
- c) R\$114,00
- d) R\$112,00

3- Conte as notas e descubra o total da quantia em dinheiro:



O total é _____

4- Comprei uma mochila por R\$43,00. Paguei com uma nota de . Quanto recebi

- de troco?
- a) R\$ 10,00
 - b) R\$ 9,00
 - c) R\$ 7,00
 - d) R\$ 6,00

NOME: _____ DATA: _____

Situações problema de divisão e multiplicação
Matemática

SUPERMERCADO

Maçã ou pera – o quilograma	R\$ 4,00
Uva – o quilograma	R\$ 6,00
Caqui – a dúzia	R\$ 2,00
Alface crespa – o pé	R\$ 1,00
Batata – o quilograma	R\$ 4,00
Cebola – o quilograma.....	R\$ 2,00
Ovos – 6 unidade.....	R\$ 2,00

Veja o preço destes alimentos e resolva as situações problema:

1. Calcule quanto o Sr. João gastou comprando estas quantidades:

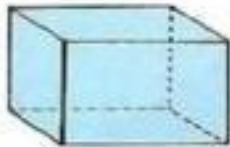
2 kg de maçã	1 kg e meio de pera	2 kg de uva	2 dúzias e meia de caqui
5 pés de alface crespa	6 kg de batata	3 kg de cebola	3 dúzias de ovos

NOME: _____ DATA: _____

SÓLIDOS GEOMÉTRICOS.

As figuras abaixo são sólidos geométricos. Tratam-se do cubo, do cilindro, do cone, da esfera, da pirâmide e do paralelepípedo.

Sólidos Geométricos



cubo



paralelepípedo



esfera



cilindro



cone



pirâmide

Os sólidos que tem superfície curva são chamados de **corpos redondos**.
Os sólidos que tem superfície plana são chamados de **poliedros**

1) Com qual sólido geométrico se parece?



a) se parece com:.....



b) se parece com:.....



c) se parece com:.....



d) se parece com:.....



e) se parece com:.....



f) se parece com:.....